



КАТАЛОГ ПИТАЊА ИЗ ПРАВИЛА РУКОМЕТНЕ ИГРЕ 2019



КАТАЛОГ ПИТАЊА ИЗ ПРАВИЛА РУКОМЕТНЕ ИГРЕ

2019

Каталог питања из Правила рукометне игре
ИХФ ажурирано издање од 16.08.2019.

* Многа питања имају више од једног тачног одговора

Припремили допуњено издање:

ЖИВАН СТАКИЋ
др МИРОСЛАВ ЈАНКОВИЋ



Разлике између Каталога питања из 2017 и новог каталога

🏆 Каталог је допуњен са 30 (тридесет) нових питања:

▪ Правило 2	6 нових питања	(2.44-2.49)
▪ Правило 4	3 нова питања	(4.59-4.61)
▪ Правило 6	2 нова питања	(6.23, 6.24)
▪ Правило 7	1 ново питање	(7.34)
▪ Правило 8	11 нових питања	(8.63-8.73)
▪ Правило 13	2 нова питања	(13.14, 13.15)
▪ Правило 14	4 нова питања	(14.20, 14.23)
▪ Правило 16	1 ново питање	(16.23)

🏆 Промењени су тачни одговори у питању 4.58

🏆 Измењен је редослед одговора у питању 8.60

Ажурирано 16.08.2019. год.

🏆 Промењени су тачни одговори у питању 13.15, те су у одговорима измењена правила на које се позивају тачни одговори

🏆 У питању 16.19, у одговорима су измењена правила на које се позивају тачни одговори

ПРАВИЛО 1

1.1) Које димензије игралишта прописују Правила игре?

- а) 40 x 20 м
- б) 42 x 20 м
- ц) 38 x 18 м
- д) Дужина између 38 и 42 метра, ширина између 18 и 22 метра

1.2) Које су захтеване унутрашње димензије гола?

- а) 1,92 x 2,92 м
- б) 2,00 x 3,00 м
- ц) 2,05 x 3,05 м
- д) 2,08 x 3,08 м


1.3) Колико је широка гол линија између статива ?

- а) 5 цм
- б) 6 цм
- ц) 8 цм
- д) 10 цм



ПРАВИЛО 2

- 2.1) **Голман БЕЛИ 1 брани шут и лопта се откотрља преко гол-аут линије. Одмах након тога огласи се завршни сигнал. Судије увиде да је утакмица завршена пет минута раније. Будући да су играчи још увек на игралишту, игра се наставља?**
- а) Голмановим бацањем за БЕЛУ екипу
 - б) Слободним бацањем за БЕЛУ екипу
 - ц) Без знака пиштаљком
 - д) После знака пиштаљком
- 2.2) **Након што аутоматски звучни сигнал означи полувреме, судија тренутно утврди да је прво полувреме завршило један минут раније. Исправна одлука?**
- а) Продужити друго полувреме за још један минут
 - б) Изгубљен је један минут који се не надокнађује
 - ц) Након одмора прво се игра један минут на истој страни као у првом полувремену, потом се замене стране и друго полувреме започиње нормално
 - д) Задржати играче на игралишту и тражити да одиграју преостали минут
- 2.3) **БЕЛИ 11 шутира на гол. Голман ЦРНИ 1 хвата лопту. Управо у том тренутку огласи се аутоматски сигнал за крај. Судије указују мериоцу времена да је у другом полувремену остало још 30 секунди за игру. Сви играчи су још на игралишту. Како треба наставити утакмицу ?**
- а) Слободним бацањем за ЦРНУ екипу
 - б) Голмановим бацањем за ЦРНУ екипу
 - ц) Слободним бацањем за БЕЛУ екипу
 - д) После знака пиштаљком
 - е) Без знака пиштаљком
- 2.4) **БЕЛА екипа изводи слободно бацање након финалног звиждука. Прво играч БЕЛИ 3 а затим и БЕЛИ 4 напусте терен, да би били замењени, прво БЕЛИ 5, а затим и БЕЛИ 6, уђу на терен. Која је од доле наведених тврдњи тачна?**
- а) Мерилац времена ће сигнализирати и упозорити на погрешну замену БЕЛЕ екипе
 - б) БЕЛИ 4 се кажњава са два минута због погрешне замене
 - ц) БЕЛИ 6 се кажњава са два минута због погрешне замене
 - д) Мерилац времена се неће огласити, јер нема прекршаја Правила игре
 - е) Слободно бацање за БЕЛУ екипу
 - ф) Слободно бацање за ЦРНУ екипу
- 2.5) **Слободно бацање за ЦРНУ екипу изведено је као директан шут на гол непосредно пред крај утакмице. Аутоматски сигнал за завршетак утакмице огласи се мало пре него што лопта уђе у гол. Исправна одлука?**
- а) Крај утакмице
 - б) Понављање слободног бацања за ЦРНУ екипу без звиждука
 - ц) Понављање слободног бацања за ЦРНУ екипу са звиждуком
 - д) Седмерац за ЦРНУ екипу



2.6) Мало пре краја утакмице играч ЦРНИ 2 добије лопту испред линије голмановог простора БЕЛЕ екипе и налази се у јасној ситуацији за постизање гола. Покуша постићи погодак, али га у томе спрече прекршајем. Пре него што је лопта напустила руку играча ЦРНОГ 2 зачује се аутоматска сирена за крај утакмице. Исправна одлука?

- а) Крај утакмице
- б) Слободно бацање за ЦРНУ екипу
- ц) Седмерац за ЦРНУ екипу
- д) Крај утакмице, примедба у записник са утакмице

2.7) Мало пре краја првог полувремена мора се још извести седмерац за БЕЛУ екипу. Играч БЕЛИ 9 изводи седмерац, лопта погоди у пречку, па у леђа голмана који стоји око 3 метра испред гола, и уђе у гол. Аутоматска сирена огласи се када је лопта летела од пречке до голманових леђа. Исправна одлука?

- а) Гол
- б) Седмерац мора бити поновљен
- ц) Полувреме је завршено - нема даљих одлука судија

2.8) Након истека времена игре, још треба извести седмерац. Судије чекају непосредни резултат бацања. Који судија треба да заврши утакмицу?

- а) Првоименовани судија
- б) Један од двојице судија
- ц) Судија у пољу
- д) Судија код гола

2.9) Када почиње утакмица?

- а) Када првоименовани судија да знак
- б) Кад лопта напусти руку извођача бацања
- ц) Кад мерилац времена покрене штоперицу или службени сат - семафор
- д) Након што судија у пољу да знак за извођење почетног бацања

2.10) Приликом тај-брејк процедуре – извођење седмераца, ко одлучује који ће се гол користити?

- а) Екипа која је добила жреб бацањем новчића
- б) Екипа која није добила жреб бацањем новчића
- ц) Судије
- д) Првоименовани судија



2.11) Слободно бацање за ЦРНУ екипу треба да се изведе након знака за крај утакмице. Пре него што је изведено, БЕЛИ 8 и БЕЛИ 9 су напустили терен у истом тренутку. Њих су заменили прво БЕЛИ 10 и одмах након тога БЕЛИ 11. Која од ових одлука је исправна?

- а) Мерилац времена сигнализира и указује судијама да је била погрешна замена код БЕЛЕ екипе
- б) 2-минута казне за играча БЕЛОГ 10 због погрешне замене
- ц) 2-минута казне за играча БЕЛОГ 11 због погрешне замене
- д) Мерилац времена се неће огласити, јер нема прекршаја правила игре
- е) БЕЛИ А11 се мора вратити у простор за замену играча, а играчу БЕЛОМ 8 или БЕЛОМ 9 је дозвољено да се врати на терен

2.12) Мало пре завршетка првог полувремена играч БЕЛИ 7 физички насрне на играча ЦРНОГ 5, и тиме спречи јасну ситуацију за постизање гола. Аутоматски сигнал за крај првог полувремена се огласи пре него што су судије стигле да свирају. Исправна одлука?

- а) Прво полувреме је завршено; нема казне играчу БЕЛОМ 7
- б) Прво полувреме је завршено; Слободно бацање или седмерац нису могући
- ц) Дисквалификација играча БЕЛОГ 7, писани извештај (црвени и плави картон показани од стране судија)
- д) Седмерац за ЦРНУ екипу
- е) Дисквалификација БЕЛОГ 7 (црвени картон показан од стране судија)

2.13) До када судије могу поништити гол који је већ досуђен?

- а) Све до звиждука за почетно бацање
- б) Све до звиждука за крај утакмице
- ц) Гол мора бити поништен ако је постигнут након што је мерилац времена прекинуо игру, такође ако је почетно бацање изведено пре него што је констатован прекид
- д) Не може се никад поништити

2.14) Судије су управо досудиле аут за БЕЛУ екипу. У том тренутку званичник БЕЛЕ екипе је затражио екипни тајм-аут. Која је од доле наведених тврдњи тачна?

- а) Екипни тајм-аут се не може дати, док је лопта ван игре
- б) Мерилац времена сигнализира, зауставља мерење времена показује рукама знак (сигнализација) бр. 15
- ц) Судије потврђују екипни тајм-аут за БЕЛУ екипу
- д) Записничар уноси у записник време екипног тајм-аута

2.15) У којој од ових ситуација је обавезан тајм-аут?

- а) Седмерац
- б) 2 минута искључења
- ц) Спољашњи утицај
- д) Дисквалификација



2.16) Игратч БЕЛИ 9 шутира на гол. Голман ЦРНЕ екипе хвата лопту. У том тренутку мерилац времена свира завршетак утакмице. Судије показују мериоцу времена да је остало још 30 секунди другог полувремена. Сви играчи остали су у пољу за игру. Како треба наставити утакмицу?

- а) Слободним бацањем за ЦРНУ екипу
- б) Голмановим бацањем за ЦРНУ екипу
- ц) Слободним бацањем за БЕЛУ екипу
- д) После знака пиштаљком

2.17) По заврштку регуларног тока утакмице, резултат је 20:20, утакмица мора бити настављена док се не добије победник. Исправна одлука?

- а) Један минут паузе пре него што почне продужетак
- б) Пет минута паузе пре него што почне продужетак
- ц) Један минут паузе између два полувремена продужетка
- д) Пет минута паузе између два полувремена продужетка

2.18) У којој од ових ситуација је обавезан тајм-аут?

- а) 2 минута искључења
- б) Слободно бацање
- ц) Пасивна игра
- д) Погрешна замена
- е) Опомена
- ф) Аут



2.19) Кома није дозвољено да учествује у извођењу седмераца, када је утакмица завршена нерешено, након продужетка?

- а) Играч који је увредио судије, одмах након завршетка продужетка
- б) Голмани
- ц) Играч који је искључен на 2 минута, а казна му није истекла након продужетка
- д) Дисквалификовани играч
- е) Играч којем је указана медицинска помоћ на терену, а још увек нису прошла 3 напада његове екипе

2.20) Голман БЕЛИ 12 зауставља шут 5 секунди пре краја утакмице. Лопта погоди таваницу изнад голмановог простора. Аутоматски сигнал за крај утакмице се одмах чује, пре извођења аута од стране ЦРНЕ екипе. Исправна одлука?

- а) Аут за ЦРНУ екипу након звиждука
- б) Тајм - аут
- ц) Утакмица је завршена
- д) Мора се сачекати исход аута, иако је утакмица завршена

2.21) ЦРНОМ 8 је већ изречена опомена. За време екипног тајм-аута он седи на клупи и на неспортски начин се обраћа судијама. Исправна одлука?


- а) Дисквалификација играча ЦРНОГ 8 (црвени картон показан од стране судија)
- б) 2 минута искључења ЦРНОГ 8
- ц) Опомена ЦРНОМ 8
- д) Даљи поступак није могућ
- е) ЦРНА екипа ће бити редукована за једног играча на терену, када игра буде била настављена после екипног тајм-аута

2.22) Кома је дозвољено да учествује у тај-брејк извођењу седмераца?

- а) Сви играчи који су уписани у записник утакмице
- б) Играчи који нису били дисквалификовани
- ц) Играчи који не издржавају казну од два минута кад је завршен продужетак
- д) Играчи који су добили дозволу судија

2.23) После аутоматског сигнала за крај утакмице, остало је још да се изведе слободно бацање. ЦРНИ 9 је заузео исправну позицију и шутира на гол БЕЛЕ екипе. Када је лопта напустила руку ЦРНОГ 9, чује се пиштаљка мериоца времена. Лопта улази у гол, тако да голман није имао шансе да одбрани шут. Мерилац времена обавештава судије о играчу БЕЛОМ 7, који је ушао у поље за игру да замени БЕЛОГ 6, непосредно пре него што је слободно бацање изведено. Исправна одлука?

- а) Искључење играча БЕЛОГ 7 на 2 минута
- б) Дисквалификација играча БЕЛОГ 7 (црвени картон показан од стране судија)
- ц) Гол за ЦРНУ екипу
- д) Седмецац за ЦРНУ екипу
- е) Понављање слободног бацања за ЦРНУ екипу, после знака пиштаљком



2.24) Утакмица је завршена нерешено после продужетка, а пропозиције налажу да победника треба да одлуче седмерци. БЕЛИ 7 је добио 2 минута искључења у 9. минуту последњег продужетка. Он је одређен од стране "одговорног представника екипе" да учествује у извођењу седмераца. Исправна одлука?

- а) БЕЛОМ 7 је дозвољено да учествује
- б) БЕЛОМ 7 није дозвољено да учествује

2.25) Када је тајм-аут обавезан?

- а) Када звеничник екипе добије искључење на 2 минута
- б) Када играч добије треће искључење на 2 минута
- ц) После поновљеног неспортског понашања
- д) Када је потребно да се судије међусобно консултују
- е) После грубог неспортског понашања
- ф) После жутог картона показаног званичнику екипе

2.26) Мало пре завршетка првог полувремена играч БЕЛИ 7 физички насрне на играча ЦРНОГ 5, и тиме спречи јасну ситуацију за постизање гола. Аутоматски сигнал за крај првог полувремена се огласи пре него што су судије стигле да свирају. Правилна одлука?


- а) Прво полувреме је завршено; нема даљих акција
- б) Дисциплинација БЕЛОГ 7 без писаног извештаја (црвени картон показан од стране судија)
- ц) Седмерац за ЦРНУ екипу
- д) Слободно бацање за ЦРНУ екипу
- е) Дисциплинација БЕЛОГ 7; писани извештај (црвени и плави картон показани од стране судија)
- ф) БЕЛА екипа ће бити редукована 2 минута за једног играча на терену, на почетку другог полувремена

2.27) Након звиждука за крај полувремена мора се још извести и слободно бацање. Који се играчи још увек могу заменити?

- а) Сви играчи обе екипе
- б) Само играчи одбрамбене екипе
- ц) Само играчи екипе која изводи бацање
- д) Само један играч екипе која изводи бацање
- е) Играч у пољу одбрамбене екипе голманом, ако екипа у том тренутку игра без голмана

2.28) Који положај морају да заузму играчи за време извођења слободног бацања након сигнала за крај?

- а) Сви саиграчи извођача морају бити изван линије слободног бацања противника
- б) Сви саиграчи извођача морају бити на сопственој половини терена
- ц) Противнички играчи морају бити 3 метра удаљени од извођача или на сопственој линији голмановог простора
- д) Сви саиграчи извођача морају бити најмање 3 метра удаљени од извођача
- е) Сви саиграчи извођача могу стајати заједно са извођачем на линији слободног бацања противника



2.29) Нападач БЕЛИ 7 додаје лопту свом саиграчу БЕЛОМ 8. У том моменту мерилац времена свира екипни тајм-аут за БЕЛУ екипу. Судије и играчи не чују сигнал и БЕЛИ 8 додаје лопту БЕЛОМ 10 који је у јасној ситуацији за постизање гола. БЕЛИ 10 је фаулиран од стране ЦРНОГ 5. Судије досуђују седмерац за БЕЛУ екипу и искључују ЦРНОГ 5 на 2 минута. Након тога судије схватају да је мерилац времена већ дао сигнал, зато што је затражен екипни тајм-аут за БЕЛУ екипу. Исправна одлука?

- а) Седмерац за БЕЛУ екипу
- б) 2 минута искључења за ЦРНОГ 5
- ц) Екипни тајм-аут за БЕЛУ екипу
- д) Голманово бацање за ЦРНУ екипу
- е) Сигнал за наставак
- ф) Наставља се слободним бацањем за БЕЛУ екипу са позиције где је БЕЛИ 7 био у тренутку звиждука мериоца времена

2.30) Знак за крај првог полувремена дат је минут раније. У тренутку звиждука ниједна екипа није имала лопту у поседу, нити је било прекршаја Правила игре. Лопта је била на поду, у пољу за игру. Обе екипе су још увек на терену. Исправна одлука?


- а) Један минут се неће играти
- б) Један минут ће се играти пре паузе између два полувремена
- ц) Један минут ће се играти после одмора, пре почетке другог полувремена
- д) Један минут се додаје у другом полувремену
- е) Могуће је доћи до решења бацањем новчића, која екипа ће имати лопту када се буде играо један минут
- ф) Екипа која је последња имала лопту у поседу, има је и на почетку игре у наставку утакмице

2.31) Прво полувреме утакмице је завршено један минут раније. Није било прекршаја Правила игре и лопта је била у ваздуху изнад голмановог простора. Голман је ухватио лопту после звучног сигнала. Обе екипе су још увек на терену. Исправна одлука?

- а) Један минут се не игра
- б) Један минут ће се играти пре паузе између два полувремена
- ц) Један минут ће се играти после паузе, пре почетка другог полувремена
- д) Један минут се додаје у другом полувремену
- е) Екипа која је последња имала лопту у поседу, имаће лопту и на почетку наставка утакмице
- ф) Утакмица се наставља голмановим бацањем

2.32) Прво полувреме утакмице завршено је минут раније. Није било прекршаја Правила игре и лопта је била у ваздуху изнад голмановог простора. После звучног сигнала, лопта одлази преко гол-аут линије. Обе екипе су још увек на терену. Исправна одлука?

- а) Један минут се не игра
- б) Један минут ће се играти пре паузе између два полувремена
- ц) Један минут ће се играти после паузе, пре почетка другог полувремена
- д) Један минут се додаје у другом полувремену
- е) Екипа која је имала последња лопту у поседу, имаће лопту и на почетку наставка утакмице
- ф) Утакмица се наставља голмановим бацањем



2.33) БЕЛА екипа је постигла гол, а ЦРНА екипа жели на брзо да изведе почетно бацање. Стога ЦРНИ 5 брзо води лопту према средишњој линији. Притом пролази поред БЕЛОГ 3 који му отвореним дланом избије лопту тако да лопта погоди ЦРНОГ 5 у стопало и откотрља се преко средишње линије на половину БЕЛЕ екипе. Исправна одлука?

- а) Тајм-аут
- б) Почетно бацање за ЦРНУ екипу
- ц) Прогресивно кажњавање за играча БЕЛОГ 3
- д) Слободно бацање за БЕЛУ екипу

2.34) У којим ситуацијама тајм-аут НИЈЕ обавезан?

- а) Лопта одлази далеко изван поља за игру
- б) Звиждук мериоца времена
- ц) Играч симулира повреду
- д) Када судије покажу различите правце приликом доношења одлуке
- е) Када голман замени играча у пољу, да би извео голманово бацање

2.35) Ко може затражити екипни тајм-аут?

- а) Један од **званичника** екипе
- б) Играч
- ц) Само "одговорни представник екипе"
- д) Капитен екипе

2.36) Која је од следећих констатација, које се односе на екипни тајм-аут исправна?

- а) Екипни тајм-аут може да затражи само "одговорни представник" екипе
- б) Ако је екипни тајм-аут затражен када је лопта у поседу противника, мерилац времена мора вратити "зелени картон" назад званичнику екипе
- ц) Време од једног минута за екипни тајм-аут почиње, када мерилац времена да знак пиштаљком
- д) Прекршаји правила игре у току екипног тајм-аута имају исте последице као за време трајања игре
- е) После екипног тајм-аута, утакмица се увек наставља " бацањем" за екипу која је тражила екипни тајм-аут

2.37) БЕЛА екипа има лопту у поседу. Један од званичника ЦРНЕ екипе тражи екипни тајм-аут, стављајући "зелени картон" на сто испред мериоца времена. Исправна одлука?

- а) Зелени картон је стављен на сто
- б) Мерилац времена ће звиждати, уколико ускоро лопта дође у посед ЦРНЕ екипа
- ц) Мерилац времена враћа "зелени картон" назад званичнику екипе
- д) Само "одговорни представник екипе " може затражити екипни тајм-аут

2.38) ЦРНИ 3 покушава да шутне на гол. Ипак, лопта остаје да лежи у голмановом простору, а да је нико од играча пре тога није додирнуо. У том тренутку званичник ЦРНЕ екипе затражи екипни тајм-аут. Исправна одлука?

- а) Мерилац времена свира, зауставља сат и у истом тренутку показује судијама да је то тајм-аут за ЦРНУ екипу
- б) Мерилац времена враћа назад зелени картон одговорном представнику ЦРНЕ екипе
- ц) Игра се наставља слободним бацањем за ЦРНУ екипу
- д) Голманово бацање за БЕЛУ екипу

2.39) Голман БЕЛИ 1 додаје лопту БЕЛОМ 8, који је сам испред голмановог простора ЦРНЕ екипе. Непосредно него што је лопта дошла до играча БЕЛОГ 8, чује се звиждук мериоца времена, јер је званичник А БЕЛЕ екипе затражио екипни тајм-аут у овом несрећном тренутку. Како ће се игра наставити?

- а) Слободним бацањем за БЕЛУ екипу, изван голмановог простора БЕЛЕ екипе
- б) Слободним бацањем за БЕЛУ екипу, код простора за замену играча БЕЛЕ екипе
- ц) Седмерац за БЕЛУ екипу
- д) Слободно бацање за БЕЛУ екипу, са линије слободног бацања ЦРНЕ екипе

2.40) БЕЛИ 4 блокира шут играча ЦРНОГ 11. Лопта додирне таваницу изнад голмановог простора. Непосредно након тога званичник А ЦРНЕ екипе ставља "зелени картон" на сто испред мериоца времена. Исправна одлука?

- а) ЦРНА екипа моментално добија тајм-аут
- б) ЦРНА екипа не добија екипни тајм-аут, јер је лопта додирнула плафон
- ц) ЦРНА екипа не добија тајм-аут, јер ће БЕЛА екипа имати лопту у поседу када се утакмица буде наставила
- д) ЦРНА екипа добија екипни тајм-аут, али тек када се утакмица настави

2.41) БЕЛА екипа има лопту у поседу и тражи екипни тајм-аут. Због буке, судије нису чуле звук сирене мериоца времена. Тек након 10 секунди, када ЦРНА екипа има лопту у поседу, судије чују сигнал са стола. Исправна одлука?

- а) Додељује се тајм-аут
- б) Игра се наставља слободним бацањем за ЦРНУ екипу
- ц) Не додељује се тајм-аут
- д) Игра се наставља са слободним бацањем за БЕЛУ екипу

2.42) У 78:00 играч БЕЛИ 7 добија 2 минута искључења. Касније се утакмица заврши нерешено, а пропозиције захтевају да се победник добије извођењем тај-брејк седмераца. БЕЛИ 7 је од стране одговорног представника екипе одређен да учествује у извођењу седмераца. БЕЛИ 7 изводи седмерац и постиже гол. Исправна одлука?

- а) Гол је важећи, БЕЛОМ 7 је дозвољено учешће
- б) Гол није важећи, БЕЛОМ 7 није дозвољено учешће
- ц) Шут се поништава
- д) Дисквалификација БЕЛОГ 7

2.43) У 55:00 одговорни представник БЕЛЕ екипе тражи екипни тајм-аут, који је други на утакмици. У 59:00 исти одговорни представник тражи трећи тајм-аут. Исправна одлука?

- а) Екипни тајм-аут је могућ
- б) Екипни тајм-аут није могућ
- ц) Технички делегат треба да одузме трећи зелени картон, када је други екипни тајм-аут искоришћен

2.44) БЕЛА екипа је у нападу. Званичник А БЕЛЕ екипе жели затражити екипни тајм аут и одлази до записничког стола где ставља зелени картон испред мериоца времена. У том тренутку БЕЛИ 4 шутира према голу и постиже погодак. Мерилац времена звижди за екипни тајм аут кад је лопта већ прешла гол линију ЦРНЕ екипе. Исправна одлука?

- а) Гол за БЕЛУ екипу
- б) Гол није исправан, зато што је БЕЛА екипа затражила екипни тајм аут
- ц) Екипни тајм аут за БЕЛУ екипу
- д) Није дозвољен екипни тајм аут за БЕЛЕ из разлога што више немају лопту у поседу
- е) Зелени картон се мора вратити екипи
- ф) Почетно бацање за ЦРНУ екипу

2.45) БЕЛА екипа је имала други екипни тајм аут у 55:10. У 59:25, званичник А БЕЛЕ екипе жели затражити трећи екипни тајм аут за своју екипу, те ставља зелени картон на записнички сто испред мериоца времена. БЕЛА екипа има лопту у поседу. Мерилац времена звижди и зауставља време и показује екипни тајм аут за БЕЛЕ. Исправна одлука?

- а) Екипни тајм аут за БЕЛУ екипу
- б) Није дозвољен екипни тајм аут
- ц) Прогресивна казна за званичника А БЕЛЕ екипе
- д) Утакмица се наставља слободним бацањем за БЕЛУ екипу
- е) Утакмица се наставља слободним бацањем за ЦРНУ екипу

2.46) БЕЛА екипа жели затражити екипни тајм аут. Званичник А БЕЛЕ екипе ставља зелени картон испред мериоца времена. У том тренутку, БЕЛИ 9 шутира према голу ЦРНЕ екипе. Мерилац времена звижди док је лопта у ваздуху. Одмах после звиждука, голман ЦРНИ 12 хвата лопту. Која је исправна одлука ?

- а) Није могућ екипни тајм аут из разлога што БЕЛА екипа нема лопту у поседу
- б) Екипни тајм аут за БЕЛУ екипу
- ц) Зелени картон се враћа БЕЛОЈ екипи
- д) Утакмица се наставља голмановим бацањем за ЦРНУ екипу
- е) Утакмица се наставља слободним бацањем за БЕЛУ екипу



2.47) БЕЛА екипа жели затражити екипни тајм аут. Званичник А БЕЛЕ екипе ставља зелени картон испред мериоца времена. Пре него што је мерилац времена звиждао за екипни тајм аут, БЕЛИ 9 шутира на гол. Ударац је заустављен од стране голмана ЦРНОГ 12, мерилац времена звижди док се лопта котрљала у голмановом простору. Која је исправна одлука?

- а) Није могућ екипни тајм аут из разлога што БЕЛА екипа нема лопту у поседу
- б) Екипни тајм аут за БЕЛУ екипу
- ц) Зелени картон се враћа БЕЛОЈ екипи
- д) Утакмица се наставља голмановим бацањем за ЦРНУ екипу
- е) Утакмица се наставља слободним бацањем за БЕЛУ екипу

2.48) БЕЛА екипа жели затражити екипни тајм аут. Званичник А БЕЛЕ екипе ставља зелени картон испред мериоца времена. Пре него што је мерилац времена звиждао за екипни тајм аут, БЕЛИ 9 шутира на гол. Ударац је одбрањен од стране голмана ЦРНОГ 12, мерилац времена звижди после одбране док је лопта у ваздуху изнад голмановог простора. Која је исправна одлука?

- а) Није могућ екипни тајм аут из разлога што БЕЛА екипа нема лопту у поседу
- б) Екипни тајм аут за БЕЛУ екипу
- ц) Зелени картон се враћа БЕЛОЈ екипи
- д) Утакмица се наставља голмановим бацањем за ЦРНУ екипу
- е) Утакмица се наставља слободним бацањем за БЕЛУ екипу

2.49) БЕЛА екипа жели затражити екипни тајм аут. Званичник А БЕЛЕ екипе ставља зелени картон испред мериоца времена. Пре него што је мерилац времена звиждао за екипни тајм аут, БЕЛИ 11 направи прекршај у нападу. Мерилац времена звижди тренутак пре него што су судије досудиле (звиждале) прекршај у нападу. Која је исправна одлука ?

- а) Судије одлучују да није могућ екипни тајм аут из разлога што се прекршај у нападу десио пре него што је мерилац времена звиждао за екипни тајм аут
- б) Екипни тајм аут за БЕЛУ екипу
- ц) Зелени картон се враћа БЕЛОЈ екипи
- д) Утакмица се наставља слободним бацањем за ЦРНУ екипу
- е) Утакмица се наставља слободним бацањем за БЕЛУ екипу

ПРАВИЛО 3

3.1) Колико боја може имати лопта?

- а) 1
- б) 2
- ц) 3
- д) неограничено

3.2) Коју од наведене четири лопте треба да одаберу судије за утакмицу мушкараца?

- а) Обима 57 цм -- тежине 450 грама
- б) Обима 58 цм -- тежине 400 грама
- ц) Обима 59 цм -- тежине 425 грама
- д) Обима 60 цм -- тежине 500 грама

3.3) Коју од наведене четири лопте треба да одаберу судије за утакмицу жена?

- а) Обима 53 цм -- тежине 350 грама
- б) Обима 54 цм -- тежине 300 грама
- ц) Обима 55 цм -- тежине 425 грама
- д) Обима 56 цм -- тежине 375 грама

3.4) Судије су донеле одлуку да се унесе резервна лопта у игру. Када ће прва лопта бити поново коришћена?

- а) За време следећег прекида
- б) Она не може бити поново коришћена, изузев ако је резервну лопту немогуће користити
- ц) Када судије нађу потребу за њено поновно коришћење
- д) Ако једна од екипа затражи њено поновно коришћење



ПРАВИЛО 4

4.1) Мало пре почетка утакмице БЕЛИ 11 се тешко повреди, тако да није у стању да игра. Исправна одлука?

- а) БЕЛИ 11 не може бити замењен
- б) БЕЛИ 11 се може заменити, ако противник то прихвати
- ц) БЕЛИ 11 може бити замењен, његова замена сме носити број 11 и мора бити уписан у записник утакмице. Судије, ипак, треба да сагледају специјалне разлике пропозиција за одређена такмичења
- д) БЕЛИ 11 може бити замењен, али његова замена не сме носити број 11

4.2) ЦРНА екипа излази на терен са пет играча у пољу. На почетку утакмице голман није присутан. ЦРНА екипа одреди играча ЦРНОГ 5 као голмана. Које су последице за ЦРНОГ 5?

- а) ЦРНИ 5 се може користити као играч у пољу, у било које време, ако се направи правилна замена
- б) ЦРНИ 5 се не може више користити као играч у пољу
- ц) ЦРНИ 5 се може користити као играч у пољу, ако то прихвате званичници БЕЛЕ екипе
- д) ЦРНИ 5 се може користити као играч у пољу, чим предвиђени голман буде био присутан

4.3) Одмах након почетка утакмице, председник БЕЛЕ екипе је сео на клупу са два званичника, физиотерапеутом и тренером. Које су последице?


- а) Резервни голман мора стајати иза клупе
- б) Председник мора напустити простор за замену играча
- ц) Један од званичника мора напустити простор за замену играча
- д) Ко није уписан у записник утакмице мора напустити простор за замену играча
- е) "Одговорни представник екипе" добија прогресивну казну

4.4) Који је најмањи број играча који морају бити присутни на игралишту на почетку утакмице и бити уписани у записник утакмице?


- а) 5 играча
- б) 4 играча у пољу и 1 голман
- ц) 5 играча у пољу и 1 голман
- д) 6 играча у пољу

4.5) Четири сценарија: Ко има право наступа?

- а) Играч који је присутан на почетку утакмице и уписан у записник са утакмице
- б) Играч који није присутан на почетку утакмице, али је уписан у записник са утакмице
- ц) Играч који је присутан на почетку утакмице, али није уписан у записник са утакмице
- д) Играч који је добио дозволу за играње од мериоца времена, али није уписан у записник




- 4.6) На почетку утакмице присутно је само 6 играча БЕЛЕ екипе. Непосредно после почетка утакмице пољављују се и остали играчи. БЕЛИ 7 утрчава у поље за игру кроз простор за замену играча. Он није уписан у записник утакмице. Која је правилна одлука?
- а) Дисквалификација БЕЛОГ 7 (црвени картон показан од стране судија)
 - б) Искључење на 2 минута БЕЛОГ 7, који мора да се упише у записник са утакмице
 - ц) БЕЛИ 7 мора бити уписан у записник, уколико је ово у складу са прописима одговорне федерације
 - д) Прогресивно кажњавање "одговорног представника" БЕЛЕ екипе
- 4.7) Судије су досудиле слободно бацање за БЕЛУ екипу, са линије слободног бацања ЦРНЕ екипе. Мало затим, чује се звиждук мериоца времена који зауставља сат. Судије су обавештене о разлогу интервенције мериоца времена. Мерилац времена обавештава судије да је играч А9 направио погрешну измену. Исправна одлука?
- а) Слободно бацање за БЕЛУ екипу са линије слободног бацања ЦРНЕ екипе
 - б) Слободно бацање за ЦРНУ екипу са своје линије слободног бацања
 - ц) Слободно бацање за ЦРНУ екипу код простора за замену играча БЕЛЕ екипе
 - д) 2 минута казне за БЕЛОГ 9
- 4.8) ЦРНИ 14 прави исправну замену док је утакмица у прекиду. Међутим, са записничког стола се огласи мерилац времена. ЦРНИ 14 није уписан у записник утакмице. Установи се да тај играч носи број 18 у записнику утакмице. Исправна одлука?
- а) Прогресивна казна за "одговорног представника" ЦРНЕ екипе Б
 - б) Слободно бацање за БЕЛУ екипу код записничког стола
 - ц) Број треба исправити у записнику утакмице
 - д) Игра се наставља бацањем које одговара ситуацији. Писани извештај.
- 4.9) Када је дозвољено да "две особе" (званичници екипе и/или играчи) уђу оље за игру?
- а) За време прекида игре
 - б) За време тајм-аута, након дозволе судија
 - ц) Када је играч повређен
 - д) После дозволе од стране мериоца времена
- 4.10) Судија свира и показује тајм-аут, јер је играчу БЕЛОМ 2 досуђено треће искључење на 2 минута. Судија се окрене према мериоцу времена и записничару да пријави дисквалификацију, а одговорни представник БЕЛЕ екипе утрчи у поље за игру протестујући против искључења. Званичник Б БЕЛЕ екипе већ је раније добио опомену. Исправна одлука?
- а) Дисквалификација одговорног представника БЕЛЕ екипе (црвени картон показан од стране судија) и редуција БЕЛЕ екипе за једног играча у пољу на 2 минута
 - б) Лична опомена одговорном представнику БЕЛЕ екипе
 - ц) Дисквалификација одговорног представника БЕЛЕ екипе са писаним извештајем (црвени и плави картон показани од стране судија)
 - д) 2 минута искључења за одговорног представника БЕЛЕ екипе
 - е) Редуција БЕЛЕ екипе за додатног играча 2 минута на терену



- 4.11) За време тајм-аута због повреде играча, БЕЛИ 2 утрчи као додатни играч у поље за игру, иако ниједан од судија није дао одобрење за улазак на терен. Исправна одлука?**
- а) Опомена за БЕЛОГ 2
 - б) Прогресивна казна за одговорног представника БЕЛЕ екипе
 - ц) Дисквалификација БЕЛОГ 2 (црвени картон показан од стране судија)
 - д) 2 минута искључења за БЕЛОГ 2 и редукација његове екипе за једног играча на терену на 2 минута
- 4.12) БЕЛИ 5 је повређен на терену и судија у пољу показује тајм-аут дајући дозволу да две особе из БЕЛЕ екипе уђу на терен и помогну БЕЛОМ 5. Званичник Б ЦРНЕ екипе такође уђе на терен и даје савете свом голману. Исправна одлука?**
- а) Нема казне, сигнал дозвољава свим играчима и званичницима да уђу на терен
 - б) Сва четири званичника ЦРНЕ екипе добијају опомене и ако се то буде поновило морају бити дисквалификовани
 - ц) Одговорни представник ЦРНЕ екипе добија опомену
 - д) Прогресивна казна званичнику Б ЦРНЕ екипе
 - е) Након указане медицинске помоћи на терену БЕЛИ 5 мора одмах да напусти терен и може се поново вратити након три напада његове екипе
- 4.13) Голман БЕЛИ 16 је повређен и мора бити замењен БЕЛИМ 5. БЕЛИ 5 мења дрес. После 20 минута БЕЛИ 16 је поново спреман да игра и званичник А БЕЛЕ екипе врши замену. БЕЛИ 5 поново мења дрес и улази као играч у пољу, без јављања записничару. Исправна одлука?**
- а) Нема казне, то је дозвољено
 - б) Слободно бацање за ЦРНУ екипу
 - ц) 2 минута казне за БЕЛОГ 5
 - д) Дисквалификација БЕЛОГ 5 (црвени картон показан од стране судија)
- 4.14) БЕЛИ 4 напушта терен изван линија за замену играча. Када је БЕЛИ 4 прешао уздужну линију, али пре него што је стигао у свој простор за замену играча, БЕЛИ 11 исправно прелази линију и улази на терен. Исправна одлука после звиждука мериоца времена?**
- а) Слободно бацање за ЦРНУ екипу са места где је БЕЛИ 4 напустио терен
 - б) Слободно бацање за ЦРНУ екипу у висини простора за замену играча БЕЛЕ екипе
 - ц) 2 минута искључења за БЕЛОГ 4
 - д) 2 минута искључења за БЕЛОГ 11
 - е) 2 минута искључења за БЕЛОГ 4 и БЕЛОГ 11
- 4.15) ЦРНИ 3 прави прву погрешну замену за своју екипу, за време прекида игре. Игра је прекинута досуђивањем слободног бацања за ЦРНУ екипу. ЦРНИ 3 до тада није био кажњаван. Исправна одлука?**
- а) Опомена ЦРНОМ 3
 - б) 2 минута искључења за ЦРНОГ 3
 - ц) Слободно бацање за БЕЛУ екипу
 - д) Слободно бацање за ЦРНУ екипу

- 4.16) Након што су судије досудиле седмерац за БЕЛУ екипу, БЕЛИ 27, који је одређен да изведе седмерац, прави погрешну замену. Исправна одлука?**
- а) Слободно бацање за ЦРНУ екипу
 - б) Седмерац за БЕЛУ екипу
 - ц) Голманово бацање за ЦРНУ екипу
 - д) 2 минута искључења за БЕЛОГ 27
- 4.17) БЕЛА екипа је постигла гол. Судије још увек нису дале знак да се изведе почетно бацање, када ЦРНИ 10 улази на терен, пре него што је ЦРНИ 6 напустио терен. Исправна одлука?**
- а) Почетно бацање
 - б) Слободно бацање за БЕЛУ екипу
 - ц) 2 минута искључења за ЦРНОГ 10
 - д) 2 минута искључења за ЦРНОГ 6
- 4.18) БЕЛА екипа има само 12 играча присутних на почетку утакмице, будући да два голмана још увек нису стигла. БЕЛА екипа стога почиње са једним од 12 играча у пољу као голманом. Која је од понуђених алтернатива исправна?**
- а) Играч у пољу, који почиње утакмицу као голман, мора имати број 1, 12 или 16 у записнику утакмице
 - б) Играч у пољу, који почиње утакмицу као голман, може касније играти утакмицу као играч у пољу
 - ц) Касније пристигли голмани БЕЛЕ екипе морају имати бројеве 1, 12 или 16 у записнику утакмице
 - д) Један од два заказнела голмана може се користити само као играч у пољу
- 4.19) За време тајм-аута, БЕЛИ 5 направи прву неправилну замену за своју екипу. БЕЛА екипа је имала лопту у поседу када је дат тајм-аут. Исправна одлука?**
- а) Нема казне
 - б) опомена за БЕЛОГ 5
 - ц) Искључење на 2 минута за БЕЛОГ 5
 - д) Слободно бацање за ЦРНУ екипу
 - е) Лопта остаје у поседу БЕЛЕ екипе
- 4.20) Голман БЕЛИ 3 треба да изведе седмерац. Ради заштите празног гола, БЕЛИ 15 улази у поље за игру у дресу голмана мењајући играча у пољу. Исправна одлука?**
- а) 2 минута искључења за БЕЛОГ 3
 - б) 2 минута искључења за БЕЛОГ 15
 - ц) Нема кажњавања
 - д) Седмерац за БЕЛУ екипу
 - е) Слободно бацање за ЦРНУ екипу у висини простора за замену играча БЕЛЕ екипе



- 4.21) За време контранапада БЕЛЕ екипе, која има јасну ситуацију за постизање гола, ЦРНИ 3 направи погрешну замену. Мерилац времена/записничар не реагују, али је судија у пољу уочио шта се догодило. Исправна одлука?**
- а) Тренутно искључење ЦРНОГ 3 и слободно бацање за БЕЛУ екипу
 - б) Тренутно искључење ЦРНОГ 3 и седмерац за БЕЛУ екипу
 - ц) Сачекати исход гол шансе, затим 2 минута искључења за ЦРНОГ 3 и слободно бацање за БЕЛУ екипу
 - д) Сачекати исход гол шансе, затим 2 минута искључења за ЦРНОГ 3 и одредити бацање према ситуацији
- 4.22) Голман БЕЛИ 1 зауставља лопту упућену на гол и лопта се откогрља дуж аута у близини клупе за резервне играче БЕЛЕ А. БЕЛИ 5, који седи на клупи, испружи ногу у поље за игру и заустави лопту тако да је БЕЛИ 4 може подићи пре него што пређе аут линију. Исправна одлука?**
- а) Слободно бацање за ЦРНУ екипу
 - б) Аут за ЦРНУ екипу
 - ц) 2 минута искључења за БЕЛОГ 5
 - д) Дисквалификација БЕЛОГ 5 (црвени картон показан од стране судија)
 - е) БЕЛА екипа ће бити редукована за једног играча на терену на 2 минута
- 4.23) 30 секунди пре истека временске казне, БЕЛИ 3 улази у поље за игру без утицаја на ток игре. БЕЛА екипа има лопту у поседу. Исправна одлука?**
- а) Слободно бацање за ЦРНУ екипу
 - б) Слободно бацање за БЕЛУ А
 - ц) 2 минута искључења за БЕЛОГ 3 и БЕЛА екипа се даље редукује за једног играча у пољу за 30 секунди
 - д) 30 секунди за играча БЕЛОГ 3 и БЕЛА екипа се даље редукује за једног играча у пољу за игру за 2 минута
 - е) Дисквалификација за БЕЛОГ 3 (црвени картон показан од стране судија) и БЕЛА екипа се даље редукује за једног играча у пољу за игру за 30 секунди
- 4.24) БЕЛИ 5 је искључен. Након 1 минута и 45 секунди казне од 2 минута званичник А БЕЛЕ екипе пошаље БЕЛОГ 5 на терен. Исправна одлука?**
- а) Друго искључење на 2 минута за БЕЛОГ 5 и БЕЛА екипа се редукује за једног играча на терену за 2 минута и 15 секунди
 - б) Дисквалификација играча БЕЛОГ 5 (црвени картон показан од стране судија) и БЕЛА екипе се редукује за два играча на терену за 15 секунди и за једног играча на терену за 1 минут и 45 секунди
 - ц) Друго искључење за БЕЛОГ 5 и БЕЛА екипа се редукује за два играча на терену за 15 секунди и за једног играча на терену за 1 минут и 45 секунди
- 4.25) По истеку казне од 2 минута искључења, голман ЦРНИ 1 жели да се поново придружи екипи, која је у том моменту у одбрани. Он улази на терен носећи свој голмански дрес и заузима крилну позицију, као шести играч у пољу ЦРНЕ екипе. Исправна одлука?**
- а) Игра се наставља без прекидања
 - б) Седмерац за БЕЛУ екипу
 - ц) Слободно бацање за БЕЛУ екипу
 - д) 2 минута искључења за ЦРНОГ 1

4.26) Шта је исправно, с обзиром на то да играч крвари на терену?

- а) Играч мора одмах, добровољно напустити поље за игру
- б) Играч може остати у пољу за игру, до следећег прекида игре
- ц) Играч који замењује играча који крвари, може ући у поље за игру изван простора за замену играча
- д) Играч не може поново ући у поље за игу, до следећег прекида игре
- е) Ако играч одбије да следи упуства судије о напуштању поља за игру, мора бити кажњен за неспортско понашање

4.27) БЕЛИ 5 је сам са голманом ЦРНИМ 1 и има јасну ситуацију за постизање гола. ЦРНИ 11 прави погрешну замену, тако што улази на терен пре него што је ЦРНИ 9 изашао. Мерилац времена свира због овог прекршаја, тачно када је БЕЛИ 5 спреман да шутира. Исправна одлука?

- а) 2 минута искључења ЦРНОГ 11
- б) Дисквалификација ЦРНОГ 11, писана пријава (црвени и плави картон показани од стране судија)
- ц) Слободно бацање за БЕЛУ екипу
- д) Седмерац за БЕЛУ екипу

4.28) Голман ЦРНИ 1 је одбранио шут и бацио лопту саиграчу ЦРНОМ 4. Сада голман ЦРНИ 1 иде ка аут линији, према простору за замену играча. Он јасно прелази аут линију, ван простора за замену, да би узео пешкир и попио воде. Он на терену није замењен другим голманом или играчем у пољу. Исправна одлука?

- а) Игра се наставља, то је дозвољено
- б) 2 минута искључења за ЦРНОГ 1 због погрешне замене
- ц) Слободно бацање за БЕЛУ екипу код простора за замену играча ЦРНЕ екипе

4.29) Званичник А ЦРНЕ екипе је већ добио опомену. На једну судијску одлуку званичник Д исте екипе утрчи неколико метара у поље за игру, без одобрења судија. Исправна одлука?

- а) Нема кажњавања
- б) опомена за званичника Д ЦРНЕ екипе
- ц) 2 минута искључења за званичника Д ЦРНЕ екипе
- д) Дисквалификација за званичника Д ЦРНЕ екипе (црвени картон показан од стране судија)

4.30) Дат је тајм-аут због повреде БЕЛОГ 6, која је настала као последица прекршаја играча ЦРНЕ екипе, који није прогресивно кажњен. Судије дају дозволу да две особе уђу на терен и помогну БЕЛОМ 6. Званичник Ц БЕЛЕ екипе помаже БЕЛОМ 6, а званичник А БЕЛЕ екипе јури ЦРНОГ 5, који је према његовом мишљењу проузроковао повреду. Он прати ЦРНОГ 5 у простор за замену ЦРНЕ екипе и удари га у лице. Исправна одлука?

- а) Дисквалификација званичника А БЕЛЕ екипе, писани извештај (црвени и плави картон показани од стране судија), БЕЛА екипа је редукована за једног играча у пољу за два минута
- б) Игра се наставља после звучног сигнала у складу са разлогом за прекид игре
- ц) 2 минута искључења за званичника А БЕЛЕ екипе, БЕЛА екипа ће бити редукована за једног играча у пољу за два минута
- д) Слободно бацање за ЦРНУ екипу

- е) Дисквалификација званичника А БЕЛЕ екипе, без писаног извештаја (црвени картон показан од стране судија), БЕЛА екипа је редукована за једног играча у пољу за два минута
- ф) После указане медицинске помоћи на терену, БЕЛИ 6 мора напустити терен и може се вратити после трећег напада своје екипе

4.31) Непосредно након изведеног почетног бацања ЦРНЕ екипе, судије су утврдиле да се у простору за замену играча ЦРНЕ екипе налази особа која није унесена у записник. Испоставило се да је он један од чланова клуба, али се установи да ЦРНА екипа већ има на клупи 4 званичника унешена у записник. Исправна одлука?

- а) Особа мора напустити простор за замену играча
- б) Одговорни представник ЦРНЕ екипе добија личну казну
- ц) Додатно још један званичник мора напустити простор за замену
- д) Утакмица се наставља слободним бацањем за БЕЛУ екипу

4.32) Шта се примењује везано за изглед дреса?

- а) Сви играчи који играју на месту голмана морају носити дрес у идентичној боји
- б) Играчи морају носити бројеве висине најмање 20цм на грудима и леђима
- ц) Голмани смеју носити заштиту за главу ако је она израђена од меканог материјала
- д) Играчи, укључујући голмане, могу користити бројеве од 1 до 100

4.33) БЕЛИ 10 издржава прву казну искључења на 2 минута, које је почело у 21:00. Након што је утакмица настављена, он протестује толико енергично, да судије прекидају игру у 21:30 и дају БЕЛОМ 10 додатна 2 минута искључења. Које су последице за БЕЛУ екипу?

- а) Искључење БЕЛОГ 10 на 2 минута
- б) Дисквалификација БЕЛОГ 10
- ц) БЕЛА екипа се редукује за једног играча на терену до 25:00
- д) БЕЛА екипа се редукује за два играча на терену до 23:00, а затим за једног играча на терену до 23:30

4.34) У којој од наведених ситуација ће одговорни представник екипе добити прогресивну казну?

- а) Када играч његове екипе напусти простор за замену играча а да се не јави мериоцу/записничару
- б) Када је утакмица већ почела, а у простору за замену играча се налази особа која није уписана у записник
- ц) Када додатни играч уђе у терен
- д) Када играч који не може да учествује уђе у терен
- е) Ако се неправилна опрема установи после почетка утакмице
- ф) У случају прекршаја у простору за замену играча, који се не могу лично одредити

4.35) Судије дају ручни сигнал да је дозвољен улазак у терен зато што је играч БЕЛЕ екипе повређен. Које је дозвољено да уђе на терен?

- а) Два званичника БЕЛЕ екипе (нико други)
- б) По два званичника из БЕЛЕ и ЦРНЕ екипе
- ц) Две особе (званичник или играч) БЕЛЕ екипе
- д) Две особе (званичник или играч) из БЕЛЕ и ЦРНЕ екипе
- е) Доктор БЕЛЕ екипе, ако он није један од четири званичника екипе



4.36) Званичник Ц БЕЛЕ екипе, већ је добио опомену због протеста. Касније, званичник Б БЕЛЕ екипе уђе у поље за игру без дозволе, али се коректно понаша. Исправна одлука?

- а) Опомена за званичника Б БЕЛЕ екипе
- б) 2 минута искључења за званичника Б БЕЛЕ екипе; Он мора отићи са клупе 2 минута
- ц) Дисквалификација званичника Б БЕЛЕ екипе (црвени картон показан од стране судија), БЕЛА екипа ће бити редукована за једног играча у пољу за 2 минута
- д) 2 минута искључења за званичника Б БЕЛЕ екипе, БЕЛА екипа ће бити редукована за једног играча у пољу за 2 минута; Званичник Б БЕЛЕ екипе може остати у простору за замену играча

4.37) Дат је тајм-аут због повреде и судије су ручним сигналом дале дозволу да особе БЕЛЕ екипе уђу у терен. Које од следећих радњи нису дозвољене?

- а) Играчи ЦРНЕ екипе стоје близу уздужне линије, са циљем да добију савете од тренера
- б) Играчи БЕЛЕ екипе праве замену ван линије за замену играча
- ц) Један званичник БЕЛЕ екипе, који је на терену, креће се далеко од повређеног играча и даје савете другим играчима свог тима

4.38) Голман БЕЛЕ екипе зауставља лопту упућену на гол и лопта се откотрља дуж аут линије у близини клупе за резервне играче БЕЛЕ екипе. БЕЛИ 5, који седи на клупи, испружи ногу у поље за игру и заустави лопту тако да је БЕЛИ 4 може подићи пре него што пређе аут линију. Исправна одлука?

- а) Слободно бацање за ЦРНУ екипу
- б) 2 минута искључења за БЕЛОГ 5
- ц) Дисквалификација БЕЛОГ 5 (црвени картон показан од стране судија)
- д) Бела екипа ће бити редукована за једног играча у пољу за 2 минута
- е) Седмерац за ЦРНУ екипу
- ф) Дисквалификација БЕЛОГ 5, писани извештај (црвени и плави картон показани од стране судија)

4.39) У 29:00 првог полувремена БЕЛИ 5 је искључен на 2 минута. После одмора између два полувремена судија у пољу даје знак за почетак другог полувремена. Три секунде после тога оглашава се мерилац времена. БЕЛА екипа има 7 играча на терену! Исправна одлука?

- а) Један играч БЕЛЕ екипе мора да напусти терен; нема додатне казне
- б) 2 минута искључења за додатног играча БЕЛЕ екипе
- ц) БЕЛА екипа ће бити редукована за два играча у пољу за 57 секунди и за једног играча за 1 минут и 3 секунде

4.40) Време игре: 43:27 – прекид од стране мериоца времена, после гола БЕЛОГ 15 и почетног бацања. Мерилац времена обавештава судије да БЕЛИ 15 није уписан у записник утакмице. 14 играча БЕЛЕ екипе је већ уписано. Судије установе да играч БЕЛИ 11 није присутан. Исправна одлука?

- а) Гол се поништава
- б) Гол је исправан
- ц) БЕЛИ 11 се брише, а БЕЛИ 15 се уписује у записник, уколико је ово у складу са прописима одговорне федерације
- д) БЕЛОМ 15 није дозвољено да игра и мора напустити терен
- е) Прогресивна казна за одговорног представника БЕЛЕ екипе
- ф) Писани извештај



4.41) Голман БЕЛИ 12 лежи на поду због повреде колена, након што је одбранио шут ЦРНЕ екипе. Исправна одлука?

- а) БЕЛИ 12 може наставити да игра, после указане помоћи на терену
- б) Две особе БЕЛЕ екипе, које имају право учешћа, могу ући у поље за игру после ручних сигнала 15 и 16, показаних од стране судија, да пруже медицинску помоћ БЕЛОМ 12
- ц) Само једна особа БЕЛЕ екипе која има право учешћа, може ући у поље за игру после ручних сигнала 15 и 16, показаних од стране судија, да пружи медицинску помоћ БЕЛОМ 12
- д) После указане медицинске помоћи на терену, БЕЛИ 12 се може вратити на терен после трећег напада његове екипе
- е) Независно од броја напада БЕЛИ 12 се може вратити на терен, када се игра наставља после паузе између два полувремена
- ф) Ако званичници екипе одбијају да пруже неопходну помоћ БЕЛОМ 12, одговорни представник БЕЛЕ екипе ће бити прогресивно кажњен

4.42) Голман БЕЛИ 1 брани шут ЦРНЕ екипе. Том приликом удари главом у стативу. Потребна му је медицинска помоћ на терену. Исправна одлука?

- а) БЕЛИ 1 може наставити да игра, након указане медицинске помоћи на терену, због тога што је узрок помоћи била повреда главе
- б) После указане медицинске помоћи на терену БЕЛИ 1 се може вратити после трећег напада своје екипе

4.43) Након указане медицинске помоћи на терену БЕЛИ 7 седи на клупи у простору за замену играча. За време првог напада БЕЛЕ екипе, ЦРНИ 2 ухвати лопту и трчи у контранапад сам, једино се голман БЕЛИ 12 налази између њега и гола БЕЛЕ екипе. Пре него што је ЦРНИ 2 могао да шутира на гол, БЕЛИ 7 улази на терен, правећи замену са БЕЛИМ 9. Исправна одлука?

- а) Мерилац времена чека док ЦРНИ 2 не изведе шут на гол, пре него што прекине игру због погрешне замене БЕЛЕ екипе
- б) Мерилац времена тренутно прекида игру због погрешне замене БЕЛЕ екипе
- ц) Тајм-аут
- д) 2 минута искључења за БЕЛОГ 7
- е) Дисквалификација без писаног извештаја за БЕЛОГ 7 (црвени картон показан од стране судија)
- ф) Игра се наставља бацањем у складу са ситуацијом
- г) Седмерац за ЦРНУ екипу
- х) Слободно бацање за ЦРНУ екипу
- и) Без обзира на број напада своје екипе, БЕЛИ 7 се може вратити на терен после издржане казне од 2 минута

4.44) После указане медицинске помоћи на терену ЦРНИ 11 седи на клупи жалећи се на судијску одлуку. Због тога ЦРНИ 11 добија своје прво искључење на утакмици. За време другог напада ЦРНЕ екипе, ЦРНИ 11 се враћа у поље за игру, након издржане казне од 2 минута. Исправна одлука?

- а) Тајм-аут
- б) 2 минута искључења за ЦРНОГ 11
- ц) Игра се наставља
- д) Слободно бацање за БЕЛУ екипу

4.45) ЦРНИ 10 добија лопту на линији слободног бацања. Одмах након што је ухватио лопту бива оборен од стране БЕЛОГ 3. Пао је тако незгодно да је повредио лакат и потребна му је медицинска помоћ на терену. Исправна одлука?

- а) Опомена за БЕЛОГ 3
- б) 2 минута искључења за БЕЛОГ 3
- ц) Две особе ЦРНЕ екипе, које имају право учешћа, могу ући у поље за игру после ручних сигнала 15 и 16, показаних од стране судија, да пруже медицинску помоћ ЦРНОМ 10
- д) ЦРНИ 10 може наставити да игра после указане медицинске помоћи у пољу за игру
- е) После указане медицинске помоћи у пољу за игру, ЦРНИ 10 се може вратити у поље за игру после трећег напада своје екипе
- ф) Тајм-аут

4.46) ЦРНИ 10 је добио лопту од ЦРНОГ 9. Чим је додао лопту, ЦРНИ 9 је оборен од стране БЕЛОГ 11. Када је примио лопту, ЦРНИ 10 пао и лежи повређен на терену. Исправна одлука?


- а) Опомена за БЕЛОГ 11
- б) 2 минута искључења за БЕЛОГ 11
- ц) Две особе ЦРНЕ екипе, које имају право учешћа, могу ући у поље за игру после ручних сигнала 15 и 16, показаних од стране судија, да пруже медицинску помоћ ЦРНОМ 10
- д) ЦРНИ 10 може наставити да игра после указане медицинске помоћи у пољу за игру
- е) После указане медицинске помоћи на терену, ЦРНИ 10 се може вратити после трећег напада своје екипе
- ф) Тајм-аут

4.47) Остало је још 3 минута игре до краја, резултат је 21:21. ЦРНИ 2, голгетер своје екипе, је несрећно угануо чланак и лежи на терену. Један од судија пита ЦРНОГ 2 да ли му је потребна медицинска помоћ на терену. ЦРНИ 2 не одговара, али и даље лежи на терену. Судије прекидају игру и показују сигнале 15 и 16, одобравајући да две особе из ЦРНЕ екипе уђу на терен и пруже медицинску помоћ ЦРНОМ 2. ЦРНА екипа одбија да пошаље особе на терен и пре него што су судије предузеле даље акције, ЦРНИ 2 је спреман да настави игру. Исправна одлука?

- а) ЦРНИ 2 може да настави да игра
- б) ЦРНИ 2 мора да напусти терен и може се вратити после трећег напада своје екипе
- ц) Прогресивна казна за одговорног представника ЦРНЕ екипе

4.48) Остало је још 30 секунди до краја првог полувремена, БЕЛОМ 5 је указана медицинска помоћ на терену. После указане помоћи он је напустио терен и може да се врати после трећег напада своје екипе. После једног минута другог полувремена, за време другог напада његове екипе, БЕЛИ 5 улази на терен, исправно мењајући БЕЛОГ 4. Исправна одлука?

- а) Игра се наставља
- б) 2 минута искључења за БЕЛОГ 5, због погрешне замене (ранији улазак на терен после указане медицинске помоћи на терену)
- ц) Тајм-аут



4.49) После судара, БЕЛИ 4 и ЦРНИ 5 леже на терену делујући повређено. Судије одмах прекидају игру и сигнаима 15 и 16 дају дозволу да на терен уђу по две особе из обе екипе и пруже медицинску помоћ. Пре него што су позване особе ушле на терен, ЦРНИ 5 је спреман да игра. БЕЛОМ 4 је указана помоћ на терену. После 20 секунди игра је настављена. Исправна одлука?

- a) После указане медицинске помоћи на терену БЕЛИ 4 је напустио терен и може да се врати после трећег напада своје екипе
- б) Како ЦРНИ 5 није добио медицинску помоћ на терену, њему је дозвољено да настави игру
- ц) ЦРНИ 5 напушта терен и може да се врати после трећег напада своје екипе

4.50) БЕЛИ 2 је повређен и потребна му је медицинска помоћ на терену. Прво полувреме је завршено после првог напада његове екипе. Када су судије дале знак за почетак другог полувремена, БЕЛИ 2 је био на терену, у нападу своје екипе. Исправна одлука?

- a) Мерилац времена тренутно прекида игру и обавештава судије
- б) 2 минута искључења за БЕЛОГ 2
- ц) Игра се наставља
- д) Слободно бацање за ЦРНУ екипу код простора за замену играча
- е) Нема искључења за БЕЛОГ 2, који мора да напусти терен, БЕЛА екипа и даље има лопту у поседу, због тога што је мерилац времена/делегат погрешно

4.51) БЕЛОМ 4 је указана медицинска помоћ на терену. После указане помоћи, БЕЛИ 4 напушта терен и може се вратити након три напада своје екипе. После другог напада БЕЛЕ екипе, званичник А БЕЛЕ екипе тражи од БЕЛОГ 4 да уђе на терен и обави задатак у одбрани. БЕЛИ 4 улази на терен, мењајући БЕЛОГ 6, да игра само у одбрани. Исправна одлука?

- a) Игра се наставља - БЕЛОМ 4 је дозвољено да игра у одбрани
- б) Опомена БЕЛОМ 4 због прераног уласка на терен
- ц) 2 минута искључења за БЕЛОГ 4 због погрешне замене

4.52) БЕЛИ 11 се оклизнуо на подлози и завршио ван терена, на другој страни од простора за замену играча. Он је ударио главом о рекламни пано. Судије тренутно прекидају игру и зову медицинску помоћ за БЕЛОГ 11. После 20 секунди, БЕЛИ 11 је спреман да игра. Исправна одлука?

- a) БЕЛОМ 11 је дозвољено да настави да игра, зато што је лежао ван терена када му је указивана медицинска помоћ
- б) БЕЛИ 11 мора да напусти терен и може се вратити после трећег напада своје екипе

4.53) После једног минута игре дешава се блиска борба између пивота ЦРНОГ 3 и БЕЛОГ 6. ЦРНИ 3 заврши лежећи на поду делујући повређено. Судије одлучују да упозоре БЕЛОГ. ЦРНИ 3 тражи медицинску помоћ на терену. После указане медицинске помоћи на терену, ЦРНИ 3 је спреман да настави игру. Исправна одлука?

- a) ЦРНОМ 3 је дозвољено да настави игру
- б) ЦРНИ 3 мора да напусти терен и може се вратити после трећег напада своје екипе

4.54) ЦРНА екипа је у контранападу. ЦРНИ 2 води лопту и бива гурнут од стране БЕЛОГ 10. Он делимично губи контролу над телом, али се сналази и додаје лопту ЦРНОМ 4, који постиже гол. После постигнутог гола, ЦРНИ 4 угане чланак враћајући се у одбрану. Судије прекидају игру, искључују БЕЛОГ 10 на 2 минута и дају дозволу да на терен могу ући две особе и указати медицинску помоћ ЦРНОМ 4. После 30 секунди ЦРНИ 4 је спреман да игра. Исправна одлука?

- а) ЦРНОМ 4 је дозвољено да настави игру
- б) ЦРНИ 4 мора да напусти терен и може се вратити после трећег напада своје екипе

4.55) БЕЛИ 11 шутира на гол. Одбрамбени играч ЦРНИ 2 је несрећно погођен лоптом у главу и потребна му је медицинска помоћ на терену. После 20 секунди од указане помоћи, ЦРНИ 2 је спреман да настави игру. Исправна одлука?

- а) ЦРНОМ 2 је дозвољено да настави игру, зато што је повреда последица ударца лоптом у главу
- б) ЦРНИ 2 мора да напусти терен и може се вратити после трећег напада своје екипе

4.56) После шута на гол, пивот ЦРНИ 2 лежи у голмановом простору БЕЛЕ екипе и тражи медицинску помоћ, јер делује да је повредио ногу. БЕЛА екипа је баш кренула у контранапад. Исправна одлука?


- а) Судије тренутно прекидају игру и показују сигнале 15 и 16 и зову медицинску помоћ за ЦРНОГ 2
- б) Сачекати исход контранапада БЕЛЕ екипе - онда прекинути игру и звати медицинску помоћ за ЦРНОГ 2

4.57) БЕЛИ 2 се загрева без заштите за лакат. После пет минута игре, када БЕЛА екипа има лопту у поседу, БЕЛИ 2 улази у игру исправном заменом. Судије су приметиле да БЕЛИ 2 носи заштиту за лакат са чврстим непокривеним деловима. Исправна одлука?

- а) Игра се наставља, дозвољено је носити заштиту за лакат са непокривеним тврдим деловима
- б) Судије заустављају игру, БЕЛИ 2 мора да напусти терен и може се вратити после уклањања заштите за лакат или покривања непокривених чврстих делова
- ц) Прогресивна казна за БЕЛОГ 2
- д) Прогресивна казна за представника БЕЛЕ екипе
- е) Слободно бацање за БЕЛУ екипу
- ф) Слободно бавање за ЦРНУ екипу

4.58) Бела екипа напада близу линије деветерца. Играч БЕЛИ 7 улази на терен, путем нормалне замене, и има жуту мајицу дугих рукава испод белог дреса. Исправна одлука?

- а) Тајм-аут, играч мора да скине жуту мајицу дугих рукава пре него што настави игру
- б) Слободно бацање за ЦРНУ екипу
- ц) 2 минута искључења за БЕЛОГ 7
- д) Слободно бацање за БЕЛУ екипу



4.59) БЕЛА екипа има лопту у поседу, мерилац времена прекида игру. Мерилац времена обавештава судије да је БЕЛИ 11 ушао у поље за игру те да БЕЛИ 11 није уписан у записник. Испоставило се да је званичник А погрешно пријавио број БЕЛОГ 11, јер је исти пријављен под бројем 13. Која је исправна одлука ?

- а) Слободно бацање за БЕЛУ екипу
- б) Слободно бацање за ЦРНУ екипу
- ц) БЕЛОМ 11 није дозвољен наступ
- д) Грешка је исправљена, БЕЛИ 11 може наступати за екипу
- е) Забелешка у записнику
- ф) Прогресивна казна за званичника А БЕЛЕ екипе

4.60) Резултат је 29:29, преостало је 10 секунди до краја утакмице. Голман БЕЛИ 12 изводи голманово бацање и додаје БЕЛОМ 11. БЕЛИ 11 види да је БЕЛИ 9 слободан пред голмановим простором ЦРНЕ екипе. Пре него што је лопта упућена до БЕЛОГ 9, мерилац времена прекида игру због погрешне замене. ЦРНИ 2 је ушао у поље за игру пре него што је ЦРНИ 4 напустио поље за игру. Која је исправна одлука ?

- а) Тајм аут
- б) Слободно бацање за БЕЛУ екипу
- ц) Седмерац за БЕЛУ екипу
- д) Искључење на 2 минута за ЦРНОГ 2
- е) Дисквалификација за ЦРНОГ 4 (црвени картон показан од стране судија)

4.61) Резултат је 29:29, преостало је 10 секунди до краја утакмице. Голман БЕЛИ 12 изводи голманово бацање и додаје БЕЛОМ 11. БЕЛИ 11 види да је БЕЛИ 9 слободан пред голмановим простором ЦРНЕ екипе и додаје му лопту. Пре него што бели упуту ударац ка голу, мерилац времена прекида игру због погрешне замене. ЦРНИ 2 је ушао у поље за игру пре него што је ЦРНИ 4 напустио поље за игру. Која је исправна одлука ?

- а) Тајм аут
- б) Слободно бацање за БЕЛУ екипу
- ц) Седмерац за БЕЛУ екипу
- д) Искључење на 2 минута за ЦРНОГ 2
- е) Дисквалификација за ЦРНОГ 4 (црвени картон показан од стране судија)



ПРАВИЛО 5

- 5.1) Голман ЦРНИ 1 зауставља шут на гол и почиње противнапад, притом својим левим стопалом прелази линију голмановог простора. Исправна одлука?**
- а) Игра се наставља без прекида
 - б) Слободно бацање за БЕЛУ екипу
 - ц) Понављање голмановог бацања после звиждука
- 5.2) Голман БЕЛИ 12 стоји изван свог голмановог простора, у пољу за игру. Примајући лопту од саиграча, голман БЕЛИ 12 направи корак уназад у властити голманов простор, а другом ногом остане у пољу за игру. Исправна одлука?**
- а) Седмерац за ЦРНУ екипу
 - б) Игра се наставља без прекида
 - ц) Слободно бацање за ЦРНУ екипу
 - д) Два минута искључења за голмана БЕЛОГ 12
- 5.3) Голман БЕЛИ 12 брани шут и баца се на лопту која иде у смеру поља за игру. Голман БЕЛИ 12 хвата лопту и клизне преко линије голмановог простора, а затим дода лопту у поље за игру свом саиграчу. Исправна одлука?**
- а) Слободно бацање за ЦРНУ екипу
 - б) Игра се наставља без прекидања
 - ц) Голманово бацање за БЕЛУ екипу А после звучног сигнала
- 5.4) Голман ЦРНИ 1 зауставља шут на гол. Лопта се котрља према пољу за игру. У покушају да спречи да лопта дође до играча БЕЛОГ 15 који је чека на линији голмановог бацања, он одбије лопту ногом баш пре него што је играч БЕЛИ 15 дохвати, и тако је избаци преко гол-аут линије. Исправна одлука?**
- а) Седмерац за БЕЛУ екипу
 - б) Слободно бацање за БЕЛУ екипу
 - ц) Игра се наставља без прекида
 - д) Прогресивно кажњавање за голмана ЦРНОГ 1 зато што је угрозио противника
- 5.5) Голман БЕЛИ 12 не успева да задржи лопту под контролом. Лопта у голмановом простору иде према аут линији. Голман игра ногом и избаци лопту преко гол-аут линије. Исправна одлука?**
- а) Голманово бацање за БЕЛУ екипу
 - б) Слободно бацање за ЦРНУ екипу
 - ц) Аут за ЦРНУ екипу
 - д) Прогресивна казна против голмана
- 5.6) Голман БЕЛИ 1 брани шут. Лопта се котрља према пољу за игру, где ЦРНИ 6 чека сам да је подигне. Голман БЕЛИ 1 успева да заустави лопту ногом, кад она дође на линију голмановог простора. Исправна одлука?**
- а) Голманово бацање за БЕЛУ екипу после звиждука
 - б) Прогресивна казна против БЕЛОГ 1
 - ц) Слободно бацање за ЦРНУ екипу
 - д) Седмерац за ЦРНУ екипу



- 5.7) ЦРНИ 18 шутира на гол. Шут је изблокиран од БЕЛОГ 7, тако да лопта промени правац и иде јасно изван гол линије (унутар голмановог простора). Голман БЕЛИ 1 трчи за лоптом и помаже јој, ногом, да пређе гол-аут линију. Исправна одлука?
- а) Голманово бацање за БЕЛУ екипу
 - б) Аут за ЦРНУ екипу
 - ц) Слободно бацање за ЦРНУ екипу
 - д) Опомена БЕЛОМ 1
- 5.8) Голман ЦРНИ 12 скочи увис у свом голмановом простору да ухвати дуго додавање према играчу БЕЛОМ 7. ЦРНИ 12 хвата лопту док је у ваздуху и доставе једном ногом у голманов простор, а другом у поље за игру, држећи лопту у рукама. Из те позиције дода лопту до играча ЦРНОГ 3. Исправна одлука?
- а) Седмерац за БЕЛУ екипу
 - б) Игра се наставља без прекида
 - ц) Слободно бацање за БЕЛУ екипу
 - д) Корекција голмановог бацања после звучног сигнала
- 5.9) БЕЛИ 9 додаје лопту своје голману БЕЛОМ 1, који стоји у пољу за игру. БЕЛИ 9 је на исправан начин ометан, зато баца лопту превише високо, тако да је голман БЕЛИ 1 принуђен да се врати назад и уђе у голманов простор једном ногом, у тренутку хватања лопте. Исправна одлука?
- а) Игра се наставља без прекида
 - б) Тајм-аут
 - ц) Седмерац за ЦРНУ екипу
 - д) Слободно бацање за ЦРНУ екипу
- 5.10) Судије досуђују слободно бацање за БЕЛУ екипу, испред линије голмановог простора БЕЛЕ екипе. Голман БЕЛИ 1 стоји једном ногом у голмановом простору, а другом у пољу за игру. Он додаје лопту играчу БЕЛОМ 8 који постиже гол. Исправна одлука?
- а) Гол за БЕЛУ екипу
 - б) Понављање слободног бацања изван голмановог простора БЕЛЕ екипе
 - ц) Слободно бацање за ЦРНУ екипу испред голмановог простора БЕЛЕ екипе
 - д) Голманово бацање за ЦРНУ екипу
 - е) Седмерац за БЕЛУ екипу
- 5.11) Судија је досудио кораке играчу ЦРНОМ 21. ЦРНИ 21 спушта лопту на тло, на линију голмановог простора БЕЛЕ екипе. Голман БЕЛИ 12 жели брзо да изведе бацање. Он се ослања једном руком о тло у пољу за игру, али истовремено је једним стопалом у голмановом простору. Из овог положаја он додаје лопту играчу БЕЛОМ 3 који почиње контранапад, који се завршава голом за БЕЛУ екипу. Исправна одлука?
- а) Понављање слободног бацања за БЕЛУ екипу после звиждука
 - б) Гол за БЕЛУ екипу
 - ц) Слободно бацање за ЦРНУ екипу, јер је слободно бацање за БЕЛУ екипу изведено на неправилан начин
 - д) Тајм-аут

5.12) Голман ЦРНИ 1 је напустио свој голманов простор. Он скаче у пољу за игру и хвата додавање од свог саиграча док је у ваздуху. Затим пада, са оба стопала, у свој голманов простор. Исправна одлука?

- а) Игра се наставља без прекида
- б) Голманово бацање за ЦРНУ екипу
- ц) Слободно бацање за БЕЛУ екипу
- д) Седмерац за БЕЛУ екипу
- е) Тајм-аут

5.13) Лопта је на поду, одмах изван голмановог простора БЕЛЕ екипе. Голман БЕЛИ 1 стоји унутар голмановог простора и подиже лопту, да би спречио противника да је узме. Исправна одлука?

- а) Слободно бацање за ЦРНУ екипу
- б) Седмерац за ЦРНУ екипу
- ц) Прогресивна казна за БЕЛОГ 1
- д) Нема интервенције, зато што је ово дозвољено



ПРАВИЛО 6

- 6.1) Лопта лежи на линији голмановог простора. Нападач БЕЛИ 7 је подигне и покуша постићи погодак. БЕЛИ 7 је непрописно нападнут у јасној ситуацији за постизање гола. Исправна одлука?
- а) Слободно бацање за ЦРНУ екипу
 - б) Слободно бацање за БЕЛУ екипу
 - ц) Седмерац за БЕЛУ екипу
 - д) Голманово бацање за ЦРНУ екипу
- 6.2) Лопта се котрља у голмановом простору БЕЛЕ екипе. ЦРНИ 8 подиже лопту и постиже гол. Исправна одлука?
- а) Слободно бацање за БЕЛУ екипу
 - б) Голманово бацање за БЕЛУ екипу
 - ц) Гол
 - д) Почетно бацање
- 6.3) БЕЛИ 3 стоји обема ногама у пољу за игру и хвата лопту која се одбила од његовог голмана. Након што је БЕЛИ 3 правилно ометан од стране играча ЦРНОГ 10, он неколико пута удари лоптом о тло у сопственом голмановом простору. Исправна одлука?
- а) Игра се наставља без прекида
 - б) Седмерац за ЦРНУ екипу
 - ц) Слободно бацање за ЦРНУ екипу
 - д) Слободно бацање за БЕЛУ екипу
- 6.4) БЕЛИ 7 стоји изван голмановог простора ЦРНЕ екипе, али хвата лопту која је видно у ваздуху изнад голмановог простора и постиже гол. Исправна одлука?
- а) Гол за БЕЛУ екипу
 - б) Слободно бацање за ЦРНУ екипу
 - ц) Голманово бацање за ЦРНУ екипу
 - д) Голманово бацање за ЦРНУ екипу, после звучног сигнала
- 6.5) БЕЛИ 8, кога правилно напада неколико противничких играча, намерно откотрља лопту у свој голманов простор, где се она заустави. Голман БЕЛИ 1 не узима лопту. Исправна одлука?
- а) Голманово бацање за БЕЛУ екипу
 - б) Голманово бацање за БЕЛУ екипу после звучног сигнала
 - ц) Седмерац за ЦРНУ екипу
 - д) Слободно бацање за ЦРНУ екипу



- 6.6) БЕЛИ 5 баца лопту у голманов простор своје екипе. Лопта удари у стативу и котрља се према пољу за игру. Голман БЕЛИ 12 је узме и дода БЕЛОМ 7 који постиже гол. Исправна одлука?**
- а) Седмерац за ЦРНУ екипу
 - б) Гол
 - ц) Слободно бацање за ЦРНУ екипу
 - д) Голманово бацање за БЕЛУ екипу
- 6.7) ЦРНА екипа је постигла гол и БЕЛИ 10 изводи почетно бацање. Он нема ниједног слободног саиграча и изненађује свог голмана БЕЛОГ 12, бацајући му лопту, иако се он налази у свом голмановом простору. БЕЛИ 12 хвата лопту и додаје је БЕЛОМ 9. Исправна одлука?**
- а) Игра се наставља без прекида
 - б) Седмерац за ЦРНУ екипу
 - ц) Слободно бацање за ЦРНУ екипу
 - д) Почетно бацање се понавља после корекције
- 6.8) Одбрамбени играч ЦРНИ 7 види да ће пивот БЕЛИ 9 примити лопту сам испред голмана. Стога, пошто је исту ствар учинио и раније, он трчи око играча БЕЛОГ 9, кроз голманов простор, тако да БЕЛИ 9 не може да прими лопту. ЦРНИ 7 је већ изван линије голмановог простора, када БЕЛИ 9 прима лопту. БЕЛИ 9 се окреће и натрчава на ЦРНОГ 7. Исправна одлука?**
- а) Седмерац за БЕЛУ екипу
 - б) Слободно бацање за БЕЛУ екипу
 - ц) Слободно бацање за ЦРНУ екипу
 - д) Прогресивна казна против ЦРНОГ 7
- 6.9) Лопта се одбија од голмана ЦРНОГ 1 према нападачу БЕЛОМ 4 који чека уз линију голмановог простора. Да би спречио јасну прилику за гол, ЦРНИ 2 улази у голманов простор и спречава БЕЛОГ 4 да прими лопту. Исправна одлука?**
- а) Слободно бацање за БЕЛУ екипу
 - б) Седмерац за БЕЛУ екипу
 - ц) Прогресивна казна против ЦРНОГ 2
 - д) Дисквалификација ЦРНОГ 2 (црвени картон показан од стране судија)
- 6.10) БЕЛИ 10 баца лопту ка свом голмановом простору. Голман БЕЛИ 1 скаче из голмановог простора и хвата лопту у ваздуху. Чврсто држећи лопту БЕЛИ 1 доскаче изван голмановог простора. Исправна одлука?**
- а) Игра се наставља без прекида
 - б) Голманово бацање за БЕЛУ екипу
 - ц) Слободно бацање за ЦРНУ екипу
 - д) Седмерац за ЦРНУ екипу



6.11) Лопта додата од стране БЕЛОГ 11 враћа се у голманов простор, где голман БЕЛИ 1 скаче и хвата лопту док је у ваздуху. Чврсто држећи лопту БЕЛИ 1 доскаче једном ногом у голманов простор, а другом изван голмановог простора. Исправна одлука?

- а) Игра се наставља без прекида
- б) Голманово бацање за БЕЛУ екипу
- ц) Слободно бацање за ЦРНУ екипу
- д) Седмерац за ЦРНУ екипу

6.12) БЕЛИ 7 из нападајуће екипе има лопту у поседу и са лоптом закорачи у голманов простор противника. Исправна одлука?

- а) Слободно бацање за ЦРНУ екипу
- б) Голманово бацање за ЦРНУ екипу
- ц) Голманово бацање за ЦРНУ екипу после звучног сигнала
- д) Слободно бацање за ЦРНУ екипу после звучног сигнала

6.13) Лопта лежи на поду голмановог простора БЕЛЕ екипе. У том тренутку мерилац времена свира са стола и објашњава да је БЕЛИ 5 направио погрешну замену. Исправна одлука?

- а) Голманово бацање за БЕЛУ екипу
- б) 2 минута искључења за БЕЛОГ 5
- ц) Слободно бацање за ЦРНУ екипу са линије слободног бацања БЕЛЕ екипе
- д) Слободно бацање за ЦРНУ екипу код простора за замену играча БЕЛЕ екипе

6.14) У којем од наведених случајева треба досудити голманово бацање?

- а) Када играч нападајуће екипе, са лоптом у поседу, додирне голманов простор противника
- б) Када играч нападајуће екипе, без лопте у поседу, додирне голманов простор противника и тиме стекне предност
- ц) Када играч нападајуће екипе упуту лопту преко гол-аут линије противника
- д) Када играч са лоптом додирне сопствени голманов простор

6.15) Бела екипа је у нападу. ЦРНИ 4 уз линију голмановог простора. Лопта је у ваздуху, ЦРНИ 4 је ухвати и убаци је директно у голманов простор. ЦРНИ 1 додирује лопту и она одлази изван гола, преко гол-аут линије. Исправна одлука?

- а) Аут за БЕЛУ екипу
- б) Слободно бацање за БЕЛУ екипу
- ц) Седмерац за БЕЛУ екипу
- д) Голманово бацање за ЦРНУ екипу
- е) Прогресивна казна против ЦРНОГ 4



6.16) Голман БЕЛИ 12 је одбранио шут и има лопту под контролом у свом голмановом простору. Он још увек има лопту у својим рукама, када мерилац времена свира, због погрешне замене БЕЛОГ 10. Исправна одлука?

- а) Слободно бацање за ЦРНУ екипу код простора за замену играча БЕЛЕ екипе
- б) Тајм-аут
- ц) Голманово бацање за БЕЛУ екипу
- д) 2 минута искључења за БЕЛОГ 10
- е) Слободно бацање за ЦРНУ екипу са линије слободног бацања БЕЛЕ екипе

6.17) Голман БЕЛИ 12 скаче у пољу за игру, тик изван свог голмановог простора, у ваздуху хвата лопту, додату од стране БЕЛОГ 4, и баца је преко гол-аут линије. Затим доскочи у голманов простор. Исправна одлука?

- а) Голманово бацање за БЕЛУ екипу
- б) Аут за ЦРНУ екипу
- ц) Слободно бацање за ЦРНУ екипу
- д) Опомена за БЕЛОГ 12

6.18) Играч БЕЛИ 9 шутира на гол ЦРНЕ екипе. Голман ЦРНИ 1 брани шут и лопта се котрља према пољу за игру, где је чека играч ЦРНЕ екипе спреман да је ухвати. Како се ЦРНИ 1 приликом одбране повредио, судије прекидају игру, док је лопта још увек у голмановом простору. Исправна одлука?

- а) Слободно бацање за БЕЛУ екипу
- б) Голманово бацање за ЦРНУ екипу
- ц) Слободно бацање за ЦРНУ екипу

6.19) Лопта се котрља по поду голмановог простора БЕЛЕ екипе. У том тренутку мерилац времена свира са стола и објашњава да је БЕЛИ 5 направио погрешну замену. Исправна одлука?

- а) Голманово бацање за БЕЛУ екипу
- б) 2 минута искључења за БЕЛОГ 5
- ц) Слободно бацање за ЦРНУ екипу са линије слободног бацања БЕЛЕ екипе
- д) Слободно бацање за ЦРНУ екипу код простора за замену играча БЕЛЕ екипе

6.20) БЕЛИ 5 шутира на гол, шут блокира голман ЦРНИ 12 и лопта лети изнад голмановог простора у правцу пивота БЕЛОГ 11, који стоји уз линију голмановог простора у јасној ситуацији за постизање гола, спреман да ухвати лопту. Одбрамбени играч ЦРНИ 2 скочи ка лопти и док је у ваздуху, изнад голмановог простора, пошаље лопту у правцу аут линије. Због лепка на њој, лопта остане у голмановом простору, а да је голман није додирнуо. Исправна одлука?

- а) Голманово бацање за ЦРНУ екипу
- б) Слободно бацање за БЕЛУ екипу
- ц) Седмерац за БЕЛУ екипу
- д) Прогресивна казна против ЦРНОГ 2



6.21) Голман ЦРНИ 1 је одбранио шут и жели да дода лопту ЦРНОМ 6 који је спреман за контранапад. Приликом додавања ЦРНИ 1 додирује линију голмановог простора. ЦРНИ 6 ухвати лопту и постигне гол. Исправна одлука?

- а) Гол је исправан
- б) Слободно бацање за БЕЛУ екипу
- ц) Корекција и понављање голмановог бацања после звучног сигнала
- д) Гол није исправан

6.22) БЕЛИ 6 је у контранападу. Скочи, шутира на гол и падне у голманов простор ЦРНЕ екипе. Голман ЦРНИ 12 брани шут и лопта долази до БЕЛОГ 11, који постиже гол, док БЕЛИ 6 лежи у голмановом простору између њих двојице. Исправна одлука?

- а) Гол за БЕЛУ екипу
- б) Голманово бацање за ЦРНУ екипу
- ц) Слободно бацање за ЦРНУ екипу

6.23) БЕЛА екипа је у нападу и игра без голмана (празан гол). БЕЛИ 11 упућује ударац према голу. Голман ЦРНИ 1 брани ударац те изводи голманово бацање као ударац према празном голу. БЕЛИ 10 покушава спречити ударац тако што се одрази ван сопственог голмановог простора и док је у ваздуху додирне лопту која је изнад голмановог простора. Лопта прелази линију ван гола. Пошто је додирнуо лопту, БЕЛИ 11 доскаче у голманов простор. Која је исправна одлука ?

- а) Голманово бацање за БЕЛУ екипу
- б) Слободно бацање за ЦРНУ екипу
- ц) Седмерац за ЦРНУ екипу
- д) Аут за ЦРНУ екипу
- е) Прогресивна казна за БЕЛОГ 10

6.24) БЕЛА екипа је у нападу и игра без голмана (празан гол). БЕЛИ 11 упућује ударац према голу. Голман ЦРНИ 1 брани ударац те изводи голманово бацање као ударац према празном голу. БЕЛИ 10 покушава спречити ударац тако што се одрази ван сопственог голмановог простора и док је у ваздуху ухвати лопту и доскаче у голманов простор с лоптом у руци. Која је исправна одлука ?

- а) Слободно бацање за ЦРНУ екипу
- б) Седмерац за ЦРНУ екипу
- ц) Прогресивна казна за БЕЛОГ 10

ПРАВИЛО 7

- 7.1) Лопта је у ваздуху и иде према аут линији. БЕЛИ 3 успева да дода лопту руком БЕЛОМ 7, пре него што лопта пређе линију. Да би то учинио БЕЛИ 3 прелази једном ногом ван игралишта. БЕЛИ 7 хвата лопту и постиже гол. Исправна одлука?
- а) Аут за ЦРНУ екипу
 - б) Слободно бацање за ЦРНУ екипу
 - ц) Гол
 - д) 2 минута искључења против играча БЕЛОГ 3
- 7.2) Ризично додавање ЦРНОГ 3 ка ЦРНОМ 11. Док је лопта у ваздуху, ЦРНИ 11 схвати да је не може ухватити, па је удари песницом према играчу ЦРНОМ 9 који стоји на средини игралишта. Исправна одлука?
- а) Игра се наставља без прекида
 - б) Слободно бацање за БЕЛУ екипу са позиције ЦРНОГ 9
 - ц) Слободно бацање за БЕЛУ екипу са позиције ЦРНО 11
 - д) 2 минута искључења против ЦРНОГ 11
- 7.3) БЕЛИ 4 стоји и ухвати лопту. Он затим скочи и доскочи на десну ногу, затим скочи и доскочи на леву ногу и шутира. Колико је корака направио играч БЕЛИ 4?
- а) 1 корак
 - б) 2 корака
 - ц) 3 корака
 - д) 4 корака
- 7.4) Играч скочи и ухвати лопту додату од стране саиграча. Доскочи са обе ноге истовремено. Потом дигне десну ногу, направи корак у страну и привуче леву ногу десној. Колико је корака направио?
- а) 1 корак
 - б) 3 корака
 - ц) 0 корака
 - д) 2 корака
- 7.5) Играч ухвати лопту у ваздуху, додату од стране саиграча, доскочи на десну ногу и са те ноге закорачи, најпре спусти леву ногу на тло, а затим и десну и онда шутира. Колико је корака направио?
- а) 3 корака
 - б) 2 корака
 - ц) 1 корак
 - д) 0 корака



7.6) БЕЛИ 5 се спетља са лоптом, али успе да је задржи под контролом. Потом направи три корака, једном одбије лопту о тло, па направи још три корака пре него што постигне гол. Исправна одлука?

- а) Слободно бацање за ЦРНУ екипу
- б) Гол
- ц) Голманово бацање за ЦРНУ екипу
- д) Аут за ЦРНУ екипу

7.7) БЕЛИ 5 жели да започне напад. Удари лопту о тло, између два контакта са лоптом направи пет корака. Потом поново хвата лопту и дода је. Исправна одлука?

- а) Слободно бацање за ЦРНУ екипу
- б) Слободно бацање за БЕЛУ екипу
- ц) Игра се наставља без прекида
- д) Седмерац за ЦРНУ екипу

7.8) ЦРНИ 6 ухвати лопту, оклизне се и падне. Лежећи на леђима додаје лопту ЦРНОМ 9. Исправна одлука?

- а) Слободно бацање за БЕЛУ екипу
- б) Игра се наставља без прекида
- ц) Слободно бацање за ЦРНУ екипу

7.9) БЕЛИ 3 трчи између два противничка играча и гурне лопту у смеру у којем трчи. Поново хвата лопту пре него што је дотакла земљу и има отворен пут према голу ЦРНЕ екипе. БЕЛИ 3 удари лопту о тло још једном и убацује је у гол. Исправна одлука?


- а) Гол
- б) Слободно бацање за ЦРНУ екипу
- ц) Голманово бацање за ЦРНУ екипу

7.10) БЕЛИ 7 жели да дода лопту БЕЛОМ 5 након што ју је једном ударио о под, али БЕЛОГ 5 покрива противнички играч. БЕЛИ 7 се збуну, испусти лопту и поново је ухвати пре него што лопта дотакне тло. Исправна одлука?

- а) Игра се наставља без прекида
- б) Слободно бацање за ЦРНУ екипу
- ц) Слободно бацање за БЕЛУ екипу

7.11) Како се кажњава поновљена пасивна игра?

- а) Слободно бацање и опомена
- б) Слободно бацање и 2 минута искључења
- ц) Слободно бацање
- д) Слободно бацање и дисквалификација (црвени картон показан од стране судија)



7.12 Лопту је на гол упутио БЕЛИ 4, лопта се одбила од стативе гола ЦРНЕ екипе, погодила је судију у голмановом простору близу гола и услед тога прешла аут линију игралишта, а не гол-аут линију. Исправна одлука?

- а) Слободно бацање за БЕЛУ екипу
- б) Аут за ЦРНУ екипу
- ц) Голманово бацање за ЦРНУ екипу

7.13) БЕЛА екипа изводи аут. БЕЛИ 5 баца лопту у поље за игру која погађа судију и улази у гол ЦРНЕ екипе. Исправна одлука?

- а) Понављање аута, после звучног сигнала
- б) Слободно бацање за ЦРНУ екипу
- ц) Слободно бацање за БЕЛУ екипу
- д) Гол БЕЛУ екипу

7.14) ЦРНИ 3 изводи скок-шут, а БЕЛИ 9 блокира лопту. Лопта падне на под, БЕЛИ 9 је узме и крене да је води у контранапад, а затим је убаци у гол ЦРНЕ екипе. Исправна одлука?

- а) Гол 3 БЕЛУ екипу
- б) Слободно бацање за ЦРНУ екипу
- ц) 2 минута искључења против БЕЛОГ 9
- д) Тајм-аут

7.15) БЕЛИ 5 води лопту дуж аут линије. ЦРНИ 2 га правилно омета. Да би прошао ЦРНОГ 2, БЕЛИ 5 прекорачи аут линију једном ногом, за време вођења. Исправна одлука?

- а) Слободно бацање за БЕЛУ екипу
- б) Аут за ЦРНУ екипу
- ц) Слободно бацање за ЦРНУ екипу
- д) Игра се наставља без прекида

7.16) После нетачног додавања БЕЛОГ 3 ка БЕЛОМ 9, лопта се котрља према аут линији близу клупе за резервне играче БЕЛЕ екипе. ЦРНИ 10 је један метар удаљен и спреман да узме лопту, када се БЕЛИ 9 баца за лоптом и избоксује је у правцу средине терена, према играчу БЕЛОМ 3. БЕЛИ 9 затим, услед инерције, проклиже преко аут линије. Исправна одлука?

- а) Игра се наставља без прекида
- б) Слободно бацање за ЦРНУ екипу
- ц) Прогресивна казна против БЕЛОГ 9
- д) Аут за ЦРНУ екипу

7.17) ЦРНИ 7 из нападајуће екипе заузима позицију ван терена без лопте. Судије су показале играчу да мора да се врати на терен, али он не реагује. Исправна одлука?

- а) Игра се наставља без прекида
- б) Слободно бацање БЕЛУ екипу
- ц) Прогресивна казна против ЦРНОГ 7
- д) Аут за БЕЛУ екипу



7.18) Игrač ускаче у голманов простор, има пуну контролу над лоптом и телом и у доброј је позицији за шут. Међутим, уместо да шутне у гол, он се окреће у ваздуху и додаје назад лопту саиграчу, који је додаје даље. Исправна одлука?

- а) Упозоравајући сигнал за пасивну игру
- б) Тренутно слободно бацање, због пасивне игре
- ц) Тренутно слободно бацање, због неспортског понашања
- д) Прогресивна казна

7.19) БЕЛИ 3 шутира на гол ЦРНЕ екипе и погађа стигиву. Лопта се откотрља изван голмановог простора. Поред линије слободног бацања, БЕЛИ 3 и ЦРНИ 4 се бацају за лоптом, неугрожавајући један другог. ЦРНИ 4 успе да гурне лопту до ЦРНОГ 6, који креће у контранапад и постиже гол. Исправна одлука?

- а) Опомена за ЦРНОГ 4
- б) Гол за ЦРНУ екипу
- ц) Слободно бацање за БЕЛУ екипу или ЦРНУ екипу, у зависности од околности
- д) Голманово бацање за ЦРНУ екипу

7.20) БЕЛИ 10 покуша да дода лопту БЕЛОМ 8, који је испред голмановог простора ЦРНЕ екипе. ЦРНИ 10 мирно стоји испред БЕЛОГ 8 и лопта га погађа у ногу. Исправна одлука?

- а) Слободно бацање за БЕЛУ екипу
- б) Игра се наставља без прекида
- ц) Зависи ко ухвати лопту

7.21) БЕЛИ 15 блокира додавање ЦРНОГ 9 и лопта се котрља по поду. БЕЛИ 15 и ЦРНИ 9 се бацају за лоптом, БЕЛИ 15 ухвати лопту и падне на под, затим устане, направи 3 корака са лоптом и дода лопту саиграчу који постиже гол. Исправна одлука?

- а) Гол за БЕЛУ екипу
- б) Слободно бацање за ЦРНУ екипу

7.22) БЕЛА екипа води резултатом 24:23 у 57. минути и има једног играча мање на терену него ЦРНА екипа. Судија у пољу досуђује слободно бацање у корист БЕЛОГ 3. БЕЛИ 6 покушава да изведе слободно бацање очигледно неколико метара даље од исправног места и поред тога што су судије јасно показале тачно место извођења бацања. Исправна одлука?

- а) Корекција позиције, сигнал за наставак игре, без даљих одлука
- б) Корекција позиције, сигнал за наставак игре, судије показују упозоравајући сигнал за пасивну игру
- ц) Корекција позиције, прогресивна казна против БЕЛОГ 6, сигнал за наставак игре, упозоравајући сигнал за пасивну игру

7.23) ЦРНА екипа игра са једним играчем мање. Играчи ЦРНЕ екипе су већ заузели своје позиције у нападу и започињу припремну фазу напада. Тада ЦРНИ 6 и ЦРНИ 8 одлуче да напусте поље за игру и изврше замену. Исправна одлука?

- а) Упозоравајући сигнал
- б) Упозоравајући сигнал, ако они не повећају темпо игре у наредних 5 секунди
- ц) Одмах слободно бацање за БЕЛу А, због пасивне игре
- д) Опомена за ЦРНОМ 6 и ЦРНОМ 8 у случају понављања
- е) 2 минута искључења против ЦРНОГ 6 и ЦРНОГ 8 у случају понављања

7.24) После чега упозоравајући сигнал за пасивну игру престаје да важи?

- а) Враћање лопте у посед нападајуће екипе, после одбране седмерца од стране голмана
- б) Враћање лопте у посед нападајуће екипе, после њеног одбијања од пречке или стативе
- ц) Екипни тајм-аут
- д) Екипа убрзава игру, пре него што поново почиње да игра још спорије
- е) Сваки од поступака од а) до д)

7.25) Која од следећих инструкција је исправна у погледу упозоравајућег сигнала за пасивну игру (ИХФ сигнал број 17)?


- а) Судија код гола је уочио пасивну игру и показао сигнал број 17, а након што је то видео судија у пољу је показао исти сигнал руком
- б) Ако екипа која има лопту у поседу затражи екипни тајм-аут, када је упозоравајући сигнал већ био показан, тада упозоравајући сигнал мора бити поново показан када се игра буде наставила.
- ц) Ако екипа која има лопту у поседу не чини јасан напор да дође у позицију за шут, након што је показан знак упозорења за пасивну игру, онда ће судија у пољу или судија код гола досудити слободно бацање због пасивне игре
- д) После показивања упозоравајућег сигнала судије одлучују о пасивној игри најкасније онда када шут није изведен после 6. додавања

7.26) БЕЛА А одуговлачи са извођењем почетног бацања. Екипа је већ раније била упозорена за ово тактичко понашање. Исправна одлука?

- а) Игра се наставља без прекида
- б) Тајм-аут; почетно бацање после звучног сигнала за наставак
- ц) Тајм-аут; почетно бацање после звучног сигнала за наставак; моментални сигнал за пасивну игру
- д) Почетно бацање после звучног сигнала за наставак; моментални сигнал за пасивну игру
- е) Прогресивна казна за одговорног представника БЕЛЕ екипе

7.27) Које од следећих тврдњи су тачне, а тичу се употребе упозоравајућег сигнала за пасивну игру?

- а) Упозоравајући сигнал увек престаје да важи када званичник одбрамбене екипе добије прогресивну казну
- б) Када је упозоравајући сигнал показан први пут за време напада, руке морају бити спуштене после десетак секунди
- ц) Упозоравајући сигнал мора бити поновљен, као подсетник, после првог прекида, ако је био показан пре прекида
- д) Упозоравајући сигнал увек престаје да важи када одбрамбени играч буде прогресивно кажњен
- е) Судије морају показати упозоравајући сигнал кад играч има лопту јасно под контролом



7.28) Које су од следећих тврдњи везаних за пасивну игру тачне?

- а) Еикипи није дозвољено више од 5 секунди да пређе из фазе припреме напада у фазу завршетка напада
- б) Судије морају да обрате пажњу на успорену и закаснелу замену, након што је почетно бацање изведено
- ц) Судије морају да обрате пажњу на то да ли екипа у фази изградње напада покушава да убрза темпо или само да стекне просторну предност
- д) Судије морају да обрате пажњу на пасивну игру чим екипа има лопту на својој половини
- е) Еикипи која покуша да изведе контранапад мора бити дозвољена нормална замена, ако је контранапад прекинут и започета је нормална изградња напада

7.29) БЕЛА екипа има лопту у поседу, судије показују упозоравајући сигнал за пасивну игру. После три додавања, БЕЛИ 5 шутира на гол. ЦРНИ 2 је блокирао шут и лопта се враћа БЕЛОМ 5 који је додаје БЕЛОМ 9. Колико је додавања учињено?

- а) 3
- б) 4
- ц) 5

7.30) БЕЛА екипа има лопту у поседу, судије показују упозоравајући сигнал за пасивну игру. БЕЛИ 9 покуша да дода лопту БЕЛОМ 2, али лопту блокира ЦРНИ 8 и лопта се одбије назад БЕЛОМ 9. БЕЛИ 9 покушава да се пробије кроз одбрану и добије слободно бацање. БЕЛИ 8 изводи слободно бацање додајући лопту БЕЛОМ 2. Колико је додавања учињено?

- а) 1
- б) 2
- ц) 3

7.31) БЕЛА екипа има лопту у поседу, судије уочавају тенденцију ка пасивној игри БЕЛЕ екипе и показују знак упозорења за пасивну игру. ЦРНА екипа уочава показан сигнал и почиње да игра много агресивније у одбрани, правећи прекршаје за слободно бацање. После 5 додавања БЕЛЕ екипе, ЦРНА екипа направи прекршај за слободно бацање. Исправна одлука?

- а) БЕЛОЈ екипи је преостало 6 додавања до шута на гол
- б) БЕЛОЈ екипи су преостала 2 додавања до шута на гол
- ц) БЕЛОЈ екипи је преостало још 1 додавање до шута на гол
- д) БЕЛА екипа мора да изведе слободно бацање као директан шут на гол

7.32) БЕЛА екипа је у нападу, судије уочавају тенденцију ка пасивној игри БЕЛЕ екипе и показују упозоравајући сигнал. БЕЛА екипа је направила четири додавања пре него што је БЕЛИ 9 шутирао на гол. Шут је блокирао ЦРНИ 3 и лопта одлази преко аут линије. Аут је за БЕЛУ екипу. Исправна одлука?

- а) Упозоравајући сигнал за пасивну игру више не важи
- б) БЕЛОЈ екипи је преостало 6 додавања до шута на гол
- ц) БЕЛОЈ екипи су преостала 2 додавања до шута на гол
- д) БЕЛОЈ екипи је преостало још 1 додавање до шута на гол



7.33) Лопта је у поседу БЕЛЕ екипе и због тенденције ка пасивној игри БЕЛЕ екипе судије показују упозоравајући сигнал. После шест додавања БЕЛИ 5 шутира на гол. ЦРНИ 3 блокира шут и лопта се враћа БЕЛОМ 5. Исправна одлука?

- а) Слободно бацање за ЦРНУ екипу
- б) БЕЛОЈ екипи је преостало још једно додавање до шута на гол
- ц) Упозоравајући сигнал за пасивну игру и даље важи
- д) Упозоравајући сигнал за пасивну игру више не важи
- е) БЕЛА екипа нема више додавања до шута на гол

7.34) ЦРНА екипа је у нападу. Судије показују знак за пасивну игру. ЦРНИ 7 додаје лопту ЦРНОМ 11. ЦРНИ 11 покушава проћи али је заустављен од стране БЕЛОГ 3. Судије досуђују слободно бацање за ЦРНУ екипу. ЦРНИ 11 изводи слободно бацање и додаје ЦРНОМ 2 који шутира према голу, али је ударац блокиран од одбрамбеног БЕЛОГ 4, те се лопта одбија назад до ЦРНОГ 11. ЦРНИ 11 упућује ударац на гол, али је лагано одгурнут од БЕЛОГ 5, те голман БЕЛИ 1 успева одбранили ударац. Која је исправна одлука ?

- а) Слободно бацање за ЦРНЕ; нови напад, зато што је ЦРНА екипа стекла поново посед лопте
- б) Слободно бацање за ЦРНЕ; знак за пасивни напад, ЦРНА екипа је већ искористила два додавања
- ц) Слободно бацање за ЦРНЕ; знак за пасивни напад, ЦРНА екипа је већ искористила три додавања
- д) Слободно бацање за ЦРНЕ; знак за пасивни напад, ЦРНА екипа је већ искористила четири додавања



ПРАВИЛО 8

8.1) За време контранапада БЕЛЕ екипе, ЦРНИ 7 улази на терен као прекобројни играч, хвата БЕЛОГ 5 и тако спречи јасну ситуацију за постизање гола. Исправна одлука?

- а) 2 минута искључења против ЦРНОГ 7
- б) Дисквалификација ЦРНОГ 7 без писане пријаве (црвени картон показан од стране судија)
- ц) Дисквалификација ЦРНОГ 7 са писаном пријавом (црвени и плави картон показани од стране судија)
- д) Слободно бацање
- е) Седмерац

8.2) ЦРНИ 8, који није унесен у записник утакмице, стиже касније и право из свлачионице утрчава на терен. Он спречи јасну ситуацију за постизање гола, гурајући у леђа БЕЛОГ 6, који је био у скок-шуту, тако да БЕЛИ 6 изгуби контролу над телом. Исправна одлука?

- а) Седмерац за БЕЛУ екипу
- б) Слободно бацање за БЕЛУ екипу
- ц) Дисквалификација ЦРНОГ 8 без писане пријаве (црвени картон показан од стране судија)
- д) Дисквалификација ЦРНОГ 8 са писаном пријавом (црвени и плави картон показани од стране судија)
- е) Прогресивна казна против одговорног представника ЦРНЕ екипе

8.3) На путу у свлачионицу за време паузе између два полувремена, званичник Б БЕЛЕ екипе приговара судијама на неспортски начин. Званичник А БЕЛЕ екипе је већ кажњен опоменом за време првог полувремена. Исправна одлука?

- а) 2 минута искључења за званичника Б БЕЛЕ екипе
- б) Дисквалификација званичника Б БЕЛЕ екипе (црвени картон показан од стране судија)
- ц) БЕЛА екипа почиње друго полувреме са једним играчем мање у пољу за игру на 2 минута
- д) Ниједна казна није могућа; Писани извештај

8.4) БЕЛИ 6 је већ два пута био кажњен са 2 минута искључења. Сада БЕЛИ 6 прави погрешну замену. Која је исправна одлука, ако се он екстремно неспортски понаша, после судијске одлуке о погрешној замени?

- а) 2 минута искључења против БЕЛОГ 6
- б) Дисквалификација БЕЛОГ 6 без писане извештај (црвени картон показан од стране судија)
- ц) Дисквалификација БЕЛОГ 6 са писаним извештајем (црвени и плави картон показани од стране судија)
- д) БЕЛА екипа ће бити редукована за једног играча у пољу за игру на 2 минута
- е) БЕЛА екипа ће бити редукована за два играча у пољу за игру на 2 минута
- ф) БЕЛА екипа ће бити редукована за једног играча у пољу за игру на 4 минута

8.5) БЕЛИ 2 је искључен на 2 минута, али званичник А БЕЛЕ екипе га пошаље натраг у поље за игру након једног минута. Пре него што се огласи мерилац времена, БЕЛИ 2 спречава јасну прилику за постизање гола ЦРНЕ екипе. Исправна одлука?

- а) Слободно бацање за ЦРНУ екипу и додатна временска казна за играча БЕЛОГ 2
- б) Седмерац за ЦРНУ екипу и додатна временска казна за БЕЛОГ 2 и БЕЛА екипа се даље редукује за остатак временске казне БЕЛОГ 2
- ц) Седмерац, дисквалификација БЕЛОГ 2 и БЕЛА екипа се даље редукује за остатак временске казне БЕЛОГ 2 (црвени картон показан од стране судија)
- д) Седмерац, дисквалификација БЕЛОГ 2 и екипа А се даље редукује за остатак временске казне БЕЛОГ2; писани извештај (црвени и плави картон показани од стране судија)

8.6) За време напада БЕЛЕ екипе пивот БЕЛИ 7, који нема лопту у поседу, блокира ЦРНОГ 4 својим телом. Исправна одлука?

- а) Слободно бацање за ЦРНУ екипу
- б) Прогресивна казна против БЕЛОГ 7
- ц) Игра се наставља без прекида

8.7) Крило БЕЛИ 4 има јасну ситуацију за постизање гола. ЦРНИ 7 покушава да одузме лопту из његове руке, али га удари по подлактици. Лопта промаши гол. Исправна одлука?


- а) Слободно бацање за БЕЛУ екипу
- б) Седмерац за БЕЛУ екипу
- ц) 2 минута искључења против ЦРНОГ 7
- д) Опомена за ЦРНОГ 7
- е) Нема прогресивне казне против ЦРНОГ 7

8.8) БЕЛИ 6 је у контранападу, голман ЦРНИ 12 напусти голманов простор да би освојио лопту, али се судари са БЕЛИМ 6. Међутим, одбрамбени играч ЦРНЕ екипе је могао да заустави БЕЛОГ 6 на исправан начин. Исправна одлука?


- а) 2 минута искључења против ЦРНОГ 12
- б) Дисквалификација ЦРНОГ 12 (црвени картон показан од стране судија)
- ц) Седмерац за БЕЛУ екипу
- д) Слободно бацање за БЕЛУ екипу
- е) Дисквалификација ЦРНОГ 12 са писаним извештајем (црвени и плави картон показани од стране судија)

8.9) БЕЛИ 2 жели да дода лопту саиграчу на другој половини терена, али му саиграча држи ЦРНИ 5. ЦРНИ 5 већ има опомену, након што је натрчао на противника без лопте. Исправна одлука?

- а) Слободно бацање за БЕЛУ екипу
- б) 2 минута искључења против ЦРНОГ 5
- ц) Дисквалификација ЦРНОГ 5 (црвени картон показан од стране судија)
- д) Писани извештај (плави картон показан од стране судија)



- 8.10) Лопта долази до пивотмена БЕЛОГ 9 који сам стоји испред линије голмановог простора. За шутерску руку га повлачи отпозади ЦРНИ 2. Исправна одлука?**
- а) Слободно бацање за БЕЛУ екипу
 - б) Седмерац за БЕЛУ екипу
 - ц) 2 минута искључење против ЦРНОГ 2
 - д) Дисквалификација ЦРНОГ 2 (црвени картон показан од стране судија)
 - е) Писани извештај (плави картон показан од стране судија)
- 8.11) Убрзо након што је БЕЛИ 9 опоменут због гурања у првом минуту утакмице, ЦРНИ 7 држи пивота БЕЛЕ екипе (није јасна ситуација за постизање гола). Исправна одлука?**
- а) Слободно бацање за БЕЛУ екипу
 - б) Седмерац за БЕЛУ екипу
 - ц) опомена за ЦРНОГ 7
 - д) 2 минута искључења ЦРНОГ 7
- 8.12) БЕЛИ 4 добије лопту код голмановог простора противника и испред њега је само голман. Пре него што БЕЛИ 4 покуша да постигне гол, ЦРНИ 7 га повуче за дрес са леђа и обори га, након чега БЕЛИ 4 губи лопту. Исправна одлука?**
- а) опомена за ЦРНОГ 3
 - б) 2 минута искључења против ЦРНОГ 3
 - ц) Дисквалификација ЦРНОГ 3 (црвени картон показан од стране судија)
 - д) Слободно бацање за БЕЛУ екипу
 - е) Седмерац за БЕЛУ екипу
- 8.13) Када се играч мора дисквалификовати (црвени или црвени и плави картон показани од стране судија)?**
- а) За прекршај који угрожава здравље противника
 - б) За екстремно неспортско понашање на терену и ван њега
 - ц) За поновљено неспортско понашање на терену
 - д) За неправилну замену током издржавања казне (није јасна ситуација за постизање гола)
- 8.14) За време контранапада БЕЛОГ 5, званичник Ц ЦРНЕ екипе утрчава са клупе у правцу свог голмановог простора. БЕЛИ 5 се збуни тако да престане да трчи. По мишљењу судије БЕЛИ 5 је имао јасну ситуацију за постизање гола. Званичник Ц који је начинио прекршај није додирнуо противничког играча са лоптом; најкраћа удаљеност између њега и БЕЛОГ 5 била је отприлике 10 метара. Исправна одлука?**
- а) Тајм-аут
 - б) Слободно бацање за БЕЛУ екипу
 - ц) Седмерац за БЕЛУ екипу
 - д) Дисквалификација званичника Ц ЦРНЕ екипе (црвени картон показан од стране судија)
 - е) Дисквалификација званичника Ц ЦРНЕ екипе; писани извештај (црвени и плави картон показани од стране судија)
 - ф) ЦРНА екипа се редукује за једног играча на терену на 2 минута



8.15) БЕЛА екипа је у контранападу. БЕЛИ 5 жели да дода лопту БЕЛОМ 7 који је сам испред линије голмановог простора ЦРНЕ екипе. Када БЕЛИ 5 баца лопту, званичник Д ЦРНЕ екипе утрчава на терен и хвата лопту. Исправна одлука?

- а) Слободно бацање за БЕЛУ екипу
- б) Седмерац за БЕЛУ екипу
- ц) 2 минута искључења званичника Д ЦРНЕ екипе
- д) Дисквалификација званичника Д ЦРНЕ екипе без писаног извештаја (црвени картон показан од стране судија)
- е) Дисквалификација званичника Д ЦРНЕ екипе; писани извештај (црвени и плави картон показани од стране судија)
- ф) ЦРНА екипа се редукује за једног играча на терену на 2 минута

8.16) Које се од наведених радњи дефинишу као екстремно неспортско понашање које ће бити кажњено дисквалификацијом за писаним извештајем (црвени и плави картон показани од стране судија)?

- а) Поновљена одбрана стопалом или потколеницом од стране играча у пољу
- б) Званичник спречава јасну ситуацију за постизање гола
- ц) Пљување на другу особу
- д) Поновљено одуговлачење игре у циљу трошења времена

8.17) Док су улазили у халу у којој се игра утакмица судије сретну ЦРНОГ 4 који је у спортској опреми, али који није уписан у записник утакмице. ЦРНИ 4 је прокоментарисао "не опет ти идиоти!". Играо се 12. минут утакмице, ЦРНИ 4 је додат у записник утакмице као 14. играч своје екипе. То су судије уочиле. Исправна одлука?

- а) Дисквалификација без писаног извештаја ЦРНОГ 4 (црвени картон показан од стране судија)
- б) ЦРНА екипа се редукује на терену за једног играча у трајању од 2 минута
- ц) ЦРНА екипа наставља без редукције играча на терену
- д) Дисквалификација ЦРНОГ 4, писани извештај (црвени и плави картон показани од стране судија)
- е) ЦРНА екипа може додати другог играча да комплетира своју екипу до броја од 14 играча

8.18) Након досуђеног слободног бацања за БЕЛУ екипу, званичник Ц ЦРНЕ екипе улази у поље за игру вичући "Али, то је требало бити слободно бацање за нас!". Ниједан званичник ЦРНЕ екипе претходно није кажњен. Исправна одлука?

- а) Одговорни представник ЦРНЕ екипе мора одвести званичника Ц напоље из хале
- б) 2 минута искључења противн званичника Ц ЦРНЕ екипе, ЦРНА екипа је редукована за једног играча на терену на 2 минута
- ц) Опомена за званичника Ц ЦРНЕ екипе
- д) Слободно бацање за БЕЛУ екипу



8.19) БЕЛИ 3 је добио опомену за прекршај у пољу за игру, који се прогресивно кажњава. После наставка игре и након што је замењен, БЕЛИ 3 вређа судије с клупе за резервне играче. Исправна одлука?

- а) Дисквалификација за БЕЛОГ 3 без писаног извештаја (црвени картон показан од стране судија) и БЕЛА екипа се редукује за једног играча на терену на 2 минута
- б) Дисквалификација БЕЛОГ 3 са писаним извештајем (црвени и плави картон показани од стране судија) и БЕЛА екипа се редукује за једног играча на терену на 2 минута
- ц) 2 минута искључења против БЕЛОГ 3 и БЕЛА екипа се редукује за једног играча на терену на 2 минута
- д) Тајм-аут

8.20) За време контранапада БЕЛИ 4, који већ има опомену, повлачи ЦРНОГ 9 за дрес. Упркос томе ЦРНИ 9 успева да дода лопту ЦРНОМ 8 који постиже гол. Судије желе накнадно да казне БЕЛОГ 4, али он тада већ седи на клупи за резервне играче. Исправна одлука?

- а) 2 минута искључења против БЕЛОГ 4; БЕЛА екипа се редукује за једног играча на терену на 2 минута
- б) БЕЛИ 4 не сме да игра следећа 2 минута, али екипа у пољу комплетна
- ц) Казна више није могућа
- д) Дисквалификација БЕЛОГ 4 (црвени картон показан од стране судија) БЕЛА екипа се редукује за једног играча на терену на 2 минута

8.21) Када треба дисквалификовати играча (црвени или црвени и плави картон показани од стране судија)?


- а) За грубо неспортско понашање
- б) За спречавање јасне ситуације за постизање гола блокирањем шута или додавања намерним коришћењем стопала
- ц) За неправилну замену у току трајања временске казне (није јасна ситуација за постизање гола)
- д) За непуштање лопте кад је досуђено слободног бацања за противничку екипу (није у последњих 30 секунди)

8.22) ЦРНА екипа је у нападу, БЕЛИ 11 одузима лопту ЦРНОМ 6 прекршајем опасним по здравље ЦРНОГ 6. За време прекршаја још су БЕЛИ 7 и БЕЛИ 8 између ЦРНОГ 6 и гола БЕЛЕ екипе. Исправна одлука?

- а) 2 минута искључења против БЕЛОГ 11
- б) Дисквалификација за БЕЛОГ 11 (црвени картон показан од стране судија)
- ц) Седмерац за ЦРНУ екипу
- д) Слободно бацање за ЦРНУ екипу

8.23) Који од наведених прекршаја морају бити кажњени дисквалификацијом са писаним извештајем у складу са Правилима игре (црвени и плави картон показани од стране судија)?

- а) Званичник екипе други пут улази у поље за игру без дозволе
- б) Званичник екипе покушава да присили своју екипу да напусти утакмицу
- ц) Када извођач седмерца погоди голмана у главу, а да голман није померао главу у правцу лопте
- д) Након судијске одлуке играч демонстративно баца лопту на трибине
- е) Играч изван терена пљуне на гледаоца



8.24) БЕЛИ 3 је искључен на 2 минута због прекршаја и седи на клупи. За време извођења аута у близини клупе, БЕЛИ 3 опсује судије. Исправна одлука?

- а) 2 минута искључења против БЕЛОГ 3
- б) Дисквалификација БЕЛОГ 3 без писаног извештаја (црвени картон показан од стране судија) која проузрокује моменталну редукују БЕЛЕ екипе за једног играча на терену на 2 минута
- ц) БЕЛА екипа се редукују за једног играча на терену на 4 минута
- д) Дисквалификација БЕЛОГ 3 са писаним извештајем (црвени и плави картон показани од стране судија) која проузрокује моменталну редукују БЕЛЕ екипе за једног играча на терену на 2 минута

8.25) Разочаран грешком, БЕЛИ 3 удари саиграча у лице. Исправна одлука?

- а) Ништа, јер је напао саиграча
- б) 2 минута искључења против БЕЛОГ 3
- ц) Дисквалификација за БЕЛОГ 3 (црвени картон показана од стране судија)
- д) Дисквалификација БЕЛОГ 3 са писаним извештајем (црвени и плави картон показани од стране судија)

8.26) Улазећи у дворану судије сретну ЦРНОГ 4 који је већ обучен у дрес и који им довикне: "Ма, не опет ови идиоти!". Судије су утврдиле да се ЦРНИ 4 налази у записнику утакмице. Исправна одлука?

- а) 2 минута искључења против ЦРНОГ 4 на почетку утакмице
- б) Дисквалификација ЦРНОГ 4 без писаног извештаја (црвени картон показан од стране судија) и ЦРНА екипа се редукује за једног играча на терену на 2 минута, на почетку утакмице
- ц) Дисквалификација ЦРНОГ 4 са писаним извештајем (црвени и плави картон показани од стране судија) и ЦРНА екипа може користити 14 играча на утакмици
- д) Дисквалификација ЦРНОГ 4 са писаним извештајем (црвени и плави картон показани од стране судија) и ЦРНА екипа може користити 14 играча на утакмици, али се редукује за једног играча на терену на 2 минута, на почетку утакмице

8.27) На загревању пре утакмице БЕЛИ 3 и голман ЦРНИ 1 се нехотице сударе. Изнервирају се и ЦРНИ 1 удари БЕЛОГ 3. БЕЛИ 3 му одмах узврати. Оба играча су унесена у записник утакмице. Исправна одлука?

- а) Дисквалификација ЦРНОГ 1 са писаним извештајем (црвени и плави картон показани од стране судија) и 2 минута искључења против БЕЛОГ 3; Екипе могу користити 14 играча
- б) Дисквалификација ЦРНОГ 1 и БЕЛОГ 3 са писаним извештајем (црвени и плави картон показани од стране судија) екипе могу користити 14 играча на утакмици, али обе екипе се редукују за једног играча на терену на 2 минута на почетку утакмице
- ц) Оба играча добијају 2 минута искључења које мора бити издржано на почетку утакмице. Писани извештај
- д) Дисквалификација ЦРНОГ 1 и БЕЛОГ 3 са писаним извештајем (црвени и плави картон показани од стране судија); Екипе могу користити 14 играча на утакмици

8.28) БЕЛИ 9 изводи скок-шут. ЦРНИ 5 га са леђа хвата за шутерску руку и повлачи надоле. ЦРНИ 10 и ЦРНИ 11 се налазе између БЕЛОГ 9 и гола ЦРНЕ екипе. Исправна одлука?

- а) Слободно бацање за БЕЛУ екипу
- б) Семерац за БЕЛУ екипу
- ц) Дисквалификација без писаног извештаја за ЦРНОГ 5 (црвени картон показан од стране судија)
- д) 2 минута искључења против ЦРНОГ 5
- е) Дисквалификација са писаним извештајем за ЦРНОГ 5 (црвени и плави картон показани од стране судија)

8.29) Који од наведених прекршаја мора бити кажњен дисквалификацијом (црвени картон показан од стране судија)?

- а) Званичник улази у поље за игру други пут без дозволе
- б) Играч који трчи у контранапад је повучен и оборен. Ситуација није нарочито опасна.
- ц) Седмерац изведен у лице голмана који се не помера у правцу лопте
- д) Након судијске одлуке играч у знак протеста баца лопту на трибине
- е) Голман напушта голманов простор и хвата лопту, али приликом кретања изазове судар са противником који трчи у контранапад

8.30) БЕЛИ 9 је дисквалификован после трећег искључења на 2 минута. У тренерци седа у први ред гледалишта уз аут линију, насупрот простору за замену играча. Тачно испред њега, у ЦРНИ 3 направи посебно опасан прекршај против БЕЛОГ 10. Повређен играч остаје на поду. Пре него што су судије могле да казне ЦРНОГ 3, БЕЛИ 9 утрчи у поље за игру и ударцем обара ЦРНОГ 3. Исправна одлука?

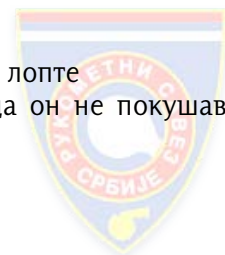
- а) Тајм-аут
- б) Дисквалификација ЦРНОГ 3, писани извештај (црвени и плави картон показани од стране судија)
- ц) БЕЛИ 9 више не учествује у утакмици, није могућа напомена
- д) Писани извештај о понашању БЕЛОГ 9
- е) Дисквалификација без писаног извештаја за ЦРНОГ 3 (црвени картон показан од стране судија)
- ф) БЕЛИ 10 мора напустити терен после указане медицинске помоћи и може се вратити после трећег напада БЕЛЕ екипе

8.31) Опомена ће бити дата за?

- а) Прекршај у којем је акција усмерена углавном или сасвим ка телу противника
- б) Прекршај прилико извођења неког од бацања противничке екипе
- ц) Неспуштање лопте на тло код досуђеног прекршаја против екипе која је имала лопту у поседу
- д) Покушај голмана да обави замену када је противник спреман за извођење седмерца

8.32) Шта се сматра неспортским понашањем?

- а) Бацање лопте у главу одбрамбеног играча који се не креће у правцу лопте
- б) Пасиван став голмана током извођења седмерца, када је очито да он не покушава да брани шут
- ц) Покушај обмане судије симулирањем
- д) Активно блокирање шута на гол коришћењем ноге или потколенице
- е) Поновљени улазак у голманов простор, из тактичких разлога
- ф) Реванш после прекршаја



8.33) У којим ситуацијама уз дисквалификацију мора следити писани извештај (црвени и плави картон показани од стране судија)?

- а) Физички напад на терену, за време паузе између два полувремена
- б) Нарочито несмотрена и опасна акција
- ц) Реванш после прекршаја
- д) Злонамерна акција која никако није у вези са ситуацијом у игри

8.34) Почетно бацање за БЕЛУ екипу у последњих 30 секунди утакмице. Судија је дао звучни сигнал, али лопта још увек није напустила руку извођача БЕЛОГ 9. БЕЛИ 3 трчи после звучног сигнала преко средишње линије и бива оборен с леђа од стране ЦРНОГ 5, који жели да спречи БЕЛОГ 3 да прими лопту. Исправна одлука?

- а) 2 минута искључења против ЦРНОГ 5
- б) Дисквалификација без писаног извештаја ЦРНОГ 5 (црвени картон показан од стране судија)
- ц) Слободно бацање за БЕЛУ екипу
- д) Седмерац за БЕЛУ екипу
- е) Почетно бацање за БЕЛУ екипу
- ф) Дисквалификација са писаним извештајем ЦРНОГ 5 (црвени и плави картон показани од стране судија)

8.35) ЦРНИ 8 је добио 2 минута искључења због погрешне замене. Две секунде после наставка игре, он протестује на неспортски начин, против судија, са клупе за резервне играче. Исправна одлука?

- а) Додатна 2 минута искључења за ЦРНОГ 8
- б) Дисквалификација без писаног извештаја за ЦРНОГ 8 (црвени картон показан од стране судија)
- ц) ЦРНА екипа ће бити редукована за два играча на терену за наредних 1 минут и 58 секунди, а затим за једног играча на терену на две секунде
- д) ЦРНА екипа ће бити редукована за два играча на терену за два наредна минута
- е) Слободно бацање за БЕЛУ екипу
- ф) Тајм-аут

8.36) Голман БЕЛИ 1 упућује дугачко додавање према саиграчу БЕЛОМ 15, који трчи сам према противничком голу. Голман ЦРНИ 12 напушта свој голманов простор, скаче, хвата лопту и судари се са БЕЛИМ 15 док је у ваздуху. Оба играча падну на под и леже повређени. Исправна одлука?

- а) Тајм-аут, 2 минута искључења БЕЛОГ 15
- б) Тајм-аут, 2 минута искључења ЦРНОГ 12
- ц) Тајм-аут, дисквалификација ЦРНОГ 12
- д) Слободно бацање за БЕЛУ екипу
- е) Слободно бацање за ЦРНУ екипу
- ф) Седмерац за БЕЛУ екипу



8.37) ЦРНА екипа има лопту у поседу. Делегат прекида игру, јер је званичник А ЦРНЕ екипе бацио столицу у поље за игру, протестујући против одлуке судија. Претходно није било кажњавања званичника ЦРНЕ екипе. ЦРНИ 7 је у јасној ситуацији за постизање гола, када је игра прекинута. Исправна одлука?

- а) Опомена за званичника А ЦРНЕ екипе
- б) 2 минута искључења против званичника А ЦРНЕ екипе
- ц) Дисквалификација без писаног извештаја за званичника А ЦРНЕ екипе (црвени картон показан од стране судија)
- д) Слободно бацање за БЕЛУ екипу
- е) Седмерац за ЦРНУ екипу
- ф) Дисквалификација са писаним извештајем за званичника А ЦРНЕ екипе (црвени и плави картон показани од стране судија)

8.38) Званичник А БЕЛЕ екипе жучно протестује против одлуке судије против његове екипе, и изјављује: "Ви сте идиоти". Званичник Ц БЕЛЕ екипе већ је добио опомену 10 минута раније. Исправна одлука?

- а) Опомена за званичника А БЕЛЕ екипе због неспортског понашања
- б) 2 минута искључења за званичника А БЕЛЕ екипе; БЕЛА екипа се на терену редукује 2 минута за једног играча
- ц) Дисквалификација званичника А БЕЛЕ екипе са писаним извештајем (црвени и плави картон показани од стране судија), БЕЛА екипа се на терену редукује 2 минута за једног играча
- д) Тајм-аут

8.39) Голман БЕЛИ 1 жели да изведе голманово бацање. ЦРНИ 3 по други пут улази у голманов простор и покушава да спречи голмана БЕЛОГ 1 да изведе бацање, али без контакта са њим. Исправна одлука?

- а) Слободно бацање за БЕЛУ екипу
- б) Голманово бацање за БЕЛУ екипуе после звучног сигнала
- ц) Опомена за ЦРНОГ 3
- д) 2 минута искључења против ЦРНОГ 3
- е) Тајм-аут

8.40) БЕЛИ 4 додирује лопту која се котрља по поду голмановог простора ЦРНЕ екипе. У следећем тренутку он је гурнут на под од стране ЦРНОГ 6. Исправна одлука?

- а) Прогресивна казна против ЦРНОГ 6
- б) Слободно бацање за БЕЛУ екипу
- ц) Голманово бацање за ЦРНУ екипу
- д) Слободно бацање за ЦРНУ екипу

8.41) БЕЛИ 7 је управо добио 2 минута искључења због неспортског понашања. Ово је његово прво искључење. Десет секунди након што је утакмица настављена, он енергично гестикулира на клупи, и даље показујући да се не слаже са судијама. Исправна одлука?

- а) Дисквалификација без писаног извештаја за БЕЛОГ 7 (црвени картон показан од стране судија)
- б) 2 минута искључења против БЕЛОГ 7; БЕЛИ 7 мора остати на клупи 4 минута
- ц) БЕЛИ 7 добија додатна 2 минута искључења; БЕЛА екипа ће бити редукована за два играча у пољу за игру за 1 минут и 50 секунди, а затим за једног играча у пољу за игру за 10 секунди
- д) Опомена, зато што је кажњавање на клупи одвојено од кажњавања на терену

- 8.42) БЕЛИ 6 је гурнут од стране ЦРНОГ 3, а овај демонстративно пљуне на под испред ЦРНОГ 3. Како ће БЕЛИ 6 бити кажњен?**
- а) Прогресивна казна
 - б) Увек са 2 минута искључења
 - ц) Дисквалификација без писаног извештаја (црвени картон показан од стране судија)
 - д) Дисквалификација за писаним извештајем (црвени и плави картон показани од стране судија)
- 8.43) Голман БЕЛИ 12 трчи из голмановог простора према ЦРНОМ 10 који је у контранападу. БЕЛИ 12 прилази ЦРНОМ 10 са стране и хвата га, али ЦРНИ 10 хвата лопту и упуту шут у празан гол. Исправна одлука?**
- а) Почетно бацање
 - б) Тајм - аут
 - ц) Дисквалификација БЕЛОГ 12
 - д) 2 минута искључења против БЕЛОГ 12
 - е) Седмерац за ЦРНУ екипу
- 8.44) Голман БЕЛИ 16 изводи голманово бацање, упутивши дугачко додавање према саиграчу БЕЛОМ 4, који трчи у контранапад. БЕЛИ 4 скаче да ухвати лопту и одмах након тога се судари са голманом ЦРНИМ 1, који је одлучио да напусти свој голманов простор у покушају да заустави контранапад. У тренутку судара ЦРНИ 1 је стајао потпуно мирно испред линије 9 метара. После судара, БЕЛИ 4 изгуби контролу над телом и пада на под. Исправна одлука?**
- а) Прекршај у нападу – слободно бацање за ЦРНУ екипу
 - б) Слободно бацање за БЕЛУ екипу
 - ц) Седмерац за БЕЛУ екипу
 - д) Прогресивна казна против ЦРНОГ 1
 - е) Дисквалификација без писаног извештаја за ЦРНОГ 1 (црвени картон показан од стране судија)
- 8.45) Који од наведених прекршаја мора бити кажњен дисквалификацијом са писаним извештајем, у складу са правилима (црвени и плави картон показани од стране судија)?**
- а) Играч пљуне ка противнику и погоди га
 - б) Званичник покушава да повуче екипу са терена
 - ц) Извођач седмерца погоди голмана у главу, а да голман притом није померао главу у правцу лопте
 - д) После судијске одлуке, играч демонстративно баци лопту на трибине
 - е) Играч изван поља за игру пљуне гледаоца, тако да га погоди
 - ф) Играч намерно удара противника у стомак
- 8.46) Време игре 59:26. ЦРНИ 10 трчи сам у контранапад. Када добије лопту од саиграча, ЦРНИ 10 се судари са голманом БЕЛИМ 1 који је напустио голманов простор. Пре него што падне, ЦРНИ 10 успева да дода лопту ЦРНОМ 7 који шутира на празан гол, али промашује. Када судије дају тајм-аут време игре је 59:31. Исправна одлука?**
- а) Слободно бацање
 - б) Седмерац
 - ц) Црвени картон БЕЛОМ 1
 - д) Плави картон БЕЛОМ 1
 - е) Голманово бацање

8.47) БЕЛА екипа је у нападу са 7 играча. ЦРНИ 5 пресеца додавање и има лопту у поседу. Он тренутно покуша да шутне на гол, БЕЛИ 2 покушава да га спречи у томе, покушавајући да узме лопту из његове руке. Чинећи то он удари ЦРНОГ 5 у подлактицу, тако да лопта промаши гол. БЕЛА екипа је раније већ добила 3 опомене. Исправна одлука?

- а) Голманово бацање за БЕЛУ екипу
- б) Слободно бацање за ЦРНУ екипу
- ц) Седмерац за ЦРНУ екипу
- д) 2 минута искључења против БЕЛОГ 2
- е) Тајм-аут

8.48) БЕЛА екипа је у нападу са 7 играча. ЦРНИ 5 пресеца додавање и има лопту у поседу. Он тренутно покуша да шутне на гол, БЕЛИ 2 покушава да га спречи у томе, обарајући га. Лопта промаши гол. Исправна одлука?

- а) Голманово бацање за БЕЛУ екипу
- б) Слободно бацање за ЦРНУ екипу
- ц) Седмерац за ЦРНУ екипу
- д) 2 минута искључења против БЕЛОГ 2
- е) Тајм-аут

8.49) БЕЛА екипа је у нападу са 7 играча. БЕЛИ 4 шутира на гол, али је голман ЦРНИ 1 одбранио шут. ЦРНИ 1 додаје лопту ЦРНОМ 9. Баш када је голман БЕЛИ 12 ушао у свој голманов простор, ЦРНИ 9 покуша да шутира на гол, у чему га прекршајем спречи БЕЛИ 2. Лопта одлази преко гол-аут линије. Исправна одлука?

- а) Голманово бацање за БЕЛУ екипу
- б) Слободно бацање за ЦРНУ екипу
- ц) Седмерац за ЦРНУ екипу

8.50) БЕЛА екипа је у нападу са 7 играча. БЕЛИ 4 шутира на гол, али је голман ЦРНИ 1 одбранио шут и стоји са лоптом у свом голмановом простору, спреман да изведе голманово бацање. У том моменту делегат прекида игру, због погрешне замене, јер је голман БЕЛИ 1 ушао на терен пре него што га је БЕЛИ 7 напустио. Исправна одлука?

- а) Голманово бацање за ЦРНУ екипу после звучног сигнала
- б) Тајм-аут
- ц) Слободно бацање за ЦРНУ екипу
- д) Седмерац за ЦРНУ екипу
- е) 2 минута искључења против БЕЛОГ 1
- ф) 2 минута искључења против БЕЛОГ 7

8.51) БЕЛА екипа је у нападу са 7 играча. БЕЛИ 4 шутира на гол, али је голман ЦРНИ 12 одбранио шут. ЦРНИ 12 додаје ЦРНОМ 9 који шутира на гол. Играч у пољу БЕЛИ 10 уђе у свој голманов простор и успе да одбрани шут. Лопта одлази преко гол-аут линије. Исправна одлука?

- а) Аут за ЦРНУ екипу
- б) Слободно бацање за ЦРНУ екипу
- ц) Седмерац за ЦРНУ екипу
- д) Прогресивна казна против БЕЛОГ 10

8.52) БЕЛА екипа је у нападу са 7 играча. БЕЛИ 6 шутира на гол, али је голман ЦРНИ 1 одбранио шут. ЦРНИ 1 тренутно покуша да погоди празан гол, али лопта промаши гол и одлази преко гол-аут линије. Исправна одлука?

- а) Голманово бацање за БЕЛУ екипу
- б) Голманово бацање може извести неки од играча БЕЛЕ екипе у пољу, да би се задржао ток игре
- ц) БЕЛА екипа мора направити замену да би голман ушао на терен и извео голманово бацање
- д) Тајм-аут је обавезан

8.53) ЦРНА екипа игра са 7 играча у пољу. ЦРНИ 5 шутира на гол, али је голман БЕЛИ 1 одрбанио шут. БЕЛИ 1 покуша да погоди празан гол. У исто време голман ЦРНИ 12 прави погрешну замену, ушавши на терен пре него што га је ЦРНИ 7 напустио. Делегат тренутно прекида игру звучним сигналом. Баш после звучног сигнала од стране делегата, лопта прелази гол-аут линију ЦРНЕ екипе. Исправна одлука?

- а) 2 минута искључења против ЦРНОГ 12
- б) 2 минута искључења против ЦРНОГ 7
- ц) Слободно бацање за БЕЛУ екипу
- д) Седмерац за БЕЛУ екипу
- е) Голманово бацање за ЦРНУ екипу

8.54) ЦРНА екипа игра са 7 играча у пољу. ЦРНИ 6 шутира на гол, али је голман БЕЛИ 1 одрбанио шут. БЕЛИ 1 покуша да погоди празан гол. У исто време голман ЦРНИ 12 прави погрешну замену, ушавши на терен пре него што га је ЦРНИ 7 напустио. Делегат тренутно прекида игру звучним сигналом. Баш после звучног сигнала од стране делегата, лопта прелази гол линију ЦРНЕ екипе и улази у гол. Исправна одлука?

- а) 2 минута искључења против ЦРНОГ 12
- б) 2 минута искључења против ЦРНОГ 7
- ц) Слободно бацање за БЕЛУ екипу
- д) Седмерац за БЕЛУ екипу
- е) Гол за БЕЛУ екипу

8.55) ЦРНА екипа игра са 7 играча у пољу. БЕЛИ 9 пресеца додавање, хвата лопту и успе да погоди празан гол. Лопта остаје у голмановом простору. Исправна одлука?

- а) Гол и почетно бацање за ЦРНУ екипу
- б) Тајм-аут
- ц) Голман мора ући у поље за игру исправном заменом, да би узео лопту из голмановог простора
- д) Лопту може да узме било који играч ЦРНЕ екипе у пољу

8.56) Резултат је 27:27, а остало је 6 секунди до краја утакмице. БЕЛА екипа је у нападу, БЕЛИ 7 покуша да дода лопту пивоту БЕЛОМ 3. ЦРНИ 7 ухвати лопту, у том моменту га обара БЕЛИ 3. Једну секунду касније звучни сигнал означава крај утакмице. Исправна одлука?

- а) Игра је завршена
- б) Слободно бацање за ЦРНУ екипу
- ц) Седмерац за ЦРНУ екипу
- д) 2 минута искључења против БЕЛОГ 3
- е) Дисквалификација БЕЛОГ 3 (црвени картон показан од стране судија)
- ф) Дисквалификација БЕЛОГ 3 са писаним извештајем (црвени и плави картон показани од стране судија)



8.57) Резултат је 27:27, а остало је 10 секунди до краја утакмице. БЕЛА екипа је у нападу, ЦРНИ 5 пресеца додавање и креће у контранапад. Тренутак касније БЕЛИ 11 га нападне са леђа, гурајући га на опасан начин, тако да он изгуби контролу над телом. Пре него што су судије свирале, огласи се завршни сигнал. Исправна одлука?

- а) Игра је завршена
- б) Слободно бацање за ЦРНУ екипу
- ц) Седмерац за ЦРНУ екипу
- д) 2 минута искључења против БЕЛОГ 11
- е) Дисквалификација БЕЛОГ 11 (црвени картон показан од стране судија)
- ф) Дисквалификација БЕЛОГ 11 са писаним извештајем (црвени и плави картон показани од стране судија)

8.58) ЦРНИ 10 има лопту у поседу. У 59:27 изводи скок-шут, а БЕЛИ 2 га гура у груди тако грубо да ЦРНИ 10 потпуно изгуби контролу над телом. Он пада са лоптом на под, судије свирају и заустављају сат на 59:31. Исправна одлука?

- а) Слободно бацање за ЦРНУ екипу
- б) Седмерац за ЦРНУ екипу
- ц) 2 минута искључења против БЕЛОГ 2
- д) Дисквалификација БЕЛОГ 2 (црвени картон показан од стране судија)
- е) Тајм-аут

8.59) Остало је још 15 секунди до краја утакмице, а ЦРНА екипа има лопту у поседу. Судије досуђују слободно бацање за ЦРНУ екипу на средишњој линији. ЦРНИ 7 може да изведе бацање, али је блокиран од стране БЕЛОГ 2. Исправна одлука?

- а) Тајм-аут
- б) Корекција и ново слободно бацање за ЦРНУ екипу после звучног сигнала
- ц) Седмерац за ЦРНУ екипу
- д) 2 минута искључења против БЕЛОГ 2
- е) Дисквалификација БЕЛОГ 2 (црвени картон показан од стране судија)
- ф) Дисквалификација БЕЛОГ 2 са писаним извештајем (црвени и плави картон показани од стране судија)

8.60) ЦРНА екипа је у нападу. Судије досуђују слободно бацање за ЦРНУ екипу са линије слободног бацања, 3 секунде пре краја утакмице. ЦРНИ 10 је у исправном положају и спреман да изведе слободно бацање директно на гол, али БЕЛИ 5, који стоји један метар од ЦРНОГ 10, блокира шут, а после блока се огласи завршни сигнал. Исправна одлука?

- а) Седмерац за ЦРНУ екипу
- б) 2 минута искључења против БЕЛОГ 5
- ц) Дисквалификација БЕЛОГ 5 (црвени картон показан од стране судија)
- д) Слободно бацање за ЦРНУ екипу, после звучног сигнала



8.61) ЦРНА екипа је у нападу. Судије досуђују слободно бацање за ЦРНУ екипу са линије слободног бацања, 3 секунде пре краја утакмице. ЦРНИ 10 је у исправном положају и спреман да изведе слободно бацање директно на гол, али пре него што је могао да га изведе, бива спречен од стране БЕЛОГ 5, који на удаљености од једног метра скаче и маше рукама када се огласи завршни сигнал. Исправна одлука?

- а) 2 минута искључења против БЕЛОГ 5
- б) Дисквалификација БЕЛОГ 5 (црвени картон показан од стране судија)
- ц) Слободно бацање за ЦРНУ екипу
- д) Седмерац за ЦРНУ екипу

8.62) БЕЛИ 2 покушава да се пробије 19 секунди пре краја утакмице, али судије досуђују корак БЕЛОГ 2. После звиждука судија, БЕЛИ 2 шутира на гол. Лопту је ухватио голман ЦРНИ 12 и спреман је да започне контранапад. Исправна одлука?

- а) Игра се наставља
- б) Тајм-аут
- ц) 2 минута искључења против БЕЛОГ 2
- д) Дисквалификација БЕЛОГ 2 (црвени картон показан од стране судија)
- е) Слободно бацање за ЦРНУ екипу
- ф) Седмерац за ЦРНУ екипу

8.63) Резултат је 28:26 за БЕЛУ екипу, преостало је 25 секунди до краја утакмице, ЦРНА екипа постиже погодак. Голман БЕЛИ 12 намерно удари лопту која заврши у гледалишту, Јасно је да је голман намерно ударио лопту због одуговлачења игре, како почетно бацање не би било изведено одмах. Која је исправна одлука ?

- а) Тајм аут
- б) Почетно бацање за БЕЛУ екипу
- ц) Слободно бацање за ЦРНУ екипу
- д) Седмерац за ЦРНУ екипу
- е) Искључење на 2 минута за БЕЛОГ 12
- ф) Дисквалификација БЕЛОГ 12 (судије показују црвени картон)
- г) Дисквалификација с пријавом (судије показују црвени и плави картон)

8.64) Резултат је 25:25, три секунде до краја утакмице. БЕЛА екипа је у нападу. ЦРНИ 5 прави прекршај над БЕЛИМ 2 на линији слободног бацања. Тренутак касније чује се завршни сигнал за крај утакмице. Судије досуђују слободно бацање после завршног сигнала. Пре него што је лопта напустила руку извођача, ЦРНИ 6 искорачи напред и стојећи преблизу извођача блокира ударац. Која је исправна одлука ?

- а) Крај утакмице
- б) Слободно бацање се мора поновити
- ц) Седмерац за БЕЛУ екипу
- д) Искључење на 2 минута за ЦРНОГ 6
- е) Дисквалификација ЦРНОГ 6 (судије показују црвени картон)



8.65) БЕЛА екипа игра у нападу без голмана и са 7 играча у пољу. ЦРНИ 5 пресече додавање и потрчи с лоптом у правцу празног гола БЕЛЕ екипе. Голман БЕЛИ 12 улази у поље за игру после исправно направљене замене и трчи у смеру ЦРНОГ 5. У тренутку шута ЦРНОГ 5, голман БЕЛИ 12 са стране гурне ЦРНОГ 5 који делимично изгуби контролу над телом и због тога промаши гол. Која је исправна одлука ?

- а) Слободно бацање за ЦРНУ екипу
- б) Седмерац за ЦРНУ екипу
- ц) Тајм аут
- д) Искључење на 2 минута за БЕЛОГ 12
- е) Дисквалификација БЕЛОГ 12 (судије показују црвени картон)

8.66) Резултат је 26:26, преостало је 4 секунде до краја утакмице. БЕЛА екипа је у нападу. Досуђено је слободно бацање за БЕЛОГ 4. Бели 4 одмах изводи слободно бацање. Извођење је активно блокирано од стране ЦРНОГ 5 који стоји преблизу. У истом тренутку зачује се завршни сигнал. Која је исправна одлука ?

- а) Слободно бацање се мора поновити
- б) Седмерац за БЕЛУ екипу
- ц) Искључење на 2 минута за ЦРНОГ 5
- д) Дисквалификација ЦРНОГ 5 (судије показују црвени картон)

8.67) Резултат је 26:26, преостало је 4 секунде до краја утакмице. БЕЛА екипа је у нападу. ЦРНИ 5 прави прекршај који проузрокује слободно бацање за БЕЛОГ 6. ЦРНИ 5 се одмах повлачи назад на прописану удаљеност. БЕЛИ 6 изводи слободно бацање и лопта погађа ЦРНОГ 5 који не предузима никакве активне радње. Лопта се одбија назад до БЕЛОГ 6. У истом тренутку зачује се завршни сигнал. Која је исправна одлука ?

- а) Нема даљих акција, утакмица је завршена
- б) Слободно бацање се мора поновити
- ц) Седмерац за БЕЛУ екипу
- д) Искључење на 2 минута за ЦРНОГ 5
- е) Дисквалификација ЦРНОГ 5

8.68) Резултат је 29:29, преостало је 20 секунди до краја утакмице. Голман БЕЛИ 12 брани ударац на гол, те лопта прелази линију ван гола. Судије досуђују голманово бацање за БЕЛУ екипу. БЕЛИ 12 жели да брзо изведе голманово бацање. ЦРНИ 2 утрчи у голманов простор и омета извођење бацања. Која је исправна одлука ?

- а) Тајм аут
- б) Голманово бацање за БЕЛЕ после звиждука
- ц) Слободно бацање за БЕЛЕ после звиждука
- д) Седмерац за БЕЛУ екипу
- е) Искључење на 2 минута за ЦРНОГ 2
- ф) Дисквалификација ЦРНОГ 2 (судије показују црвени картон)
- г) Дисквалификација ЦРНОГ 2 са писаном пријавом (судије показују црвени и плави картон)



8.69) Резултат је 29:29, преостало је 20 секунди до краја утакмице. Голман БЕЛИ 12 брани ударац на гол те лопта прелази линију ван гола. Судије досуђују голманово бацање за БЕЛУ екипу. БЕЛИ 12 је спреман да изведе голманово бацање. Пре него што је лопта напустила његову руку, чуо се звиждук мериоца времена, због погрешне замене ЦРНЕ екипе. ЦРНИ 3 је ушао у поље за игру пре него што је ЦРНИ 11 напустио поље за игру. Која је исправна одлука ?

- а) Тајм аут
- б) Голманово бацање за БЕЛЕ после звиждука
- ц) Слободно бацање за БЕЛЕ у висни простора за замену ЦРНЕ екипе
- д) Седмерац за БЕЛУ екипу
- е) Искључење на 2 минута за ЦРНОГ 3
- ф) Дисквалификација ЦРНОГ 3 (судије показују црвени картон)

8.70) Резултат је 29:29, преостало је 20 секунди до краја утакмице. Голман БЕЛИ 12 брани ударац на гол, те лопта прелази линију ван гола. Судије досуђују голманово бацање за БЕЛУ екипу. БЕЛИ 12 изводи бацање додајући лопту БЕЛОМ 9, који стоји непосредно испред сопственог голмановог простора. Пре него што је лопта прешла линију голмановог простора, чуо се звиждук мериоца времена, због погрешне замене ЦРНЕ екипе. ЦРНИ 3 је ушао у поље за игру пре него што је ЦРНИ 11 напустио поље за игру. Која је исправна одлука ?

- а) Тајм аут
- б) Слободно бацање за БЕЛЕ у висни простора за замену ЦРНЕ екипе
- ц) Седмерац за БЕЛУ екипу
- д) Искључење на 2 минута за ЦРНОГ 3
- е) Дисквалификација ЦРНОГ 3 (судије показују црвени картон)

8.71) Резултат је 29:29, преостало је 10 секунди до краја утакмице. БЕЛА екипа је у контранападу. ЦРНИ 10 зауставља и спречава БЕЛОГ 9 на начин који је опасан по његово здравље. Пре пада, БЕЛИ 9 додаје лопту до БЕЛОГ 11. БЕЛИ 11 шутира на гол, али голман ЦРНИ 12 брани ударац. Која је исправна одлука ?

- а) Искључење на 2 минута за ЦРНОГ 10
- б) Дисквалификација ЦРНОГ 10 (судије показују црвени картон)
- ц) Голманово бацање за ЦРНУ екипу
- д) Слободно бацање за БЕЛУ екипу
- е) Седмерац за БЕЛУ екипу
- ф) Тајм аут

8.72) Резултат је 29:29, преостало је 10 секунди до краја утакмице. БЕЛА екипа је у контранападу. ЦРНИ 10 зауставља и спречава БЕЛОГ 9 на начин који је опасан по његово здравље. Пре пада, БЕЛИ 9 додаје лопту до БЕЛОГ 11. БЕЛИ 11 постиже гол. Која је исправна одлука ?

- а) Искључење на 2 минута за ЦРНОГ 10
- б) Дисквалификација ЦРНОГ 10 (судије показују црвени картон)
- ц) Гол за БЕЛУ екипу
- д) Слободно бацање за БЕЛУ екипу
- е) Седмерац за БЕЛУ екипу
- ф) Тајм аут



8.73) Резултат је 29:29, преостало је 10 секунди до краја утакмице. БЕЛА екипа је у контранападу. ЦРНИ 10 зауставља и спречава БЕЛОГ 9 на начин који је опасан по његово здравље. Пре пада, БЕЛИ 9 додаје лопту до БЕЛОГ 11. БЕЛИ 11 додаје БЕЛОМ 4. Која је исправна одлука ?

- а) Искључење на 2 минута за ЦРНОГ 10
- б) Дисквалификација ЦРНОГ 10 (судије показују црвени картон)
- ц) Судије звижде после додавања БЕЛОГ 11 према БЕЛОМ 4
- д) Слободно бацање за БЕЛУ екипу
- е) Седмерац за БЕЛУ екипу
- ф) Тајм аут



ПРАВИЛО 9

- 9.1) БЕЛИ 7 стоји у средини одбране своје екипе. Када ЦРНИ 3 покуша да дода лопту одбијањем о тло БЕЛИ 7 покуша да заустави лопту ногом. Ово му није први пут да то ради. Лопта га погоди у ногу и уђе у гол БЕЛЕ екипе. Исправна одлука?
- а) Слободно бацање за ЦРНУ екипу
 - б) Гол за ЦРНУ
 - ц) Седмерац за ЦРНУ екипу
 - д) Прогресивна казна против БЕЛОГ 7
- 9.2) Лопта се после шута БЕЛОГ 5 одбија од стативе гола ЦРНЕ екипе, погађа у ногу ЦРНОГ 3, који стоји пољу за игру и улази у гол ЦРНЕ екипе. Исправна одлука?
- а) Слободно бацање за БЕЛУ екипу
 - б) Гол за БЕЛУ екипу
 - ц) Седмерац за БЕЛУ екипу
 - д) Голманово бацање за ЦРНУ екипу
- 9.3) Голман БЕЛИ 1 је одбранио шут, а лопта се одбија од одбрамбеног играча БЕЛОГ 3, који стоји два метра у голмановом простору, и уђе у гол БЕЛЕ екипе. Исправна одлука?
- а) Слободно бацање за ЦРНУ екипу
 - б) Седмерац за ЦРНУ екипу
 - ц) Прогресивна казна против БЕЛОГ 3
 - д) Гол за ЦРНУ екипу
- 9.4) Голман БЕЛИ 1 држи лопту четири секунде у положају у којем је она са три четвртине свога обима прешла гол линију. Исправна одлука?
- а) Гол за ЦРНУ екипу
 - б) Слободно бацање за ЦРНУ екипу
 - ц) Голманово бацање за БЕЛУ екипу
- 9.5) БЕЛИ 3 уђе у голманов простор своје екипе и покуша да заустави лопту ногом, али се лопта одбија од његове ноге и уђе у гол БЕЛЕ екипе. Исправна одлука?
- а) Слободно бацање за ЦРНУ екипу
 - б) Седмерац за ЦРНУ екипу
 - ц) Гол за ЦРНУ екипу
 - д) Голманово бацање за БЕЛУ екипу
- 9.6) БЕЛИ 11 лобује голмана ЦРНОГ 1 који стоји далеко испред гола. Пре него што лопта пређе гол линију, директор ЦРНЕ екипе, који седи у првом реду гледалишта иза гола и није уписан у записник, избаци лопту. Исправна одлука?
- а) Седмерац за БЕЛУ екипу
 - б) Гол за БЕЛУ екипу
 - ц) Дисвалификација директора ЦРНЕ екипе са писаним извештајем (црвени и плави картон показани од стране судија)
 - д) Писани извештај



- 9.7) При резултату 25:25 и две секунде пре краја утакмице, званичник БЕЛЕ екипе (домаћа екипа), који није уписан у записник утакмица, ухвати лопту која лети директно у празан гол и тиме спречи гол за ЦРНУ екипу. Одмах потом огласи се сигнал за крај утакмице. Исправна одлука?
- а) Коначан резултат 25:25
 - б) Седмерац за ЦРНУ екипу
 - ц) Коначан резултат 25:26
 - д) Дисквалификација званичника са писаним извештајем (црвени и плави картон показани од стране судија)
 - е) Писани извештај
- 9.8) ЦРНИ 9 постиже гол из седмерац. БЕЛА екипа одмах изводи почетно бацање, после судијског звиждука. После два додавања БЕЛИ 4 постиже гол. У том тренутку мерилац времена свира и информиче да је ЦРНОМ 9, који се вратио на клупу, остало још 20 секунди од искључења на 2 минута, у време извођења седмерца. Исправна одлука?
- а) Седмерац за ЦРНУ екипу се мора поновити
 - б) ЦРНИ 9 добија додатну казну
 - ц) Оба гола су исправна
 - д) Оба гола нису исправна
- 9.9) Мало пре краја утакмице при резултату 22:21 за његову екипу, БЕЛИ 5 је исправно извео почетно бацање. Лопта је иде назад у правцу гола БЕЛЕ екипе. Голман БЕЛИ 1 не додирује лопту, мада је се налази у сопственом голмановом простору. Лопта улази у гол. Саиграчи БЕЛОГ 5 су прешли средишњу линију после судијског звиждука, али пре него што је лопта напустила руку извођача, трћечи у правцу гола ЦРНЕ екипе. Исправна одлука?
- а) Гол за ЦРНУ екипу
 - б) Слободно бацање за ЦРНУ екипу
 - ц) Понављање почетног бацања после звучног сигнала
 - д) Прогресивна казна против БЕЛОГ 5
 - е) Тајм - аут
- 9.10) БЕЛИ 9 покуша да заустави низак шут потколеницом, али то чини тако да скреће лопту у властити гол. Ово је други пут да он покушава да заустави шут ногом. Исправна одлука?
- а) Гол за ЦРНУ екипу
 - б) Слободно бацање за ЦРНУ екипу
 - ц) Прогресивна казна против БЕЛОГ 9



ПРАВИЛО 10

- 10.1) БЕЛА екипа добија жреб и одлучује да прва изведе почетно бацање. Представник ЦРНЕ екипе жели да промени стране. Исправна одлука?
- а) Промена страна
 - б) Промена страна ако се БЕЛА екипа сагласи
 - ц) Поновно жребање
 - д) Стране се не мењају
- 10.2) БЕЛА екипа добија жреб и жели да промени стране. ЦРНА екипа жели да БЕЛА екипа изведе почетно бацање. Исправна одлука?
- а) Почетно бацање за БЕЛУ екипу
 - б) Промена страна и почетно бацање за ЦРНУ екипу
 - ц) Поновно жребање
 - д) Представници екипа се морају договорити
- 10.3) Одакле се може извести почетно бацање?
- а) До 3 метра иза средишње линије, на половини екипе која има лопту
 - б) До 3 метра преко средишње линије на половини противника
 - ц) На средини игралишта једном ногом на средишњој линији, са толеранцијом са сваке стране, отприлике 1,5 метар
- 10.4) При резултату 15:15, мало пре завршетка утакмице, ЦРНА екипа постиже гол за 15:16. БЕЛА екипа жели да брзо изведе почетно бацање. Играч са лоптом стоји на средини игралишта, једном ногом испред средишње линије, а другом иза ње. Исправна одлука?
- а) Исправка положаја; звучни сигнал за извођење почетног бацања
 - б) Положај је исправан; звучни сигнал за извођење почетног бацања
 - ц) Тајм-аут; исправка положаја; звучни сигнал за извођење почетног бацања
- 10.5) БЕЛА екипа треба да изведе почетно бацање. Голман ЦРНИ 1 још није свом голмановом простору. Судија у пољу, ипак, свира за почетак утакмице, а БЕЛИ 9 одмах постиже гол. Исправна одлука?
- а) Слободно бацање за БЕЛУ екипу А са средишње линије
 - б) Понављање почетног бацања
 - ц) Гол за БЕЛУ екипу
 - д) Слободно бацање за ЦРНУ екипу



10.6) Које тврдње о поласку са центра су тачне?

- а) Почетно бацање се мора извести у року од 3 секунде после звучног сигнала, са средине игралишта, и то тако да се лопта баци у правцу противничке половине
- б) Гол се противнику може дати директно при поласку са центра
- ц) У поласку са центра, неправилни положаји одбрамбене екипе се морају кориговати
- д) Ако извођач води лопту после звучног сигнала за извођење почетног бацања, слободно бацање мора бити досуђено за противника
- е) Саиграчи извођача бацања могу прећи средишњу линију пре него што је бацање изведено

10.7) ЦРНИ 6 стоји на центру терена, да би извео почетно бацање, једном ногом на средишњој линији, док му је друга на својој половини терена. Судија свира. Пре него што је лопта напустила његову руку, извођач потрчи преко средишње линије. За време звиждука, још је било играча БЕЛЕ екипе на половини терена која припада ЦРНОЈ екипи. Исправна одлука?

- а) Игра се наставља без прекида
- б) Слободно бацање за БЕЛУ екипу
- ц) Исправка позиције БЕЛЕ екипе и понављање почетног бацања после звучног сигнала
- д) Корекција позиције ЦРНОГ 6 и понављање почетног бацања после звучног сигнала



ПРАВИЛО 11

11.1) БЕЛИ 3 изводи аут, са места које је 2 метра удаљено од аут линије. Исправна одлука?

- а) Ништа, јер је то дозвољено
- б) Слободно бацање за ЦРНУ екипу
- ц) Понављање извођења аута без звучног сигнала
- д) Понављање извођења аута после звучног сигнала

11.2) ЦРНИ 4 стоји једном ногом на аут линији, а другом у пољу за игру. Изводећи аут директно постиже гол. Исправна одлука?

- а) Гол за ЦРНУ екипу
- б) Понављање извођења аута за ЦРНУ екипу после звучног сигнала
- ц) Слободно бацање за БЕЛУ екипу
- д) Голманово бацање за БЕЛУ екипу

11.3) БЕЛИ 6 изводи аут стојећи једном ногом унутар поља за игру, а другом ногом метар изван аут линије. Убацује лопту у гол ЦРНЕ екипе. Исправна одлука?

- а) Понављање извођења аута за БЕЛУ екипу А после звучног сигнала
- б) Слободно бацање за ЦРНУ екипу
- ц) Гол за БЕЛУ екипу
- д) Голманово бацање за ЦРНУ екипу

11.4) БЕЛИ 11 шутира на гол екипе. Лопта се одбије од пречке и погоди део опреме која виси са плафона изнад голмановог простора ЦРНЕ екипе. Лопта падне у руке голмана ЦРНОГ 1. Исправна одлука?

- а) Голманово бацање за ЦРНУ екипу
- б) Аут за ЦРНУ екипу
- ц) Слободно бацање за ЦРНУ екипу после звучног сигнала
- д) Аут за ЦРНУ екипу после звучног сигнала
- е) Обавезан тајм-аут

11.5) Када је играчима екипе која се брани дозвољено да приђу ближе од три метра код извођења бацања након прекида игре?

- а) Чим судија да знак за извођење бацања
- б) Када лопта напусти руку играча који изводи бацање
- ц) У случају слободног бацања или аута, кад су играчи распоређени уз линију властитог голмановог простора

11.6) БЕЛИ 5 не успева да ухвати лопту. Он је потрчао за њом и зауставио је пре него што је прешла аут линију, али се сам није могао зауставити и прешао је аут линију. Исправна одлука?

- а) Игра се наставља без прекида
- б) Слободно бацање за ЦРНУ екипу
- ц) Аут за ЦРНУ екипу



ПРАВИЛО 12

- 12.1) Изводећи голманово бацање, голман БЕЛИ 1 додирује линију свог голмановог простора. Исправна одлука?**
- а) Голманово бацање се понавља после звучног сигнала
 - б) Слободно бацање за ЦРНУ екипу
 - ц) Игра се наставља без прекида
- 12.2) После звиждука за извођење седмерца, голман БЕЛИ 12 стане једном ногом на линију четверца (ограничавајућа линија за голмана). Лопта одлази преко пречке. Исправна одлука?**
- а) Седмерац ће бити поновљен после звучног сигнала
 - б) Није гол, игра се наставља голмановим бацањем
 - ц) Позиција голмана је исправна
- 12.3) Голман БЕЛИ 1 зауставља шут и баца се за лоптом која се котрља према пољу за игру. ЦРНИ 7 стоји неометан и спреман да узме лопту. У последњем тренутку БЕЛИ 1 успева руком да избије лопту преко гол-аут линије изван гола. Исправна одлука?**
- а) Слободно бацање за ЦРНУ екипу
 - б) Аут за ЦРНУ екипу
 - ц) Голманово бацање за БЕЛУ екипу
 - д) Слободно бацање за БЕЛУ екипу
- 12.4) Изводећи голманово бацање, голман БЕЛИ 12 испусти лопту и она га погоди у ногу. Лопта пређе преко линије голмановог простора и оде у поље за игру. БЕЛИ 12 трчи за лоптом, ухвати је и врати се у свој голманов простор да понови голманово бацање. Исправна одлука?**
- а) Седмерац за ЦРНУ екипу
 - б) Слободно бацање за ЦРНУ екипу
 - ц) Тајм-аут
 - д) Корекција, голманово бацање после звучног сигнала
- 12.5) Када се сматра да је голманово бацање изведено тако да лоптом може да игра играч у пољу за игру?**
- а) Кад је лопта још у ваздуху изнад голмановог простора
 - б) Кад је лопта напустила руку голмана, прешла линију голмановог простора и налази се изнад поља за игру
 - ц) Кад је лопта напустила руку голмана
 - д) Кад је саиграч голмана додирнуо лопту
- 12.6) Голман БЕЛИ 12 изводи голманово бацање. ЦРНИ 10 стоји уз линију голмановог простора и покушава на исправан начин да освоји лопту. У томе успева и постиже гол. Исправна одлука?**
- а) Слободно бацање за БЕЛУ екипу
 - б) Гол за ЦРНУ екипу
 - ц) Голманово бацање за БЕЛУ екипу
 - д) Прогресивна казна против ЦРНОГ 10



12.7) Голман БЕЛИ 12 одбрани шут, одбије лопту преко гол-аут линије поред гола; Који ручни сигнал/сигнале треба судија код гола да покаже?

- а) Сигнал број 8: голманово бацање
- б) Сигнал број 9: смер слободног бацања
- ц) Прво сигнал број 9: смер слободног бацања, а затим сигнал број 8: голманово бацање
- д) Прво сигнал број 8: голманово бацање, а затим сигнал број 9: смер слободног бацања

12.8) Голману БЕЛОМ 1 испадне лопта док је изводио голманово бацање. Лопта одскаче у правцу поља за игру, где је чека ЦРНИ 6. БЕЛИ 2 се баца преко линије голмановог простора и избацује лопту која је у ваздуху преко аут линије. Исправна одлука?

- а) Голманово бацање за БЕЛУ екипу после звучног сигнала
- б) Аут за ЦРНУ екипу
- ц) Слободно бацање за ЦРНУ екипу
- д) Седмерац за ЦРНУ екипу

12.9) Које су тврдње у вези са голмановим бацањем тачне?

- а) Голманово бацање се сматра изведеним кад лопта напусти голманову руку
- б) Противници морају бити на одстојању од 3 метра
- ц) Голманово бацање се сматра изведеним кад лопта напусти руку голмана и пређе линију голмановог простора
- д) Противницима је дозвољено да стоје непосредно испред линије голмановог простора

12.10) Голманово бацање за ЦРНУ екипу. Голман ЦРНИ 1 жури, зато што његов тим резултатски заостаје. Док извод слободно бацање лопта клизне из његове руке и долази до ЦРНОГ 6, који стоји у голмановом простору. ЦРНИ 6 ногом врати лопту ЦРНОМ 1. Исправна одлука?

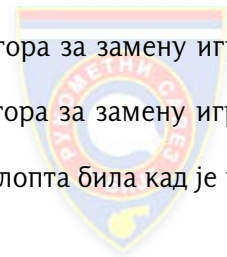
- а) Поновљено голманово бацање после звучног сигнала
- б) Слободно бацање за БЕЛУ екипу
- ц) Седмерац за БЕЛУ екипу

12.11) Која од ових тврдњи у вези са голмановим бацањем је исправна?

- а) Играчи противничке екипе морају остати изван линије слободног бацања, док лопта не буде у игри
- б) Играчи противничке екипе морају бити изван линије голмановог простора, три метра удаљени од места са кога голман изводи голманово бацање
- ц) Играчима противничке екипе је дозвољено да додирну лопту пре него што она пређе линију голмановог простора
- д) Голман не може да постигне у "властити гол", када изводи голманово бацање
- е) Голман не може дати директно гол противнику из голмановог бацања
- ф) Голману није дозвољено да додирује линију голмановог простора за време извођења голмановог бацања

ПРАВИЛО 13

- 13.1) Слободно бацање за БЕЛУ екипу. Пре него што је БЕЛИ 5 могао да узме лопту, узима је ЦРНИ 6 ставља је под руку и трчи у правцу свог гола. После неколико корака, он закотрља лопту према БЕЛОМ 5. Исправна одлука?
- а) 2 минута искључења против ЦРНОГ 6
 - б) Слободно бацање за БЕЛУ екипу после звучног сигнала
 - ц) опомена за ЦРНОГ 6
 - д) Игра се наставља без прекида
 - е) Тајм-аут
- 13.2) ЦРНИ 7 има лопту у поседу и покушава да крене у контранапад, али га држи БЕЛИ 17. Судија, мало пре него што да знак пиштаљком, види добру прилику за постизање гола и пушта предност, ЦРНИ 8 прима лопту и шутира на гол БЕЛЕ екипе. Голман БЕЛИ 12 брани шут и жели да започне контранапад. Обе екипе већ имају по 3 опомене, добијене раније у току игре. Исправна одлука?
- а) Игра се наставља без прекида
 - б) 2 минута искључења против БЕЛОГ 17
 - ц) Голманово бацање за БЕЛУ екипу
 - д) Тајм-аут
 - е) Слободно бацање за ЦРНУ екипу
- 13.3) За БЕЛУ екипу је досуђено слободно бацање. ЦРНИ 6 има лопту у поседу. Он односи лопту 4 метра даље од места на којем треба да се изведе слободно бацање. Исправна одлука?
- а) опомена за ЦРНОГ 6
 - б) 2 минута искључења против ЦРНОГ 6
 - ц) Дисквалификација ЦРНОГ 6 (црвени картон показан од стране судија)
 - д) Слободно бацање за БЕЛУ екипу са места где се догодио прекршај због којег је досуђено слободно бацање
 - е) Слободно бацање за БЕЛУ екипу са места где се лопта налази
- 13.4) Слободно бацање је досуђено против БЕЛОГ 4, који затим узима лопту, улази у голманов простор и спушта лопту на тло. Исправна одлука?
- а) 2 минута искључења против БЕЛОГ 4
 - б) опомена за БЕЛОГ 4
 - ц) Седмерац за ЦРНУ екипу
 - д) Слободно бацање за ЦРНУ екипу
- 13.5) БЕЛИ 5 има лопту у поседу, када званичник Б БЕЛЕ екипе протестује код судија. Судије свирају, дају тајм-аут и опомињу званичника Б БЕЛЕ екипе. Како треба да се настави игра?
- а) Слободно бацање после звучног сигнала за ЦРНУ екипу, код простора за замену играча БЕЛЕ екипе
 - б) Слободно бацање после звучног сигнала за БЕЛУ екипу, код простора за замену играча БЕЛЕ екипе
 - ц) Слободно бацање после звучног сигнала за БЕЛУ екипу, тамо где је лопта била кад је игра прекинута
 - д) Аут за ЦРНУ екипу код простора за замену играча БЕЛЕ екипе



- 13.6) **Судија у пољу је звиждуком прекинуо игру и поред тога што није било прекршаја, а ниједна екипа није тражила тајм-аут. ЦРНИ 7 је упутио шут у правцу гола БЕЛЕ екипе, непосредно пре звиждука судије у пољу. После звиждука, лопта улази у гол, без шансе да је голман БЕЛИ 1 заустави. Како треба наставити игру?**
- а) Слободно бацање за ЦРНУ екипу
 - б) Слободно бацање за БЕЛУ екипу
 - ц) Седмерац за ЦРНУ екипу
 - д) Гол за ЦРНУ екипу
- 13.7) **БЕЛИ 7 је у контранападу. Приликом шута на гол, он погађа голмана ЦРНОГ 12 лоптом у главу, тако да онесвести голмана. Лопта се одбија до БЕЛОГ 9, који сам стоји на линији голмановог простора. БЕЛИ 9 убаца лопту у празан гол. Судија даје знак пиштаљком, док је лопта у ваздуху изнад голмановог простора, а пре него што уђе у гол. Голману ЦРНОМ 12 је потребна медицинска помоћ на терену. Исправна одлука?**
- а) Гол за БЕЛУ екипу
 - б) Седмерац за БЕЛУ екипу
 - ц) Слободно бацање за БЕЛУ екипу, после звучног сигнала
 - д) Тајм-аут
 - е) ЦРНИ 12 мора да напусти терен и може да се врати после 3 напада своје екипе
- 13.8) **За ЦРНОГ 9 је досуђено слободно бацање, али БЕЛИ 5 још увек има лопту у поседу. БЕЛИ 5 иде према судији и љубазно му даје лопту. Исправна одлука?**
- а) 2 минута искључења против БЕЛОГ 5 и слободно бацање за ЦРНУ екипу са места где се лопта налази у том тренутку
 - б) Опомена за БЕЛОГ 5 и слободно бацање за ЦРНУ екипу са места где се лопта налази у том тренутку
 - ц) 2 минута искључења против БЕЛОГ 5 и слободно бацање за ЦРНУ екипу са места где је начињен прекршај
 - д) Опомена за БЕЛОГ 5, слободно бацање за ЦРНУ екипу са места где је начињен прекршај
- 13.9) **Погрешна замена од стране БЕЛОГ 5, након што су судије досудиле седмерац за БЕЛУ екипу. Исправна одлука?**
- а) Слободно бацање за ЦРНУ екипу
 - б) Седмерац за БЕЛУ екипу
 - ц) 2 минута искључења против БЕЛОГ 5
 - д) Опомена за одговорног представника БЕЛЕ екипе
- 13.10) **Које од следећих констатација, које се односе на место извођења слободног бацања, су исправне?**
- а) Ако лопта није спуштена одмах, после одлуке о слободном бацању, противнику је дозвољено да изведе слободно бацање са места где се лопта налази у том тренутку
 - б) После погрешне замене, слободно бацање може бити изведено са места где се лопта налази, уместо из простора за замену играча, ако је то повољније за екипу која изводи бацање
 - ц) После пасивне игре, слободно бацање се увек изводи са места где је лопта била, у тренутку када је слободно бацање досуђено
 - д) За слободно бацање код средишње линије, бочна толеранција је приближно иста као у случају почетног бацања

13.11) ЦРНИ 11 има лопту у нападу и покушава да заобиђе БЕЛОГ 2. Због звиждука из гледалишта, БЕЛИ 2 престаје да игра одбрану. ЦРНИ 11 је потом сам и спреман да шутира на гол. Исправна одлука?

- а) Седмерац за ЦРНУ екипу
- б) Тајм-аут; Консултација са мериоцем времена
- ц) Слободно бацање за БЕЛУ екипу
- д) Слободно бацање за ЦРНУ екипу

13.12) БЕЛА екипа има лопту на линији слободног бацања ЦРНЕ екипе. Званичник А ЦРНЕ екипе жестоко протестује против судијске одлуке, тако да судије прекидају игру. Исправна одлука?

- а) Прогресивна казна против званичника А ЦРНЕ екипе
- б) Слободно бацање за БЕЛУ екипу, код простора за замену ЦРНЕ екипе
- ц) Слободно бацање за БЕЛУ екипу, са линије слободног бацања ЦРНЕ екипе

13.13) Опомена за ЦРНОГ 6. Судија у пољу не види БЕЛОГ 11, који се налази између линије голмановог простора и линије слободног бацања, и даје знак за извођење слободног бацања за БЕЛУ екипу. БЕЛИ 11 добија лопту и долази у јасну ситуацију за постизање гола. Судија код гола уочава грешку. Исправна одлука?

- а) Игра се наставља без прекида
- б) Понављање слободног бацања после корекције и звучног сигнала
- ц) Судија код гола досуђује слободно бацање за ЦРНУ екипу
- д) Судија код гола даје опомену БЕЛОМ 11
- е) Тајм-аут

13.14) БЕЛА екипа има лопту у поседу. ЦРНА екипа је заузела положај у одбрани. БЕЛИ 8 трчи близу аут линије. БЕЛИ 4 додаје лопту у правцу БЕЛОГ 8. БЕЛИ 8 се судара са фотографом који се шета између трибина и простора за игру дотичући аут линију. БЕЛИ 8 не успева да ухвати лопту те губи контролу над телом. Пре него што су судије прекинуле игру, лопта је прешла аут линију. Која је исправна одлука ?

- а) Игра се наставља аутом за ЦРНУ екипу
- б) Игра се наставља слободним бацањем за БЕЛУ екипу
- ц) Тајм аут
- д) Забелешка у записнику

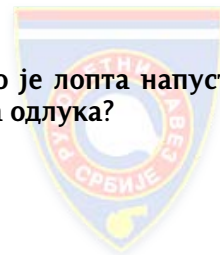
13.15) ЦРНА екипа је у нападу. Судије досуђују слободно бацање за ЦРНОГ 2. Пре него што ЦРНИ 2 изведе слободно бацање, ЦРНИ 11 повлачи доле БЕЛОГ 8. Која је исправна одлука ?

- а) Слободно бацање за ЦРНУ екипу уз звиждук
- б) Слободно бацање за БЕЛУ екипу уз звиждук
- ц) Тајм аут
- д) Прогресивна казна за ЦРНОГ 11
- е) Дисквалификација ЦРНОГ 11 (судије показују црвени картон)



ПРАВИЛО 14

- 14.1) Резултат је 20:20. ЦРНИ 7 пресече додавање БЕЛЕ екипе и започиње контранапад, а ниједан играч БЕЛЕ екипе не покушава да га следи. Утрчава гледалац и обори ЦРНОГ 7, што доводи до бучних сцена са гледаоцима на игралишту. Званичник А ЦРНЕ екипе нокаутира гледаоца који је зауставио ЦРНОГ 7. Исправна одлука?**
- а) Трајни прекид утакмице
 - б) Тајм-аут; седмерац за ЦРНУ екипу; дисквалификација званичника А ЦРНЕ екипе; редукција ЦРНЕ екипе за једног играча у пољу за игру на 2 минута; писани извештај (црвени и плави картон показани од стране судија)
 - ц) Тајм-аут; седмерац за ЦРНУ екипу; дисквалификација званичника А ЦРНЕ екипе; редукција ЦРНЕ екипе за једног играча у пољу за игру на 2 минута (црвени картон показан од стране судија)
 - д) Тајм-аут; седмерац за ЦРНУ екипу; 2 минута искључења за званичника А ЦРНЕ екипе, редукција ЦРНЕ екипе за једног играча у пољу за игру на 2 минута;
- 14.2) Аут за ЦРНУ екипу. ЦРНИ 7 исправно изводи аут и уочи да голман БЕЛИ 12 стоји далеко испред свог гола. ЦРНИ 7 упуту лопту директно у правцу празног гола, а играч у пољу БЕЛИ 3 улази у голманов простор и заустави лопту. Исправна одлука?**
- а) Гол
 - б) Слободно бацање за ЦРНУ екипу
 - ц) Седмерац за ЦРНУ екипу
 - д) Прогресивна казна против БЕЛОГ 3
- 14.3) Изводећи седмерац, БЕЛИ 4 погоди стативу. Лопта се одбије назад до БЕЛОГ 4, а да је није додирнуо ниједан од саиграча или противничких играча. Он убаца лопту у гол. Исправна одлука?**
- а) Слободно бацање за ЦРНУ екипу
 - б) Голманово бацање за ЦРНУ екипу
 - ц) Гол за БЕЛУ екипу
- 14.4) БЕЛИ 3 се креће око ЦРНОГ 4 на линији слободног бацања ЦРНЕ екипе. После трећег корака он жели да упуту лопту ка голу, али га гурне ЦРНИ 4. Одмах после четвртог корака он постиже леп гол. Ниједан од играча ЦРНЕ екипе није у могућности да интервенише. Исправна одлука?**
- а) Предност и према томе и гол
 - б) Прогресивна казна против ЦРНОГ 4
 - ц) Слободно бацање за БЕЛУ екипу
 - д) Седмерац за БЕЛУ екипу
- 14.5) БЕЛИ 9 изводи седмерац и лопта улази у гол, али пре него што је лопта напустила руку извођача БЕЛИ 4 пређе линију слободног бацања. Исправна одлука?**
- а) Гол за БЕЛУ екипу
 - б) Понављање седмерца
 - ц) Слободно бацање за ЦРНУ екипу
 - д) Понављање бацања и опомена за БЕЛОГ 4



14.6) ЦРНИ 2 је спреман да изведе седмерац после судијског звучног сигнала. У том тренутку БЕЛИ 5 пређе линију слободног бацања. Упркос томе, ЦРНИ 2 постиже гол. Исправна одлука?

- а) Гол и дисквалификација БЕЛОГ 5 (црвени картон показан од стране судија)
- б) Гол и 2 минута искључења за БЕЛОГ 5
- ц) Гол за ЦРНУ екипу
- д) Понављање седмерца и дисквалификација БЕЛОГ 5

14.7) БЕЛИ 6 има лопту и спреман је да изведе седмерац, тада званичник А ЦРНЕ екипе позива голмана ЦРНОГ 12 да изађе и буде замењен. ЦРНИ 12 је спреман да га послуша. Исправна одлука?

- а) Ништа
- б) опомена за званичника А ЦРНЕ екипе
- ц) опомена за званичника А ЦРНЕ екипе и ЦРНОГ 12
- д) опомена за ЦРНОГ 12

14.8) БЕЛИ 4 је извео шут на гол ЦРНЕ екипе. Лопта је погодила стативу и враћа се у правцу поља за игру. БЕЛИ 6 стоји сам испред линије голмановог простора спреман да ухвати лопту. ЦРНИ 4 јасно улази у голманов простор и избацује лопту преко гол аут-линије. Исправна одлука?

- а) Седмерац за БЕЛУ екипу
- б) Аут за БЕЛУ екипу
- ц) Слободно бацање за БЕЛУ екипу
- д) Голманово бацање за ЦРНУ екипу

14.9) БЕЛИ 3 изводи седмерац. БЕЛИ 5 пређе линију слободног бацања после судијског звиждука, али пре него што је лопта напустила руку извођача БЕЛОГ 3. Исправна одлука?

- а) Понављање седмерца
- б) Слободно бацање за ЦРНУ екипу
- ц) Голманово бацање за ЦРНУ екипу
- д) Прогресивна казна против БЕЛОГ 5

14.10) БЕЛИ 9 стоји потпуно сам испред линије голмановог простора противника, спреман да прими лопту. То је видео његов саиграч БЕЛИ 10, који му лопту додаје одбијањем кроз голманов простор. То је приметио ЦРНИ 3, који јасно улази у свој голманов простор и зауставља лопту, стојећи са обе ноге унутар голмановог простора. То је други пут у игри да он чини исту ствар. Исправна одлука?

- а) Слободно бацање за БЕЛУ екипу
- б) Седмерац за БЕЛУ екипу
- ц) Прогресивна казна против ЦРНОГ 3



14.11) Пивотмен ЦРНИ 10 правилно блокира БЕЛОГ 2. Када је ЦРНИ 10 спреман да крене, ЦРНИ 4 му баца лопту у празан простор, где би ЦРНИ 10 могао да се пробије. Пре него што ЦРНИ 10 ухвати лопту, БЕЛИ 2 га повлачи за дрес отпозади. Исправна одлука?

- а) Слободно бацање за ЦРНУ екипу
- б) Седмерац за ЦРНУ екипу, без обзира на положај противника
- ц) Седмерац за ЦРНУ екипу, ако ниједан играч БЕЛЕ екипе не може на дозвољен начин да спречи ЦРНОГ 10 да шутира
- д) Прогресивна казна против БЕЛОГ 2
- е) Обавезна дисквалификација БЕЛОГ 2 (црвени картон показан од стране судија)

14.12) БЕЛИ 3 има лопту и трчи у контранапад у правцу гола ЦРНЕ екипе. Када је био у скок шуту, чује се звиждук из публике, БЕЛИ 3 се збуди и не упути шут на гол. Уместо да шутне на гол, он стане са лоптом у голманов простор. Исправна одлука?

- а) Слободно бацање за ЦРНУ екипу, после звучног сигнала
- б) Седмерац за БЕЛУ екипу
- ц) Слободно бацање за БЕЛУ екипу
- д) Голманово бацање за ЦРНУ екипу, после звучног сигнала
- е) Изјава у записник утакмице

14.13) БЕЛА екипа је у контранападу при резултату 26:26. БЕЛИ 5 је спреман да упути шут на гол и налази се сам на линији голмановог простора ЦРНЕ екипе. У исто време чује се сигнал мериоца времена, који показује да је утакмица завршена. Судије утврђују да је преостало још 20 секунди за игру. Исправна одлука?

- а) Слободно бацање за БЕЛУ екипу код записничког стола
- б) Седмерац за БЕЛУ екипу
- ц) Писани извештај
- д) Слободно бацање за БЕЛУ екипу са места где се лопта налазила у тренутку звучног сигнала

14.14) Које су од наведених константација, везаних за извођење седмерца, исправне?

- а) Играчу који изводи бацање дозвољено је да се одмакне до 1 метар иза линије седмерца
- б) Судије морају да дају тајм-аут ако одбрамбена екипа мења голмана
- ц) Голману треба изрећи прогресивну казну ако више пута прелази линију 4 метра (ограничавајућу линију за голмана)
- д) Играчи одбрамбене екипе морају увек бити 3 метра од извођача

14.15) БЕЛИ 5 ускаче са десног крила, са лоптом у руци, у голманов простор ЦРНЕ екипе и судара се са ЦРНИМ 11 који стоји подигнутих руку, око 50 центиметара унутар голмановог простора. Ово је трећи пут у току утакмице да ЦРНИ 11 чини исту ствар. Исправна одлука?

- а) Седмерац за БЕЛУ екипу
- б) Прекршај БЕЛОГ 5 у нападу
- ц) 2 минута искључења против ЦРНОГ 11
- д) Опомена за ЦРНОГ 11

14.16) БЕЛИ 6 трчи у контранапад и има јасну ситуацију за постизање гола, када се светла у хали угасе. Која је од следећих тврдњи тачна?

- а) Судије ће чекати на крајњи исход јасне ситуације за постизање гола
- б) Судије ће прекинуту утакмицу моментално и дати тајм-аут
- ц) Након што је светло опет у функцији, утакмица се наставља слободним бацањем за БЕЛУ екипу
- д) Чим је светло поново у функцији утакмица се наставља седмерцем за БЕЛУ екипу
- е) Изјава у записник утакмице

14.17) Док БЕЛИ 3 изводи седмерац, БЕЛИ 5 пређе линију слободног бацања, после судијског звучног сигнала, али пре него што је лопта напустила руку извођача. Голман ЦРНИ 1 одбрани шут. Исправна одлука?

- а) Понављање седмерца за БЕЛУ екипу
- б) Слободно бацање за ЦРНУ екипу
- ц) Голманово бацање за ЦРНУ екипу

14.18) БЕЛИ 2 стоји спреман да изведе седмерац. Судија у пољу даје знак, али БЕЛИ 2 испусти лопту на под. ЦРНИ 3 одмах ухвати лопту и дода је ЦРНОМ 2, који постиже гол у контранападу. Исправна одлука?

- а) Гол за ЦРНУ екипу
- б) Понављање седмерца
- ц) Слободно бацање за ЦРНУ екипу
- д) Тајм-аут

14.19) БЕЛИ 6 има лопту на линији слободног бацања ЦРНЕ екипе и бива оборен након несмотреног прекршаја ЦРНОГ 5. У исто време ЦРНИ 8 стоји на линији голмановог простора између свог гола и БЕЛОГ 6. Коректна одлука?

- а) Слободно бацање за БЕЛУ екипу
- б) Дисциплинација ЦРНОГ 5 без писаног извештаја (црвени картон показан од стране судија)
- ц) 2 минута искључења против ЦРНОГ 5
- д) Седмерац за БЕЛУ екипу

14.20) БЕЛА екипа је у нападу и игра са 7 играча и празним голом против 6. ЦРНИ 8 пресече додавање. ЦРНИ 8 води лопту и пре него што дође у могућност да шутира на гол, буде нападнут од БЕЛОГ 3, који га успева мало задржати. У међувремену, голман БЕЛИ 12 улази у голманов простор, пошто је извршио правилну замену са БЕЛИМ 7. Која је исправна одлука ?

- а) Слободно бацање за ЦРНУ екипу
- б) Седмерац за ЦРНУ екипу
- ц) Тајм аут
- д) Искључење на 2 минута за БЕЛОГ 3



14.21) БЕЛА екипа је у нападу и игра са 7 играча и празним голом против 6. ЦРНИ 5 пресече додавање. ЦРНИ 5 одмах покуша да упуту ударац на празан гл. У том тренутку гурнут је с леђа од стране БЕЛОГ 6 тако да делимично изгуби контролу над телом, те промаши гол. Која је исправна одлука ?

- а) Слободно бацање за ЦРНУ екипу
- б) Седмерац за ЦРНУ екипу
- ц) Тајм аут
- д) Искључење на 2 минута за БЕЛОГ 6
- е) Дисквалификација БЕЛОГ 6 (судије показују црвени картон)

14.22) БЕЛА екипа је у нападу и игра са 7 играча и празним голом против 6. БЕЛИ 11 погрешно додаје и лопта прелази аут линију. ЦРНИ 9 узима лопту и изводи аут директним ударцем на празан гол. Ударац је блокиран од стране БЕЛОГ 4, који стоји преблизу извођача за време извођења аута. Која је исправна одлука ?

- а) Корекција положаја БЕЛОГ 4
- б) Прогресивна казна за БЕЛОГ 4
- ц) Понављање аута за ЦРНУ екипу уз звиждук
- д) Слободно бацање за ЦРНУ екипу
- е) Седмерац за ЦРНУ екипу

14.23) БЕЛА екипа је у нападу и игра са 7 играча и празним голом против 6. Судије досуђују прекршај у нападу против БЕЛОГ 7. ЦРНИ 8 долази до лопте и спреман је да изведе слободно бацање као покушај директног ударца на празан гол. Док се припремао, а пре него што му је лопта напустила руку, повучен је с леђа од БЕЛОГ 7. Одмах после тога голман БЕЛИ 16 улази у свој голманов простор после исправно направљене замене са БЕЛИМ 2. Која је исправна одлука ?

- а) Прогресивна казна за БЕЛОГ 7
- б) Искључење на 2 минута за БЕЛОГ 7
- ц) Дисквалификација БЕЛОГ 7 (судије показују црвени картон)
- д) Тајм аут
- е) Понављање слободног бацања за ЦРНУ екипу уз звиждук
- ф) Седмерац за ЦРНУ екипу

ПРАВИЛО 15

- 15.1) **Изводећи голманово бацање, голман БЕЛИ 13 замахне, држећи лопту, тако да она пређе иза гол линије, између статива. Исправна одлука?**
- а) Игра се наставља без прекида
 - б) Голманово бацање за БЕЛУ екипу после звучног сигнала
 - ц) Гол за ЦРНУ екипу
 - д) Слободно бацање за ЦРНУ екипу
- 15.2) **20 секунди пре краја утакмице резултат је 20:19 за БЕЛУ екипу. Голман БЕЛИ 12 одуговлачи са извођењем голмановог бацања, водећи лопту по голмановом простору. Исправна одлука?**
- а) Тајм-аут
 - б) Слободно бацање против БЕЛЕ екипе
 - ц) Звучни сигнал за голманово бацање
 - д) 2 минута искључења против БЕЛОГ 12
 - е) Показивање упозоравајућег сигнала за пасивну игру
- 15.3) **Судије су досудиле слободно бацање за ЦРНУ екипу на линији слободног бацања БЕЛЕ екипе. Када су сви играчи заузели исправну (дозвољену) позицију, судија је свирао. Пре него што је лопта напустила руку извођача, двојица његових саиграча су прешла линију слободног бацања БЕЛЕ екипе. Исправна одлука?**
- а) Понављање слободног бацања за ЦРНУ екипу
 - б) Слободно бацање за БЕЛУ екипу
 - ц) Са звучним сигналом
 - д) Без звучног сигнала
- 15.4) **Голман БЕЛИ 12 стоји у голмановом простору са лоптом у руци, спреман да изведе голманово бацање. ЦРНИ 6 му избија лопту отвореним дланом. Исправна одлука?**
- а) Голманово бацање за БЕЛУ екипу
 - б) Слободно бацање за БЕЛУ екипу
 - ц) Голманово бацање после звучног сигнала
 - д) Прогресивна казна против ЦРНОГ 6
- 15.5) **Аут је досуђен за БЕЛУ екипу. БЕЛИ 8 изводи аут као директан шут на гол. Лопта погађа стативу и враћа се до БЕЛОГ 8 који хвата лопту и постиже гол. Исправна одлука?**
- а) Голманово бацање за ЦРНУ екипу
 - б) Гол за БЕЛУ екипу
 - ц) Понављање аута након звучног сигнала
 - д) Слободно бацање за ЦРНУ екипу



15.6) Голман ЦРНИ 12 је одбранио шут на гол и жели брзо да започне контранапад. При томе испушта лопту и она прелази гол линију и улази у гол ЦРНЕ екипе. Исправна одлука?

- а) Гол за БЕЛУ екипу
- б) Понављање голмановог бацања просле звучног сигнала
- ц) Аут за БЕЛУ екипу
- д) Слободно бацање за БЕЛУ екипу

15.7) БЕЛИ 6 изводи аут у правцу свог голмана. Голман БЕЛИ 1 прекасно уочава лопту и она улази у гол. Исправна одлука?

- а) Слободно бацање за ЦРНУ екипу
- б) Гол за ЦРНУ екипу
- ц) Голманово бацање за БЕЛУ екипу
- д) Понављање аута за БЕЛУ екипу, после звучног сигнала

15.8) Аут за БЕЛУ екипу. БЕЛИ 7 изводи аут и погоди судију. БЕЛИ 7 поново ухвати лопту и убаци је у гол ЦРНЕ екипе. Исправна одлука?

- а) Голманово бацање за ЦРНУ екипу
- б) Гол за БЕЛУ екипу
- ц) Слободно бацање за ЦРНУ екипу
- д) Понављање извођења аута после звучног сигнала
- е) Слободно бацање за БЕЛУ екипу

15.9) Слободно бацање за БЕЛУ екипу. Кад сви играчи исправно стоје, БЕЛИ 10 спусти лопту ради давања упутства. ЦРНИ 7 одмах уочава ситуацију, узима лопту и започиње контранапад. Исправна одлука?

- а) Игра се наставља без прекида
- б) Понављање слободног бацања после звучног сигнала
- ц) Слободно бацање за БЕЛУ екипу и опомена за ЦРНОГ 7
- д) Слободно бацање за БЕЛУ екипу и 2 минута искључења против ЦРНОГ 7

15.10) ЦРНИ 9 жели да изведе слободно бацање, али БЕЛИ 11 стоји само 2 метра даље од лопте и покушава да омете извођење бацања. Исправна одлука?

- а) Лична казна против БЕЛОГ 11, слободно бацање за ЦРНУ екипу после звучног сигнала
- б) Слободно бацање за БЕЛУ екипу после звучног сигнала
- ц) 2 минута искључења против БЕЛОГ 11
- д) Корекција положаја БЕЛОГ 11 и слободно бацање после звучног сигнала

15.11) Слободно бацање за ЦРНУ екипу са линије слободног бацања БЕЛЕ екипе. Судије превиде да се ЦРНИ 8 налази између линије слободног бацања и линије голмановог простора. ЦРНИ 8 добије лопту и постигне гол. Исправна одлука?

- а) Понављање слободног бацања за ЦРНУ екипу после звучног сигнала
- б) Слободно бацање за БЕЛУ екипу
- ц) Гол за ЦРНУ екипу
- д) опомена за ЦРНОГ 8



15.12) Голман ЦРНИ 12 изводи голманово бацање у правцу гола БЕЛЕ екипе. Ниједан играч обе екипе не додирне лопту и она уђе у гол БЕЛЕ екипе. Исправна одлука?

- а) Голманово бацање за БЕЛУ екипу
- б) Аут за БЕЛУ екипу
- ц) Гол за ЦРНУ екипу
- д) Опомена за ЦРНОГ 12 због неспортског понашања

15.13) БЕЛИ 5 је већ добио опомену и два искључења на 2 минута. Када ЦРНА екипа изводи слободно бацање, БЕЛИ 5 се први пут не придржава прописане удаљености. Исправна одлука?

- а) Опомена за БЕЛОГ 5
- б) Нема казне
- ц) Треће искључење на 2 минута против БЕЛОГ 5 и дисквалификација (црвени картон показан од стране судија)

15.14) Мало пре краја утакмице резултат је 24:23 у корист БЕЛЕ екипе. Слободно бацање за БЕЛУ екипу око једног метра изван линије слободног бацања ЦРНЕ екипе. Сви играчи одмах заузимају исправан положај и судија даје знак за извођење слободног бацања. БЕЛИ 10 који изводи слободно бацање направи један корак пре него што лопта напусти његову руку. Исправна одлука?

- а) Слободно бацање за БЕЛУ екипу
- б) Тајм-аут
- ц) 2 минута искључења против БЕЛОГ 10
- д) Слободно бацање за ЦРНУ екипу

15.15) БЕЛИ 14 жели да изведе слободно бацање без знака пиштаљком, са линије слободног бацања ЦРНЕ екипе. Он и његови саиграчи стоје у исправним положајима. Пре него што је лопта напустила руку БЕЛОГ 14, БЕЛИ 13 и БЕЛИ 15 пређу преко линије слободног бацања према линији голмановог простора. Исправна одлука?

- а) Корекција
- б) Слободно бацање за БЕЛУ екипу А, после звучног сигнала
- ц) Игра се наставља без прекида
- д) Слободно бацање за ЦРНУ екипу

15.16) Голман ЦРНИ 1 изводи голманово бацање. Лопта погоди судију и врати се ЦРНОМ 1, који је у међувремену изашао из голмановог простора. Исправна одлука?

- а) Игра се наставља без прекида
- б) Понављање голмановог бацања после звучног сигнала
- ц) Слободно бацање за БЕЛУ екипу
- д) Слободно бацање за ЦРНУ екипу, после звучног сигнала



- 15.17) За време извођења слободног бацања, ЦРНИ 11 замахује руком уназад док се лопта налази комплетно изван аут линије. Исправна одлука?**
- а) Игра се наставља без прекида
 - б) Слободно бацање за БЕЛУ екипу
 - ц) Аут за БЕЛУ екипу
 - д) Слободно бацање за БЕЛУ екипу и упозорење ЦРНОМ 11
- 15.18) Голман БЕЛИ 1 зауставља лопту баш испред гол линије. Када покуша да дода лопту БЕЛОМ 4, лопта испадне из његове руке и уђе у гол. Исправна одлука?**
- а) Гол за ЦРНУ екипу
 - б) Слободно бацање за ЦРНУ екипу
 - ц) Седмерац за ЦРНУ екипу
 - д) Поновљено голманово бацање за БЕЛУ екипу после звучног сигнала
- 15.19) БЕЛА екипа треба да изведе почетно бацање. Судија у пољу даје знак пиштаљком. БЕЛИ 13 узима лопту из руке БЕЛОГ 9, који стоји спреман да изведе бацање, зато што БЕЛИ 13 види да БЕЛИ 7 и БЕЛИ 3 трче на противничку половину и имају повољну позицију. БЕЛИ 13 баца лопту БЕЛОМ 7, који постиже гол. Исправна одлука?**
- а) Гол за БЕЛУ екипу
 - б) Корекција, понављање почетног бацања за БЕЛУ екипу
 - ц) Слободно бацање за ЦРНУ екипу
 - д) Усмена опомена за БЕЛОГ 13
 - е) Усмена опомена за БЕЛОГ 7 и БЕЛОГ 13
- 15.20) Резултат је 30:30, четири секунде пре краја утакмице. БЕЛА екипа постиже гол за вођство 31:30. ЦРНА екипа жели брзо да изведе почетно бацање. ЦРНИ 10 стоји једном ногом иза средишње линије, а другом испред ње. Без звучног сигнала, он баца лопту, која иде у гол БЕЛЕ екипе. Аутоматски сигнал за крај утакмице се оглашава. Исправна одлука?**
- а) Гол за ЦРНУ екипу
 - б) Понављање почетног бацања за ЦРНУ екипу
 - ц) Сачекати резултат бацања
 - д) Тајм-аут
 - е) Утакмица је завршена; гол се не признаје
- 15.21) Слободно бацање за БЕЛУ екипу са линије слободног бацања ЦРНЕ екипе. БЕЛИ 7 изводи слободно бацање и жели да дода лопту саиграчу, који стоји исправно, изван линије слободног бацања. Слободно бацање је изведено брзо, без знака пиштаљком, али пре него што је лопта напустила руку БЕЛОГ 7, два играча, БЕЛИ 9 и БЕЛИ 18, пређу преко линије слободног бацања. Исправна одлука?**
- а) Слободно бацање за ЦРНУ екипу
 - б) Корекција
 - ц) Слободно бацање за БЕЛУ екипу после звучног сигнала
 - д) Опомена за ЦРНУ екипу; Опомене за БЕЛОГ 9 и БЕЛОГ 18



15.22) Из којег од наведених бацања није могуће постићи ауто-гол?

- а) Голманово бацање
- б) Слободно бацање
- ц) Аут
- д) Почетно бацање

15.23) ЦРНИ 4 има исправну позицију за извођење аута, који је досуђен за његову екипу. Пошто није видео слободног саиграча коме би додао лопту, он удари лоптом о под унутар терена и поново је ухвати. Исправна одлука?

- а) Слободно бацање за БЕЛУ екипу, без звучног сигнала
- б) Аут за БЕЛУ екипу, после звучног сигнала
- ц) Понављање аута за ЦРНУ екипу, после звучног сигнала
- д) Слободно бацање за ЦРНУ екипу, после звучног сигнала

15.24) За БЕЛУ екипу је досуђено слободно бацање које изводи БЕЛИ 9, веома брзо из скока и без звучног сигнала. Лопта долази до БЕЛОГ 4, који је потпуно сам испред гола ЦРНЕ екипе. Исправна одлука?

- а) Игра се наставља без прекида
- б) Слободно бацање за ЦРНУ екипу
- ц) Понављање слободног бацања за БЕЛУ екипу после звучног сигнала

15.25) За БЕЛУ екипу је досуђено слободно бацање које БЕЛИ 5 изводи врло брзо, у трку и без звучног сигнала. БЕЛИ 5 жели да дода лопту БЕЛОМ 4, али ЦРНИ 3 пресеца додавање и налази се сам испред гола БЕЛЕ екипе. Исправна одлука?

- а) Игра се наставља без прекида
- б) Понављање слободног бацања после звучног сигнала
- ц) Понављање слободног бацања и прогресивна казна против ЦРНОГ 3

ПРАВИЛО 16

- 16.1) Званичник Б БЕЛЕ екипе протестује и добија 2 минута искључења. Пре него што је утакмица настављена он поново протестује и бива дисквалификован. Исправна одлука?**
- а) БЕЛА екипа се редукује за два играча на терену на 2 минута
 - б) БЕЛА екипа се редукује за једног играча на терену на 4 минута
 - ц) БЕЛА екипа се редукује за једног играча на терену на 2 минута
- 16.2) БЕЛИ 8 је искључен на 2 минута због гурања противника. Он одлази до судије и обраћа му се следећим речима: "Ти си глуп, ти си идиот, никад ти нећеш научити". Пре него што напусти поље за игру пљуне судију у лице. Исправна одлука?**
- а) Дисквалификација БЕЛОГ 8, БЕЛА екипа се редукује за једног играча на терену на 2 минута (црвени картон показан од стране судија)
 - б) Дисквалификација БЕЛОГ 8, БЕЛА екипа се редукује за два играча на терену на 2 минута (црвени картон показан од стране судија)
 - ц) Дисквалификација БЕЛОГ 8, БЕЛА екипа се редукује за једног играча на терену на 4 минута, писани извештај (црвени и плави картон показани од стране судија)
 - д) Дисквалификација БЕЛОГ 8, БЕЛА екипа се редукује за два играча на терену на 2 минута, писани извештај (црвени и плави картон показани од стране судија)
- 16.3) Колико се највише опомена може дати званичницима једне екипе за време утакмице?**
- а) Ниједна
 - б) 1
 - ц) 2
 - д) 3
- 16.4) Када почиње да се мери временска казна играчима?**
- а) Кад судија руком покаже знак за временску казну
 - б) Кад кажњени играч пређе аут линију
 - ц) Кад судија да знак за наставак игре
 - д) Кад мерилац времена покрене штоперицу
- 16.5) Коме се показује временска казна?**
- а) Кажњеном играчу, записничару/мериоцу времена
 - б) Одговорном представнику екипе и мериоцу времена
 - ц) Мериоцу времена/записничару
 - д) Кажњеном играчу, одговорном представнику екипе и записничару
- 16.6) ЦРНИ 5 је већ два пута био кажњен искључењем на 2 минута, једном за прекршај који се прогресивно кажњава и једном за бацање лопте када је судија досудио слободно бацање за противника. Сада је направио другу неправилну замену за своју екипу и пре него што је утакмица настављена он се екстремно неспортски понаша. Исправна одлука?**
- а) 2 минута искључења против ЦРНОГ 5
 - б) Дисквалификација ЦРНОГ 5, писани извештај (црвени и плави картон показани од стране судија); ЦРНА екипа се редукује за једног играча на терену на 4 минута
 - ц) Дисквалификација ЦРНОГ 5, писани извештај (црвени и плави картон показани од стране судија); ЦРНА екипа се редукује за два играча на терену на 2 минута

16.7) БЕЛИ 5 је искључен на 2 минута због прекршаја. Напуштајући терен врећа судије и бива дисквалификован. БЕЛИ 5 се толико потресао да је ударио једног од судија. Исправна одлука?

- а) Писани извештај (плави картон показан од стране судија)
- б) БЕЛА екипа се редукује за једног играча на терену на 2 минута
- ц) БЕЛА екипа се редукује за два играча на терену на 2 минута
- д) БЕЛА екипа се редукује за једног играча на терену на 4 минута

16.8) БЕЛИ 7 је искључен на 2 минута због неспортске игре. Пре него што је игра настављена, он је судији рекао: "Ти мора да си слеп, идиоте!". Исправна одлука?

- а) Друго искључење на 2 минута против БЕЛОГ 7
- б) Дисквалификација без писаног извештаја за БЕЛОГ 7 (црвени картон показан од стране судија)
- ц) БЕЛА екипа се редукује за два играча на терену на 2 минута
- д) БЕЛА екипа се редукује за једног играча на терену на 4 минута
- е) Дисквалификација БЕЛОГ 7, писани извештај (црвени и плави картон показани од стране судија)

16.9) БЕЛИ 3 је искључен на 2 минута. Након што је напустио поље за игру, а пре наставка утакмице, БЕЛИ 3 се грубо неспортски понаша према званичнику Б ЦРНЕ екипе у простору за замену играча. Званичник Б ЦРНЕ екипе је непосредно пре тога утрчао у поље за игру, без дозволе, али до тада није изречена ниједна казна званичницима ЦРНЕ екипе. Исправна одлука?


- а) Дисквалификација БЕЛОГ 3 без писаног извештаја (црвени картон показан од стране судија)
- б) опомена за званичника Б ЦРНЕ екипе
- ц) БЕЛА екипа се редукује за два играча на терену на 2 минута
- д) БЕЛА екипа се редукује за једног играча на терену на 4 минута

16.10) Када је играч дисквалификован, број играча једне екипе у пољу за игру смањује се за један, осим ако је дисквалификација изречена:

- а) За грубо неспортско понашање у паузи између два полувремена
- б) Због грубог прекршаја изван терена
- ц) Пре почетка утакмице
- д) Због врећања судија

16.11) За време паузе између два полувремена БЕЛИ 7 физички нападне голмана ЦРНОГ 10 док су још на терену. Исправна одлука?

- а) Дисквалификација БЕЛОГ 7, писани извештај (црвени и плави картон показани од стране судија)
БЕЛА екипа се редукује за једног играча на терену на 2 минута, на почетку другог полувремена
- б) опомена за БЕЛОГ 7
- ц) Упозорење БЕЛОМ 7, зато што је утакмица била у прекиду



16.12) У паузи између два полувремена, на путу у свлачионицу, ЦРНИ 7 вређа судију. Исправна одлука?

- а) Дисквалификација ЦРНОГ 7 без писаног извештаја (црвени картон показан од стране судија)
- б) 2 минута искључења против ЦРНОГ 7
- ц) ЦРНА екипа се редукује за једног играча на терену на 2 минута на почетку другог полувремена
- д) Дисквалификација ЦРНОГ 7, писани извештај (црвени и плави картон показани од стране судија)

16.13) Након звиждука за крај првог полувремена, ЦРНИ 5 и БЕЛИ 9 сукобе се на терену и вичу један на другога. БЕЛИ 9 затим обема рукама одгурне ЦРНОГ 5, тако да ЦРНИ 5 скоро изгуби контролу над телом. Исправна одлука?

- а) 2 минута искључења против БЕЛОГ 9 на почетку другог полувремена
- б) Дисквалификација БЕЛОГ 9, без писаног извештаја (црвени картон показан од стране судија), БЕЛА екипа ће бити редукована за једног играча на терену на 2 минута на почетку другог полувремена
- ц) Дисквалификација БЕЛОГ 9, БЕЛА екипа почиње друго полувреме без редукције
- д) Дисквалификација БЕЛОГ 9, писани извештај (црвени и плави картон показани од стране судија), БЕЛА екипа ће бити редукована за једног играча на терену на 2 минута на почетку другог полувремена

16.14) После утакмице БЕЛИ 10 виче на судије: "Украли сте нам победу, идиоти!". Исправна одлука?

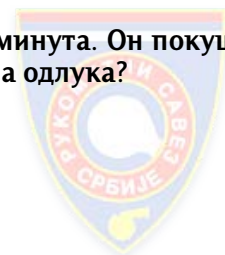
- а) Опомена за БЕЛОГ 10
- б) Дисквалификација БЕЛОГ 10, писани извештај (црвени и плави картон показани од стране судија)
- ц) Писани извештај
- д) Опомена за БЕЛОГ 10 и писани извештај

16.15) У паузи између два полувремену, док су још на игралишту, БЕЛИ 9 физички нападне званичника Б ЦРНЕ екипе, који потом извређа БЕЛОГ 9. Исправна одлука?

- а) Дисквалификација БЕЛОГ 9, писани извештај (црвени и плави картон показани од стране судија), БЕЛА екипа ће бити редукована за једног играча на терену на 2 минута, на почетку другог полувремена
- б) Дисквалификација званичника Б ЦРНЕ екипе, писани извештај (црвени и плави картон показани од стране судија), ЦРНА екипа ће бити редукована за једног играча на терену на 2 минута, на почетку другог полувремена
- ц) Дисквалификација БЕЛОГ 9 (црвени картон показан од стране судија), БЕЛА екипа неће бити редукована на почетку другог полувремена
- д) Дисквалификација званичника Б ЦРНЕ екипе (црвени картон показан од стране судија), ЦРНА екипа неће бити редукована на почетку другог полувремена

16.16) БЕЛИ 7 је дисквалификован, јер је добио треће искључење на 2 минута. Он покушава да се расправља са судијама и не напушта поље за игру. Исправна одлука?

- а) Нема даљих поступака
- б) БЕЛА екипа се редукује за једног играча на терену на 4 минута
- ц) БЕЛА екипа се редукује за два играча на терену на 2 минута



16.17) БЕЛИ 11 је добио опомену за време трајања игре, уз то, он се неспортски понаша за време паузе између два полувремена. БЕЛА екипа је била комплетна на терену када је прво полувреме завршено. Исправна одлука?

- а) Опомена за БЕЛОГ 11
- б) 2 минута искључења против БЕЛОГ 11
- ц) Дисквалификација за БЕЛОГ 11
- д) БЕЛА екипа ће бити редукована за једног играча на терену на 2 минута, на почетку другог полувремена
- е) БЕЛА екипа неће бити редукована на почетку другог полувремена

16.18) БЕЛИ 4 је повређен. Судије дају тајм-аут и сигнал којим дозвољавају двома особама БЕЛЕ екипе да уђу на терен и укажу помоћ играчу. Званичници А и Б БЕЛЕ екипе, али и званичник А ЦРНЕ екипе улазе на терен. Званичник А ЦРНЕ екипе већ има опомену. Исправна одлука?

- а) Нема интервенције
- б) ЦРНА екипа наставља утакмицу без редукације на терену, када игра буде била настављена
- ц) 2 минута искључења против званичника А ЦРНЕ екипе
- д) Дисквалификација званичника А ЦРНЕ екипе (црвени картон показан од стране судија)
- е) ЦРНА екипа ће бити редукована за једног играча на терену на 2 минута, када игра буде била настављена
- ф) После указане медицинске помоћи на терену БЕЛИ 4 мора напустити терен и може се вратити после трећег напада своје екипе

16.19) ЦРНИ 9 је дисквалификован због грубог прекршаја над БЕЛИМ 9. Пре него што је игра настављена, ЦРНИ 9 удари званичника А БЕЛЕ екипе у лице. Исправна одлука?

- а) Дисквалификација за ЦРНОГ 9, без писаног извештаја (црвени картон показан од стране судија), ЦРНА екипа ће бити редукована за два играча на терену на 2 минута
- б) Дисквалификација за ЦРНОГ 9, без писаног извештаја (црвени картон показан од стране судија), ЦРНА екипа ће бити редукована за једног играча на терену на 4 минута
- ц) Додатна казна није могућа
- д) Дисквалификација ЦРНОГ 9, писани извештај (црвени и плави картон показани од стране судија), ЦРНА екипа ће бити редукована за два играча на терену на 2 минута
- е) Дисквалификација ЦРНОГ 9, писани извештај (црвени и плави картон показани од стране судија), ЦРНА екипа ће бити редукована за једног играча на терену на 4 минута

16.20) ЦРНИ 8 је добио 2 минута искључења након сигнала за тајм-аут. Док напушта терен, а пре него што је игра настављена, он приговара судијама на неспортски начин. Исправна одлука?

- а) Додатна 2 минута искључења против ЦРНОГ 8, ЦРНА екипа ће бити редукована за два играча на терену на 2 минута
- б) Додатна 2 минута искључења против ЦРНОГ 8, ЦРНА екипа ће бити редукована за једног играча на терену на 4 минута
- ц) Дисквалификација за ЦРНОГ 8 (црвени картон показан од стране судија), ЦРНА екипа ће бити редукована за два играча на терену на 2 минута
- д) Дисквалификација за ЦРНОГ 8 (црвени картон показан од стране судија), ЦРНА екипа ће бити редукована за једног играча на терену на 4 минута

16.21) У којим од следећих ситуација екипа мора бити редукована за једног играча у пољу за игру на 4 минута?


- а) Играч је дисквалификован; Када напушта поље за игру, он протестује и досуђује му се још 2 минута искључења
- б) Играч је искључен на 2 минута; Када напушта поље за игру он вређа судије и бива дисквалификован
- ц) Играч је искључен на 2 минута због неспортског понашања према противнику; Када напушта поље за игру, он удари противника у лице и бива дисквалификован
- д) Играч је искључен на 2 минута због неспортског понашања; Након што је прешао аут линију, он се враћа у поље за игру и протестује, те добија додатна 2 минута искључења
- е) Играч је дисквалификован због пљувања противника; Приликом напуштања терена он гурне судију
- ф) Играч је дисквалификован због грубог прекршаја; После напуштања терена и након што је игра настављена, он вређа судије док седи у гледалишту

16.22) БЕЛА 5 је добио искључење на 2 минута у 07:00. Пре него што је игра настављена, он протестује и добија додатна 2 минута искључења. Тачно један минут касније, он утрчи у поље за игру и мерилац времена свира. Пошто је ово додатно искључење, због уласка у поље за игру, он је дисквалификован. Због тога сада вређа судије. Исправна одлука?

- а) БЕЛА екипа ће бити редукована за једног играча у пољу 07:00 до 08:00; за два играча од 8:00 до 10:00; и за једног играча од 10:00 до 11:00
- б) БЕЛА екипа ће бити редукована за једног играча у пољу од 07:00 до 08:00; за два играча од 08:00 до 11:00; и за једног играча од 11:00 до 12:00
- ц) БЕЛА екипа ће бити редукована за два играча у пољу од 07:00 до 08:00; за три играча од 08:00 до 10:00; и за два играча од 10:00 до 11:00
- д) БЕЛА екипа ће бити редукована за два играча у пољу од 07:00 до 08:00; за четири играча од 08:00 до 10:00; и за два играча од 10:00 до 11:00
- е) Дисквалификација БЕЛОГ 5, писани извештај (црвени и плави картон показани од стране судија)

16.23) Званичник Ц БЕЛЕ екипе добио је опомену због неспортског понашања у првом полувремену утакмице. Време игре је 35:50, званичник Б БЕЛЕ екипе јаким гестикулацијама показује да се не слаже са одлуком судија. Због таквог понашања добија искључење на 2 минута. Три минута пре краја утакмице, званичник А БЕЛЕ екипе улази у поље за игру без одобрења судија. Која је исправна одлука ?

- а) Опомена за званичника А БЕЛЕ екипе
- б) Искључење на 2 минута званичника А БЕЛЕ екипе; БЕЛА екипа се редукује за једног играча у пољу на 2 минута; Званичник А БЕЛЕ екипе може остати у простору за замену играча
- ц) Искључење на 2 минута званичника А БЕЛЕ екипе; БЕЛА екипа се редукује за једног играча у пољу на 2 минута; Званичник А БЕЛЕ екипе мора напустити простор за замену играча
- д) Дисквалификација званичника А БЕЛЕ екипе (судије показују црвени картон); БЕЛА екипа се редукује за једног играча у пољу на 2 минута
- е) Дисквалификација са пријавом са званичника А БЕЛЕ екипе (судије показују црвени и плави картон); БЕЛА екипа се редукује за једног играча у пољу на 2 минута



ПРАВИЛО 17

17.1) Судије нису сагласне око тога која екипа треба да изведе аут. Исправна одлука?

- а) Судија у пољу одлучује
- б) Судија код гола одлучује
- ц) Двојица судија доносе заједничку одлуку после консултације
- д) Тајм-аут
- е) Нема тајм-аута, аут се изводи после звиждука

17.2) Аутоматски сигнал за крај утакмице на семафору не ради. Мерилац времена није видео проблем и не реагује, иако је време већ истекло. Ко у том случају треба да означи завршетак утакмице?

- а) Само записничар
- б) Само судија у пољу
- ц) Само делегат
- д) Само један од судија
- е) Само мерилац времена
- ф) Мерилац времена, делегат или један од судија

17.3) ЦРНИ 2 направи прекршај. Судија у пољу досуђује дисквалификацију ЦРНОГ 2 (црвени картон показан од стране судија) и слободно бацање. Судија код гола досуђује 2 минута искључења против ЦРНОГ 2 и седмерац. Како треба казнити играча и како наставити утакмицу?

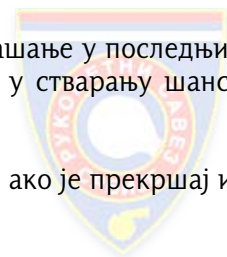
- а) 2 минута икључења против ЦРНОГ 2
- б) Дисквалификација ЦРНОГ 2 (црвени картон показан од стране судија)
- ц) Слободно бацање
- д) Седмерац

17.4) У случају недоумице, ко одлучује о тачности мерења времена?

- а) Мерилац времена и записничар
- б) Судије доносе заједничку одлуку
- ц) Мерилац времена
- д) Судије и мерилац времена доносе заједничку одлуку

17.5) Које казне треба образложити у записник утакмице?

- а) Све дисквалификације, осим оних након трећег искључења на 2 минута
- б) Све казне, осим опомена
- ц) Сва искључења и све дисквалификације
- д) Дисквалификације за опасне прекршаје или грубо неспортско понашање у последњих 30 секунди утакмице, ако је то имало за циљ да спречи противника у стварању шансе за постизање гола
- е) Дисквалификације због екстремно неспортског понашања
- ф) Сваку прогресивну казну за време последњих 30 секунди утакмице, ако је прекршај имао за циљ да спречи противника у стварању шансе за постизање гола



17.6) Коме је допуштено да се обраћа судијама за време игре?

- а) Сваком играчу
- б) Сваком званичнику
- ц) Одговорном представнику екипе
- д) Капитену екипе

17.7) Судије имају различито мишљење о преосталом времену до краја утакмице. Судија код гола, који је првоименовани судија, мисли да је остало 50 секунди, док судија у пољу каже 42 секунде. Исправна одлука?

- а) Примењује се дуже време - 50 секунди
- б) Првоименовани судија одлучује - 50 секунди
- ц) Судија у пољу одлучује - 42 секунде
- д) Судије треба да донесу заједничку одлуку

17.8) Који судија је на почетку утакмице у пољу, а који код гола?

- а) Првоименовани судија је судија у пољу
- б) Првоименовани судија је судија код гола
- ц) Судије ће жребати да одлуче ко ће где бити
- д) Судије су слободне да одреде ко ће где бити

17.9) Судије су се мимоишле у одлукама, после судара између два играча. Судија у пољу показује прекршај у нападу, док судија код гола указује на прекршај одбрамбеног играча. Исправна одлука?

- а) Одлука судије код гола се поштује
- б) Одлука судије у пољу се поштује
- ц) Судије се договарају и долазе до заједничке одлуке
- д) Обавезан тајм-аут
- е) Тајм-аут је обавезан само ако је заједничка одлука против екипе која је у нападу
- ф) Тајм-аут није обавезан ако судије користе електронску опрему за међусобну комуникацију

ПРАВИЛО 18

18.1) Шта Правила игре прописују у погледу поделе посла између мериоца времена и записничара?

- а) Контролу уласка и изласка замена врши само мерилац времена
- б) Генерално, само мерилац времена треба да прекине игру, када је то неопходно
- ц) Записничар мора да свира када уочи да је замена ушла на терен прерано
- д) Ако нема јавног мерења времена, мерилац времена информисе екипе о времену игре или о томе колико је још времена остало да се игра
- е) Рачунање броја напада када је играч у обавези да паузира 3 напада, после указане медицинске помоћи на терену, је заједнички задатак за мериоца времена и записничара

18.2) БЕЛИ 5 је у јасној ситуацији за постизање гола. Званичник А БЕЛЕ екипе вређа мериоца времена. Мерилац времена свира баш када је БЕЛИ 5 спреман да шутира. Ову ситуацију је регистровао само мерилац времена. Исправна одлука?

- а) Слободно бацање за ЦРНУ екипу
- б) Казна против званичника А БЕЛЕ екипе
- ц) Слободно бацање за БЕЛУ екипу
- д) Седмерац за БЕЛУ екипу
- е) Писани извештај

18.3) Одговорни представник БЕЛЕ екипе вређа записничара, а да то судије и делегат нису приметили. Када је игра следећи пут прекинута, записничар обавештава судије о томе што се догодило. Исправна одлука?

- а) Дисквалификација одговорног представника БЕЛЕ екипе; Писани извештај (црвени и плави картон показани од стране судија)
- б) 2 минута искључења против одговорног представника БЕЛЕ екипе
- ц) Писани извештај
- д) опомена одговорном представнику БЕЛЕ екипе
- е) Лична казна није могућа

18.4) БЕЛА екипа има лопту на линији 9 метара ЦРНЕ екипе. Технички делегат прекида игру и објашњава судијама да га је званичник А ЦРНЕ екипе вређао. Исправна одлука?

- а) Упозорење званичнику А ЦРНЕ екипе, писани извештај
- б) Дисквалификација званичника А ЦРНЕ екипе, писани извештај (црвени и плави картон показани од стране судија)
- ц) Игра се наставља слободним бацањем за БЕЛУ екипу код простора за замену играча ЦРНЕ екипе
- д) Игра се наставља слободним бацањем за БЕЛУ екипу са линије слободног бацања ЦРНЕ екипе



- 18.5) БЕЛА екипа има лопту на линији слободног бацања ЦРНЕ екипе. Мерилац времена прекида утакмицу и каже судијама да га је званичник А БЕЛЕ екипе вређао. Ову ситуацију је регистровао само мерилац времена. Исправна одлука?**
- а) Писани извештај
 - б) 2 минута искључења против званичника А БЕЛЕ екипе, писани извештај
 - ц) Игра се наставља слободним бацањем за ЦРНУ екипу, код простора за замену играча БЕЛЕ екипе
 - д) Игра се наставља слободним бацањем за БЕЛУ екипу, са линије слободног бацања ЦРНЕ екипе
- 18.6) За време утакмице одговорни представник БЕЛЕ екипе више пута долази кроз до записничког стола и одатле саветује своје играче на терену. Док то чини, он протестује против одлука судија. Услед буке у хали судије то нису приметиле. Исправна одлука?**
- а) Мерилац времена тренутно прекида игру и обавештава судије о лошем понашању одговорног представника БЕЛЕ екипе
 - б) Мерилац времена чека следећи прекид игре и обавештава судије о лошем понашању одговорног представника БЕЛЕ екипе
 - ц) Прогресивна казна против одговорног представника БЕЛЕ екипе
 - д) Казна није могућа
- 18.7) Када треба мерилац времена/записничар да информише судије о прекршајима правила о простору за замену играча, које судије нису регистровале?**
- а) Тренутно
 - б) У време следећег прекида игре
- 18.8) Ако технички делегат прекине игру, због прекршаја учињеног од стране БЕЛЕ екипе, да ли се игра наставља поседом лопте за ЦРНУ екипу?**
- а) Да
 - б) Не

ПРАВИЛА О ПРОСТОРУ ЗА ЗАМЕНУ ИГРАЧА

ППЗИ.1) Колико би требало да буде и растојање између средишње линије и почетка клупе за резервне играче?

- а) 1 метар
- б) 2 метра
- ц) 3 метра
- д) 3,5 метра

ППЗИ.2) Званичник А БЕЛЕ екипе је већ имао опомену док је седео на клупи. Он сада напушта простор за замену играча и седе у публику. Са ове позиције он наставља да протестује на одлуке судија. Исправна одлука?

- а) Даља акција није могућа
- б) 2 минута искључења против званичника А БЕЛЕ екипе
- ц) Дисквалификација званичника А БЕЛЕ екипе (црвени картон показан од стране судија)
- д) Дисквалификација званичника А БЕЛЕ екипе, писани извештај (црвени и плави картон показани од стране судија)
- е) БЕЛА екипа ће бити редукована за једног играча у пољу на 2 минута



КАТАЛОГ ПИТАЊА ИЗ ПРАВИЛА РУКОМЕТНЕ ИГРЕТачни одговори

Датум издавања 16.08.2019 (ИХФ ажурирана верзија каталога)

Питања	Одговори	Правило на које се односи
1.1)	а	1:1
1.2)	б	1:2
1.3)	ц	1:3
2.1)	а, д	2:7, 12:1, 15:5б
2.2)	д	2:7
2.3)	б, д	2:7, 12:1, 15:5б
2.4)	а, ц, е	2:5, 4:5, 16:3а
2.5)	ц	2:4, 15:5
2.6)	ц	2:4, 14:1а
2.7)	б	2:4
2.8)	б	2:4
2.9)	д	2:3
2.10)	ц	2:2, коментар
2.11)	а, б, е	2:5, 4:5, 16:3а
2.12)	ц, д	2:4, 8:10а, 14:1а, 16:6б
2.13)	а, ц	2:9 коментар, 9:2
2.14)	б, ц, д	2:9, Објашњење 3
2.15)	б, д	2:8, Објашњење 2
2.16)	б, д	2:7, 15:5б
2.17)	б, ц	2:2
2.18)	а, д	2:8, 4:5
2.19)	а, ц, д	2:2 коментар, 4:11, 16:5, 16:6б, 16:10
2.20)	ц	2:3, 2:4, 11:1
2.21)	б, е	2:8, 8:7а, 16:3д
2.22)	б, ц	2:2 коментар, 16:5
2.23)	а, е	2:4, 2:5, 2:9 коментар, 4:5, 9:1, 3. став
2.24)	б	2:2 коментар, 16:3д
2.25)	а, б, ц, д, е	2:8
2.26)	ц, е, ф	2:4, 8:6, 14:1а, 16:6а
2.27)	д, е	2:5
2.28)	а, ц, д	2:5, 13:8
2.29)	б, ц, е, ф	2:9, 2:9 коментар, 13:4а, 15:5б, Објашњење 3, 10. став
2.30)	б, ф	2:7, 13:4б
2.31)	б, е	2:7, 13:4а



2.32)	б, е	2:7, 13:4б
2.33)	а, б, ц	2:8, 8:7ц, 15:9, 16:1б, Објашњење 2ц
2.34)	а, ц, е	2:8, Објашњење 2
2.35)	а	Објашњење 3
2.36)	б, д, е	2:10, Објашњење 3
2.37)	ц	2:10, Објашњење 3
2.38)	б, д	6:5, Објашњење 3
2.39)	д	Објашњење 3
2.40)	а	2:8, 2:10, Објашњење 3
2.41)	а, д	2:8, 2:9 коментар, Објашњење 3
2.42)	а	2:2 коментар
2.43)	б, ц	2:10, Објашњење 3
2.44)	а, д, е, ф	2:10, Објашњење 3
2.45)	б, д	Објашњење 3, 2:10
2.46)	б, е	2:10, 13:4, Објашњење 3
2.47)	а, ц, д	2:10, 6:5, Објашњење 3
2.48)	б, е	2:10, 13:4, Објашњење 3
2.49)	а, ц, д	2:10, Објашњење 3, у вези са 2:4
3.1)	д	3:1
3.2)	ц	3:2
3.3)	д	3:2
3.4)	ц	3:4
4.1)	ц	4:1, 4:3
4.2)	а	4:1
4.3)	д, е	4:2
4.4)	а	4:1
4.5)	а	4:3
4.6)	ц, д	4:3, 16:1б
4.7)	а, д	4:5, 13:3, 16:3а, Објашњење 7
4.8)	ц, д	4:3, 13:3, 13:4
4.9)	б	4:11
4.10)	д, е	4:2, 16:3е
4.11)	д	4:4, 4:6, 16:3а
4.12)	д, е	4:2, 4:11
4.13)	а	4:1
4.14)	а, ц	4:4, 4:5, 13:6, 16:3а
4.15)	б, д	4:5, 13:3, 16:3а
4.16)	б, д	4:5, 13:3, 16:3а
4.17)	а, ц	4:5, 13:3, 16:3а
4.18)	б	4:1, 4:8
4.19)	ц, е	4:5, 13:3, 16:3а
4.20)	б, д	4:1, 4:5, 13:3, 16:3а
4.21)	б	4:5, 13:2, 14:2, 16:3а
4.22)	а, ц, е	4:6, 13:1а, 16:3а
4.23)	а, ц	4:6, 13:1а, 16:3а
4.24)	ц	4:6, 16:3а



4.25)	ц, д	4:1, 4:5, 13:1, 16:3а
4.26)	а, е	4:10, 8:7, 16:1б
4.27)	а, д	4:5, 14:1а, 16:3а, Објашњење 7
4.28)	а	4:4 коментар
4.29)	ц	4:2, 8:7, 16:3е
4.30)	а, б, ф	4:11, 8:6б, 13:3, 16:6а, 16:8
4.31)	а, б, д	4:2, 13:1
4.32)	а	4:7, 4:8, 4:9
4.33)	а, д	4:6, 16:3д
4.34)	б, д, е, ф	4:2, 4:3
4.35)	ц	4:11
4.36)	д	4:2, 16:3е
4.37)	б, ц	4:4, 4:11
4.38)	а, б, д	4:6, 16:3а
4.39)	б, ц	4:6
4.40)	б, ц, е, ф	4:3, 9:1, 9:2
4.41)	б, д, е, ф	4.11 – Објашњење 8
4.42)	б	4.11 – Објашњење 8
4.43)	б, ц, д, г, и	2:8, 4:5, 4:11, 13:2, 14:1, Објашњење 8
4.44)	ц	4.11 -Објашњење 8
4.45)	б, ц, д, ф	2.8, 4.11, 8.4, 16.3ц, Објашњење 8
4.46)	б, ц, е, ф	2.8, 4.11, 8.4, 16.3ц, Објашњење 8
4.47)	б, ц	4.11, 8:7, 16.1б, Објашњење 8
4.48)	а	4.11, Објашњење 8
4.49)	а, ц	4.11, Објашњење 8
4.50)	ц	4:11 трећи став
4.51)	ц	4.11, Објашњење 8
4.52)	б	4.11, Објашњење 8
4.53)	б	4.11, Објашњење 8
4.54)	б	4.11, Објашњење 8
4.55)	б	4.11, Објашњење 8
4.56)	б	4.11, Објашњење 8
4.57)	б, д, ф	4:9, Прописи о додатној опреми и заштитама
4.58)	а, д	4:7, 4:9, Тумачења
4.59)	а, д, е	4:3, 4:7, 4:8, Нова тумачења
4.60)	а, б, д	2:8, 4:5, 13:1а
4.61)	а, ц, д	2:8, 4:5, 14:1
5.1)	ц	1:3, 5:6, 12:1, 12:2, 15:5б
5.2)	ц	1:3, 5:3, 5:9, 6:2б, 13:1а
5.3)	ц	5:6
5.4)	б	5:10, 13:1а
5.5)	б	5:10, 13:1а
5.6)	ц	5:10, 13:1а
5.7)	а	5:10, 12:1
5.8)	д	5:3, 5:6, 15:7
5.9)	д	5:9, 6:1, 13:1а



5.10)	а	5:3
5.11)	б	5:3, 7:6, 13:6, 15:1
5.12)	ц	5:9, 13:1а
5.13)	а	5:7, 5:8
6.1)	д	1:3, 6:5, 12:1
6.2)	б	6:5, 12:1
6.3)	а	6:5
6.4)	а	6:5
6.5)	д	6:7б, 13:1а
6.6)	ц	6:7б, 13:1а
6.7)	ц	6:7б, 13:1а
6.8)	а, д	6:2ц, 8:7ф, 14:1а, 16:1б
6.9)	б	6:2ц, 14:1а, Објашњење б.а
6.10)	ц	5:3, 5:6, 6:7б
6.11)	ц	5:3, 5:6, 6:7б
6.12)	б	6:2а, 12:1
6.13)	а, б	4:5, 6:5, 2. став, 13:3, 16:3а
6.14)	а, б, ц	6:2а, 12:1
6.15)	б	6:7б
6.16)	б, ц, д	2:8а, 4:5, 6:4, 12:1, 13:3
6.17)	б	5:3, 6:7ц
6.18)	б	6:5
6.19)	б, ц	4:5, 6:5, 1. став, 16:3а
6.20)	б	13:1б
6.21)	а	6:1, 1:3
6.22)	б	6:2а
6.23)	д	6:3, 11:1
6.24)	б, ц	6:2, 8:7ф, 14:1а, Објашњења
7.1)	б	7:10, 11:1
7.2)	а	7:1
7.3)	б	7:3а
7.4)	а	7:3д
7.5)	б	7:3
7.6)	б	7:3, 7:4, 7:7
7.7)	ц	7:4б
7.8)	б	7:6
7.9)	б	7:7, 13:1а
7.10)	б	7:7, 13:1а
7.11)	ц	7:7, 13:1а
7.12)	б	7:9, 11:1
7.13)	д	7:9, 15:2
7.14)	а	7:4, 8:1а
7.15)	ц	7:10, 8:1ц, 13:1а
7.16)	а	7:1
7.17)	б	7:10
7.18)	б	7:12



7.19)	б	7:1, 7:6
7.20)	б	7:8
7.21)	а	7:1, 7:3 коментар
7.22)	б	7:11, Објашњење 4
7.23)	а	7:11, 7:12, Објашњење 4.Б.2
7.24)	а, б	Објашњење 4.Ц
7.25)	б, ц, д	Објашњење 4
7.26)	д	7:11, 7:12, Објашњење 4.Б.Б1
7.27)	а, д, е	Објашњење 4
7.28)	б, ц, д, е	7:11, Објашњење 4
7.29)	ц	7:11-12, Објашњење 4, Додатак 3 Сугестије за препознавање додавања приликом најаве пасивне игре
7.30)	б	7:11-12, Објашњење 4, Додатак 3 Сугестије за препознавање додавања приликом најаве пасивне игре
7.31)	ц	7:11-12, Објашњење 4
7.32)	ц	7:11-12, Објашњење 3, Додатак 3 Сугестије за препознавање додавања приликом најаве пасивне игре
7.33)	б, ц	7:11-12, Објашњење 3, Додатак 3 Сугестије за препознавање додавања приликом најаве пасивне игре
7.34)	ц	7:11, 7:12, Објашњење 4д, Нова тумачења
8.1)	ц, е	4:6, 8:10б, 14:1а, 16:6б
8.2)	а, д, е	4:3, 8:10б, 14:1а, 16:1б, 16:6а, 16:6б
8.3)	а, ц	8:7а, 16:3е, 16:10
8.4)	а, ц, ф	4:5, 8:10а, 16:3а, 16:6д, 16:8, 16:9ц
8.5)	д	4:6, 8:10б, 14:1а, 16:6б, 16:8
8.6)	ц	8:1ц
8.7)	б, е	8:2а, 14:1а
8.8)	б, ц	8:5 коментар, 14:1а, 16:6а, Објашњење 6б
8.9)	а, б	8:3, 13:1б, 16:3б
8.10)	б, д	8:5, 14:1а, 16:6а
8.11)	а, ц	8:3, 13:1б, 16:1а
8.12)	б, е	8:4б, 14:1а, 16:3ц
8.13)	а, б	8:5, 8:6, 16:6а
8.14)	а, ц, е, ф	2:8а, 8:10б, 14:1а, 16:6б
8.15)	б, е, ф	8:10б, 14:1а, 16:6б
8.16)	б, ц	8:10а, 8:10б, 16:6б
8.17)	ц, д	8:10а, 16:6б, 16:8, 16:11б
8.18)	ц, д	8:7а, 16:1б
8.19)	б, д	8:10а, 16:6б
8.20)	а	8:3, 16:3б
8.21)	а	4:6, 8:7е, 8:8б, 8:9, 16:6б
8.22)	б, д	8:5, 13:1б, 16:6а, Објашњење 6
8.23)	б, е	8:10, 16:6б
8.24)	д	8:10а, 16:8
8.25)	д	8:6б, 16:6а
8.26)	ц	8:10а, 16:6б, 16:11б, 17:10
8.27)	д	8:10а, 16:6а, 16:11б, 17:10



8.28)	а, ц	8:5, 13:1б, 16:6а
8.29)	б, ц, д, е	8:5, 8:9а, 8:9д, 16:6а, б
8.30)	а, б, д	2:8а, 4:11, 8:6а, 16:6а, 17:2, 17:10
8.31)	а, б, д	8:3, 8:7ц, 8:8б, 14:10, 16:1б, 16:3ц
8.32)	ц, д, е	8:7
8.33)	а, б, д	8:5, 8:6, 8:9ф
8.34)	б, д	8:10ц, 10:3, 15:2, 16:6б
8.35)	а, ц, е, ф	2:8а, 8:7а, 16:3д
8.36)	ц, ф	8:5 коментар, 14:1а, 16:6а
8.37)	д, ф	8:10, 16:6б
8.38)	ц, д	2:8, 8:7а, 8:10а, 16:6б, 16:8, Правила о простору за замену играча 5
8.39)	б, д, е	8:7ц, 12:2, 15:4, 15:9, 16:1б, 16:3д
8.40)	а, ц	6:5, 8:2, 8:3, 12:1
8.41)	ц	8:8а, 16:3ф
8.42)	ц	8:9, 16:6б
8.43)	а, б, д	2:8, 8:4б, 9:1, 10:2, 16:3ц
8.44)	ц, е	8:5 коментар, 14:1а, 16:6а, Објашњење бц
8.45)	а, б, е, ф	8:9а, 8:9д, 8:10а
8.46)	ц, е	8:5 коментар 2. став, 14:1, 14:2, Разјашњења и тумачења
8.47)	ц	4:1, 8:1, 8:2, 14:1а, Објашњење бц
8.48)	ц, д, е	2:8, 4:1, 8:4б, 14:1а, 16:3ц, Објашњење бц
8.49)	б	4:1, 8:2, 13:1б
8.50)	а, б, е	2:8, 4:1, 4:4-6, 12:1 (II)
8.51)	ц, д	4:1, 8:7, 14:1а, 16:1б, 16:3д
8.52)	а, ц	2:8, 4:1, 12:1, 12:2
8.53)	а, ц	4:1, 4:4-5, 13:1б
8.54)	а, д	4:1, 4:4-5, 14:1
8.55)	а, д	4:1
8.56)	б, д	8:4б, 13:1б, 16:3ц
8.57)	ц, е	2:4, 8:5а, 8:10д, 16:6а
8.58)	а, д, е	2:8, 8:5а, 13:1б, 16:6а
8.59)	а, ц, е	2:8, 8:10ц
8.60)	а, ц	2:8, 8:7, 15:7, 15:9, 16:3д
8.61)	б, д	2:8, 8:10ц
8.62)	б, д, ф	2:8, 8:10ц
8.63)	а, б, ф	2:8, 8:9, 10:2
8.64)	б, д	2:4, 2:5, 2:6, 15:2, 15:4, 15:9, 16:3
8.65)	б, ц, д	2:8, 8:5 коментар и Тумачења, 14:1а
8.66)	б, д	8:10ц и Тумачења
8.67)	а	2:3, 2:4, Тумачења 8:10ц
8.68)	а, д, ф	2:8, 8:10ц, Нова тумачења
8.69)	а, д, ф	2:8, 8:10ц, Нова тумачења
8.70)	а, ц, е	2:8, 8:10ц, Нова тумачења
8.71)	б, е, ф	2:8, 8:5, 8:10д, 14:2, Нова тумачења
8.72)	б, ц, ф	2:8, 8:5, 8:10д, 14:2, Нова тумачења
8.73)	б, ц, е, ф	2:8, 8:10д, Тумачења 8:10д, 14:2



9.1)	б, д	7:8, 9:1, 13:2, 16:1б
9.2)	б	7:8, 9:1, 13:2
9.3)	д	6:3б, 9:1, 13:2
9.4)	ц	6:4, 9:1, 12:1
9.5)	ц	9:1, 14:2
9.6)	б, д	9:1, коментар
9.7)	ц, е	9:1, коментар
9.8)	б, ц	4:6, 9:1, 9:2, 16:3а
9.9)	а	9:1, 15:2
9.10)	а, ц	8:7е, 9:1, 16:1б
10.1)	а	10:1
10.2)	б	10:1
10.3)	ц	10:3
10.4)	а	10:3, 15:1, 15:6
10.5)	ц	9:1, 10:4, 15:2
10.6)	б, д, е	10:3, 15:2, 15:3, 15:4
10.7)	б	10:3, 15:7
11.1)	д	11:4, 15:1, 15:5
11.2)	а	11:4, 15:2
11.3)	а	11:4, 15:1, 15:5
11.4)	б	11:1
11.5)	б, ц	11:5, 13:8, 15:4
11.6)	а	11:1
12.1)	ц	1:3, 12:2
12.2)	б, ц	1:3, 12:1, 14:9
12.3)	ц	12:1
12.4)	д	12:2, 15:5б
12.5)	б	12:2
12.6)	б	12:2
12.7)	а	12:1 – Сигнализација
12.8)	а	12:2
12.9)	ц, д	12:2
12.10)	а	12:2
12.11)	д	9:1, 12:2, 15:2
13.1)	а, б, е	8:8б, 13:5, 15:5б, 16:3ф
13.2)	б, ц, д	2:8а, 8:3, 13:2, 16:3б
13.3)	б, д	8:8б, 13:5, 13:6 коментар, 16:3ф
13.4)	а, д	8:8б, 13:5, 16:3ф
13.5)	а	8:7а, 13:1а, 13:6, 16:1б
13.6)	а	13:4а
13.7)	ц, д	4:11, 13:4б, Објашњења 2 и 8
13.8)	ц	8:8б, 13:5, 13:6 коментар, 16:3ф
13.9)	б, ц	4:5, 13:3, 16:3а



13.10)	б, ц, д	7:11, 13:6, 13:6 коментар
13.11)	б, д	13:4а
13.12)	а, ц	8:7, 13:6, Правила о простору за замену играча 5+6
13.13)	б	13:7, 15:1, 15:5б
13.14)	б, ц, д	13:4
13.15)	а, д	8:3, 8:4, 13:3
14.1)	б	2:8а, 8:10а, 14:1ц, 16:6б
14.2)	ц	14:1а, 15:2
14.3)	ц	14:6
14.4)	б, д	8:3ц, 14:1а, 16:1а
14.5)	ц	13:1а, 14:7, 15:7
14.6)	ц	14:8
14.7)	д	14:10, 16:1б
14.8)	а	6:2ц, 14:1а, Објашњење б
14.9)	б	13:1а, 14:7, 15:7
14.10)	б, ц	8:7ф, 14:1а, 16:1б, Објашњење ба
14.11)	ц, д	8:2ц, 14:1а, Објашњење ба
14.12)	б, е	14:1ц
14.13)	б, ц	2:3, 14:1б, Објашњење ба
14.14)	а	14:3, 14:5, 14:8, 14:9
14.15)	а, ц	6:2ц, 8:7ф, 14:1а, 16:3а
14.16)	б, д, е	14:1ц, Објашњење 2а
14.17)	ц	6:4, 12:1, 13:2, 14:7
14.18)	а	13:2, 14:4, 15:2
14.19)	а, б	8:5, 13:1б, Објашњење б
14.20)	а	8:2, 8:3, Објашњење бц, Нова тумачења
14.21)	б, ц, д	2:8, 8:4е, 14:1, Објашњење бц, Нова тумачења
14.22)	б, е	8:7ц, 14:1, Објашњење бц, Нова тумачења
14.23)	б, д, ф	2:8, 8:4б, 14:1, Објашњење бц, Нова тумачења
15.1)	а	12:2, 15:2
15.2)	ц	5:2, 12:2, 15:5б
15.3)	б, д	13:1а, 13:7, 15:7
15.4)	ц, д	12:1, 12:2, 15:5, 15:9, 16:1а
15.5)	б	15:2
15.6)	б	12:1, 12:2, 15:2
15.7)	б	9:1, 15:2
15.8)	ц	7:9, 13:1а, 15:2
15.9)	а	15:2
15.10)	а	15:5б, 15:9, 16:1а, 16:3б
15.11)	а	13:7, 15:5б, 15:7
15.12)	ц	15:2
15.13)	ц	8:7ц, 15:4, 15:9, 16:3д, 16:5, 16:6д
15.14)	д	13:7, 15:7
15.15)	а, б	13:3, 15:1, 15:7
15.16)	ц	12:2, 13:1а, 15:2



15.17)	а	15:1, 15:2
15.18)	д	6:4, 12:1, 12:2, 15:2
15.19)	ц	15:2, 15:7
15.20)	е	2:3, 2:4, 15:5а
15.21)	б, ц	13:7, 15:1, 15:5, 15:6, 15:7, 2. став
15.22)	а	12:2, 15:2
15.23)	а	15:2, 15:7, 15:8
15.24)	ц	15:5б, 15:7
15.25)	а	13:2, 15:7, 2. став
16.1)	ц	16:9
16.2)	ц	8:10а, 16:6б, 16:9ц
16.3)	б	16:1 коментар
16.4)	ц	16:5
16.5)	а	16:4
16.6)	а, б	4:5, 8:10а, 16:3а, 16:6б, 16:6д, 16:9б
16.7)	а, д	8:10а, 16:6б, 16:9ц
16.8)	д, е	8:10а, 16:6б, 16:9ц
16.9)	а, б, д	4:2, 8:9, 16:1б, 16:6б, 16:9ц
16.10)	ц	16:11б
16.11)	а	8:6, 16:6а, 16:10, 17:10
16.12)	ц, д	8:10а, 16:6б, 16:10, 17:10
16.13)	б	8:9, 16:10, 16:6б
16.14)	ц	16:11ц
16.15)	а, б	8:10а, 16:6, 16:10
16.16)	б	16:9б
16.17)	б, д	16:3д, 16:5, 16:10
16.18)	ц, е, ф	4:11, 16:3е, 16:3 коментар, Објашњење 8ц
16.19)	е	8:10а, 16:9д
16.20)	б	8:7а, 16:3д, 16:9а
16.21)	а, б, ц, д, е	16:9
16.22)	б, е	8:10а, 16:3а, 16:6д, 16:9д
16.23)	д	16:6ц
17.1)	ц, д	2:8д, 17:7
17.2)	ф	2:3, 17:9
17.3)	б, д	17:6
17.4)	б	17:9
17.5)	е	8:5, 8:10а-8:10д, 16:6, 17:10
17.6)	ц	4:2, 17:11
17.7)	д	17:9
17.8)	д	17:1
17.9)	ц, д	17:7
18.1)	б, д, е	18:1, 18:2
18.2)	ц, е	Објашњење 7
18.3)	ц, е	18:1, Објашњење 7Ба



18.4)	б, д	8:10а, 13:6, 16:6б, Објашњење 7.Бб, Правила о простору за замену играча 5
18.5)	а, д	13:4а, Објашњење 7.Б.а
18.6)	б, д	Објашњење 7Б, Правила о простору за замену играча 5
18.7)	б	Објашњење 7.Ба
18.8)	а	Објашњење 7.Бб
ППЗИ.1)	д	Правила о простору за замену играча 1
ППЗИ.2	б, е	8:7а, 16:3е, Правила о простору за замену играча 5+6



